

Testdate **18 Dec 2021** ▼
 TestSlot **Shift 1** ▼

Submit

Q.No: 1 What is the Madalapanji a chronicle of?
2419222

मदालपंजी किसका वृत्तान्त है?

The Dakshineswar Temple

A

दक्षिणेश्वर मंदिर

The Jagannath Temple of Puri

B

पुरी का जगन्नाथ मंदिर

The Mamallapuram Temple

C

मामल्लापुरम मंदिर

The Khajuraho Temples

D

खजुराहो मंदिर

Correct Ans : **B**

Q.No: 2 The famous novel "Sonar Kella" is based on the Jaisalmer Fort. Who was the writer of this novel?
2419229

प्रसिद्ध उपन्यास "सोनार केला" जैसलमेर किले पर आधारित है। इस उपन्यास के लेखक कौन थे?

Satyajit Ray

A

सत्यजीत रे

Sunil Gangopadhyay

B

सुनील गंगोपाध्याय

Bibhutibhushan Bandopadhyay

C

विभूतिभूषण बंदोपाध्याय

Upendrakishore Ray Chowdhury

D

उपेन्द्रकिशोर रे चौधरी

Correct Ans : **A**

Q.No: 3 In which year was the Red Fort designated a UNESCO World Heritage site?
2419237

लाल किले को किस वर्ष यूनेस्को की विश्व धरोहर स्थल नामित किया गया था?

1992

A

1992

1998

B

1998

2007

C

2007

2011

D

2011

Correct Ans : **C**

Q.No: 4 Yield is measured as which of the following?
2419303

उपज को निम्न में से किसके रूप में मापा जाता है?

A Crop produced on a given piece of land during a single season.

एक ही मौसम के दौरान किसी दिए गए भूमि के टुकड़े पर उत्पादित फसल।

Crop produced in a particular village during a single season.

B

एक ही मौसम के दौरान एक विशेष गांव में उत्पादित फसल।

Total quantity of one crop in the entire country grown in one season.

C

पूरे देश में एक मौसम में उगाई जाने वाली एक फसल की कुल मात्रा।

Total quantity of all the crops in the entire country in one season.

D

एक मौसम में पूरे देश में सभी फसलों की कुल मात्रा।

Correct Ans : A

Q.No: 5 The Green Revolution was introduced in India in which of the following decades?

2419304

भारत में हरित क्रांति की शुरुआत निम्नलिखित में से किस दशक में हुई थी?

Late 1950's

A

1950 के दशक के अंत में

Late 1960's

B

1960 के दशक के अंत में

Late 1970's

C

1970 के दशक के अंत में

Late 1980's

D

1980 के दशक के अंत में

Correct Ans : B

Q.No: 6 The most devastating famine that occurred in India was the famine of Bengal. It occurred in which of the following years?

2419315

भारत में हुआ सबसे विनाशकारी अकाल बंगाल का अकाल था। यह निम्नलिखित में से किस वर्ष में हुआ था?

1943

A

1943

1945

B

1945

1949

C

1949

1951

D

1951

Correct Ans : A

Q.No: 7 Antyodaya Anna Yojana is applicable to who among the following?

2419319

अंत्योदय अन्न योजना निम्नलिखित में से किसके लिए लागू है?

Poor

A

निर्धन

Backward Class

B

पिछड़े वर्ग

Priority households

C

प्राथमिकता वाले घर

Poorest of Poor

D

निर्धनों में सबसे निर्धन

Correct Ans : D

Q.No: 8 'Deuce' and 'Advantage' are terms that are used in -
2419389

'ड्यूस' और 'एडवॉन्टेज' ऐसे शब्द हैं जिनका प्रयोग किया जाता है _____ में-

Badminton

A

बैडमिंटन

Hockey

B

हॉकी

Tennis

C

टेनिस

Ice-Hockey

D

आइस-हॉकी

Correct Ans : C

Q.No: 9 Where is the headquarters of the International Tennis Federation situated?
2419396

अंतर्राष्ट्रीय टेनिस महासंघ का मुख्यालय कहाँ स्थित है?

New York

A

न्यूयॉर्क

London

B

लंदन

Geneva

C

जिनेवा

Brussels

D

ब्रुसेल्स

Correct Ans : B

Q.No: 10 Which of the following is NOT a renewable resource?
2419460

निम्नलिखित में से कौन सा जैव संसाधन नहीं है?

Water

A

पानी

Forest

B

वन

Coal

C

कोयला

Soil

D

धरती

Correct Ans : C

Q.No: 11 Which of the following sources has most quantity of water in the world?
2419521

निम्नलिखित में से किस स्रोत में विश्व में जल की सर्वाधिक मात्रा है?

Ground water

A

भूजल

Fresh water lakes

B

मीठे पानी की झीलें

Ice caps

C

बर्फ की टोपियां

D

Atmosphere

वातावरण

Correct Ans : C

Q.No: 12 In which of the following years did Aurangzeb die?
2419549

औरंगजेब की मृत्यु निम्नलिखित में से किस वर्ष में हुई थी?

1658

A

1658

1673

B

1673

1707

C

1707

1719

D

1719

Correct Ans : C

Q.No: 13 The policy which came to be known as Doctrine of Lapse was devised by which of the following Governor General?
2419554

वह नीति जिसे विलय नीति के रूप में जाना जाने लगा, निम्नलिखित में से किस गवर्नर जनरल द्वारा तैयार की गई थी?

Lord Hardinge

A

लॉर्ड हार्डिंग

Lord Canning

B

लॉर्ड कनिंग

Lord Dalhousie

C

लॉर्ड डलहौजी

Lord Bentinck

D

लॉर्ड बेंटिक

Correct Ans : C

Q.No: 14 Who among the following wrote long Sanskrit poem containing the history of kings who ruled over Kashmir?
2419556

निम्नलिखित में से किसने कश्मीर पर शासन करने वाले राजाओं के इतिहास वाली लंबी संस्कृत कविता लिखी?

Kalhana

A

कल्हन

Yahya Sirhindi

B

याह्या सरहिंदी

Jayadeva

C

जयदेव

Chandbardai

D

चांदबरदाई

Correct Ans : A

Q.No: 15 Who out of the following has created the character of Sherlock Holmes?
2419622

निम्नलिखित में से किसने शर्लक होम्स के चरित्र का निर्माण किया है?

Arthur Conan Doyle

A

आर्थर कॉनन डॉयल

Edgar Allan Poe

B

एडगर एलन पो

C **Agatha Christie**

अगाथा क्रिस्टी

David Baldacci

D

डेविड बाल्डैकी

Correct Ans : **A**

Q.No: 16 Who is the author of the novel "Pride and Prejudice"?

2419630

"प्राइड एंड प्रेजुडिस" उपन्यास के लेखक कौन हैं?

Charlotte Bronte

A

चारलौते ब्रॉटे

Jane Austen

B

जेन ऑस्टेन

Louisa May Alcott

C

लुइसा मे अल्कोट

Virginia Woolf

D

वर्जीनिया वूल्फ

Correct Ans : **B**

Q.No: 17 Who is the author of the novel "The Golden Gate"?

2419642

"द गोल्डन गेट" उपन्यास के लेखक कौन हैं ?

Vikram Seth

A

विक्रम सेठ

Amitav Ghosh

B

अमिताभ घोष

Arundhati Roy

C

अरुंधति रॉय

Shantum

D

शान्तुम

Correct Ans : **A**

Q.No: 18 How many subjects does the Union List under the Constitution of India contain?

2419707

भारत के संविधान के तहत संघ सूची में कितने विषय हैं?

100

A

100**95**

B

95**82**

C

82**67**

D

67Correct Ans : **A**Q.No: 19 Which of the following Fundamental Rights was added to the Constitution of India by the 86th Constitutional Amendment Act?**2419711**

निम्नलिखित में से कौन सा मौलिक अधिकार 86वें संविधान संशोधन अधिनियम द्वारा भारत के संविधान में जोड़ा गया था?

A

Article 19(1)(f)

अनुच्छेद 19(1)(एफ)

Article 21(A)**B**

अनुच्छेद 21 (ए)

Article 24(B)**C**

अनुच्छेद 24 (बी)

Article 31(A)**D**

अनुच्छेद 31 (ए)

Correct Ans : **B**

Q.No: 20 Which of the following is not one of the eligibility criteria to be a voter in India?

2419725

निम्नलिखित में से कौन भारत में मतदाता होने के लिए पात्रता मानदंड में से एक नहीं है?

Must be a citizen of India**A**

भारत का नागरिक होना चाहिए

Must have a minimum literacy level**B**

न्यूनतम साक्षरता स्तर होना चाहिए

Must not be of unsound mind**C**

विकृत दिमाग का नहीं होना चाहिए

Must not have been declared bankrupt by a competent court.**D**

किसी सक्षम न्यायालय द्वारा दिवालिया घोषित नहीं किया गया होना चाहिए

Correct Ans : **B**

Q.No: 21 In which year did Malwa become a part of the Central Provinces?

2419909

मालवा किस वर्ष मध्य प्रांत का हिस्सा बना?

1817**A****1817****1839****B****1839****1861****C****1861****1900****D****1900**Correct Ans : **C**

Q.No: 22 On the occasion of Aalami Tableeji Ijtima, 'Jamaats' gather from all over the world. In which city of MP does it take place?

2419917

आलामी तब्लीजी इज्तिमा के मौके पर दुनिया भर से जमात जमा होते हैं। यह मग्न के किस शहर में मनाया जाता है?

Indore**A**

इंदौर

Gwalior**B**

ग्वालियर

Bhopal**C**

भोपाल

Jhansi**D**

झांसी

Correct Ans : **C**

Q.No: 23 The Alhait community of Bundelkhand had composed songs to inspire the warriors with accounts of heroic deeds of:

2419922

अपने योद्धाओं को प्रेरित करने हेतु बुंदेलखंड के अलहात समुदाय ने किस के वीर कर्मों से भरे गीतों की रचना की?

Mahrum Shah

A

महरूम शाही

Baaz Nahadur

B

बाज नाहादुरी

Alah Udul (or Udal)

C

आल्हा उदल

Gorakh Baaz

D

गोरख बाज़ी

Correct Ans : C

Q.No: 24 What is the capacity of the Rewa Ultra Mega Solar Power Project that was inaugurated by Prime Minister Narendra Modi in July 2020?
2419984

जुलाई 2020 में प्रधान मंत्री नरेंद्र मोदी द्वारा उद्घाटन किए गए रीवा अल्ट्रा मेगा सौर ऊर्जा परियोजना की क्षमता क्या है?

600 MW

A

600 मेगावाट

650 MW

B

650 मेगावाट

700 MW

C

700 मेगावाट

750 MW

D

750 मेगावाट

Correct Ans : D

Q.No: 25 Who out of the following from Madhya Pradesh became the first deaf and mute person to become a nurse?
2419987

निम्नलिखित में से कौन मध्य प्रदेश से नर्स बनने वाले प्रथम मूक-बधिर व्यक्ति बने?

Bulbul Panjre

A

बुलबुल पंजरे

Tara Chaudhary

B

तारा चौधरी

Shyamali Rane

C

श्यामली राणे

Harshita Kumar

D

हर्षिता कुमार

Correct Ans : A

Q.No: 26 In the following question, a part of the sentence may have an error. Find out which part of the sentence has an error and select the appropriate option. If a sentence is free from error, select 'No e
The legislation was driven by the desire to liberalise consumptions and cultivations.

A consumptions and cultivations.

B by the desire to liberalise

C The legislation was driven

D No error.

Correct Ans : A

Q.No: 27 In the following question, a part of the sentence may have an error. Find out which part of the sentence has an error and select the appropriate option. If a sentence is free from error, select 'No e
The walls of Golconda Fort in Hyderabad is being painted by some notable workers.

A The walls of Golconda Fort

B in Hyderabad is being painted

C by some notable workers.

D No error.

Correct Ans : **B**

Q.No: 28 In the following question, a part of the sentence may have an error. Find out which part of the sentence has an error and select the appropriate option. If a sentence is free from error, select No E

I found myself in a dilemma and didn't knew what to do for the best outcome.

- A **I found myself in a dilemma**
B **and didn't knew what to do**
C **for the best outcome.**
D **No error.**

Correct Ans : **B**

Q.No: 29 Select the most appropriate option to substitute the bracket segment in the given sentence. If no substitution is required, select No improvement.

His (access) to the throne was a turning point in history.

- A **acquisition**
B **acceptance of**
C **accession to**
D **No improvement**

Correct Ans : **C**

Q.No: 30 Select the most appropriate option to substitute the bracket segment in the given sentence. If no substitution is required, select No improvement.

You do not know the mechanism of computer properly, (isn't it)?

- A **Haven't you**
B **Do you**
C **Don't you**
D **No improvement**

Correct Ans : **B**

Q.No: 31 Select the most appropriate option to substitute the bracket segment in the given sentence. If no substitution is required, select No improvement.

Our Professor is an authority on the subject which he (had been teaching) since 1966.

- A **has been teaching**
B **is teaching**
C **was teaching**
D **No improvement**

Correct Ans : **A**

Q.No: 32 Out of the given options, choose the one which is the correct passive voice of the sentence given below.

Open the door.

- A **I ask you to open the door.**
B **You are being asked by me to open the door.**
C **Let the door be opened.**
D **Unlock the door please.**

Correct Ans : **C**

Q.No: 33 Select the correct active form of the given sentence.

She was seen sitting in the last row.

- A **We see her sitting in the last row.**
B **We saw her sitting in the last row.**
C **We had seen her sitting in the last row.**
D **We have seen her sitting in the last row.**

Correct Ans : **B**

Q.No: 34 In the following question, a sentence has been given in Active/Passive Voice. Out of the four alternatives suggested, select the one which best expresses the same sentence in Passive/Active Voice

Jaadu needs sunlight for his survival.

- A **Sunlight is needed for Jaadu for his survival.**
B **Sunlight is needed for his survival by Jaadu.**
C **Sunlight has needed by Jaadu for his survival.**
D **Sunlight is needed by Jaadu for his survival.**

Correct Ans : **D**

Q.No: 35 A sentence has been given in Active/ Passive Voice. Out of the four alternatives suggested, select the one which best expresses the same sentence in Passive/Active Voice.

Who lifted the furniture?

- A** By whom the furniture was lifted?
B By whom were the furniture lifted?
C By whom the furniture were lifted?
D Who has lifted the furniture?

Correct Ans : **A**

Q.No: 36 Out of the given options, choose the most appropriate word/set of words to fill in the blank.

Owls _____ in the daytime

- A** hide
B has hide
C have hide
D has hid

Correct Ans : **A**

Q.No: 37 Out of the given options, choose the most appropriate word/set of words to fill in the blank.

A policeman _____ the thief.

- A** caught
B have caught
C have catch
D has catch

Correct Ans : **A**

Q.No: 38 Out of the given options, choose the most appropriate word/set of words to fill in the blank.

After a long careers with the company, she _____ to the position of chief executive.

- A** has risen
B have rise
C has rise
D have rose

Correct Ans : **A**

Q.No: 39 Out of the given options, choose the most appropriate word/set of words to fill in the blank.

He discovered that his car had been_____.

- A** stolen
B steal
C steals
D stealing

Correct Ans : **A**

Q.No: 40 Select the most appropriate option to fill in the blanks.

I am _____ not in screen but in stage.

- A** senilities
B tarnished
C interested
D abeyance

Correct Ans : **C**

Q.No: 41 Select the most appropriate option to fill in the blanks.

His extravagances landed him in _____.

- A** wealthy
B glacial
C poverty
D heckler

Correct Ans : **C**

Q.No: 42 Select the most appropriate option to fill in the blanks.

My project manager has not a _____ of decency.

- A** sounds
B spark
C leads
D terms

Correct Ans : **B**

Q.No: 43 Select the most appropriate option to fill in the blanks.

My friend willingly _____ with my request for some financial assistance.

- A **mentioned**
- B **obtained**
- C **complied**
- D **finished**

Correct Ans : C

Q.No: 44 Select the most appropriate option to fill in the blanks.

Since play was so boring, I could hardly keep _____ from falling asleep.

- A **myself**
- B **them**
- C **himself**
- D **itself**

Correct Ans : A

Q.No: 45 Select the most appropriate option to fill in the blanks.

While the forest laws _____ people of their customary rights to hunt, hunting of big game became a sport.

- A **deprives**
- B **are deprived**
- C **have deprived**
- D **deprived**

Correct Ans : D

Q.No: 46 Select the most appropriate option to fill in the blanks.

Education policies adapted to local _____ are crucial elements for the structural adjustment.

- A **needing**
- B **needed**
- C **to need**
- D **needs**

Correct Ans : D

Q.No: 47 The question below consists of a set of labelled sentences. These sentences, when properly sequenced, form a coherent paragraph. Select the most logical order of the sentences from the given o

P. An Ox came down to a reedy pool to drink.

Q. As he splashed heavily into the water.

R. He crushed a young Frog into the mud.

- A **QPR**
- B **PQR**
- C **RQP**
- D **RPQ**

Correct Ans : B

Q.No: 48 The question below consists of a set of labelled sentences. These sentences, when properly sequenced form a coherent paragraph. Select the most logical order of the sentences from the given or

A. Neutron capture plays a significant role in the cosmic nucleosynthesis of heavy elements.

B. In stars it can proceed in two ways: as a rapid process (r-process) or a slow process (s-process).

C. Neutron capture is a nuclear reaction in which an atomic nucleus and one or more neutrons collide and merge to form a heavier nucleus.

D. Since neutrons have no electric charge, they can enter a nucleus more easily than positively charged protons, which are repelled electrostatically.

- A **BCDA**
- B **BDAC**
- C **CABD**
- D **BACD**

Correct Ans : C

Q.No: 49 Select the antonym for the given word.

CURSORY

- A **Thorough**
- B **Casual**
- C **Superficial**
- D **Offhand**

Correct Ans : A

Q.No: 50 Select the CORRECTLY spelt word.

- A **Humorous**
- B **Outragous**
- C **Orignal**

C

D **Occurrence**

Correct Ans : A

Q.No: 51 The image/jpg of an object is formed at infinity in concave mirror, is real and is highly enlarged in size. Where is the object located?
2420198

किसी वस्तु का प्रतिबिम्ब अवतल दर्पण में अनंत पर बनता है, वास्तविक होता है और आकार में बहुत बड़ा होता है। वस्तु कहाँ स्थित है?

Between Principal Focus (F) and Pole (P)

A

मुख्य फोकस (F) और ध्रुव (P) के बीच

At Principal Focus (F)

B

मुख्य फोकस (F) पर

Between F and 2F

C

F और 2F के बीच

At 2F

D

2F पर

Correct Ans : B

Q.No: 52 1 horse power (hp) is approximately equivalent to –
2420205

1 हॉर्स पावर (hp) लगभग बराबर है –

820 W

A

820 W के

746 W

B

746 W के

1000 W

C

1000 W के

789 W

D

789 W के

Correct Ans : B

Q.No: 53 Which of the following renewable energy sources involves burning of organic material?
2420207

निम्नलिखित में से किस नवीकरणीय ऊर्जा स्रोत में कार्बनिक पदार्थों को जलाना शामिल है?

Solar energy

A

सौर ऊर्जा

Wind energy

B

पवन ऊर्जा

Geothermal energy

C

भूतापीय ऊर्जा

Biogas energy

D

बायोगैस ऊर्जा

Correct Ans : D

Q.No: 54 In which of the following the Archimedes' Principle is used?
2420217

निम्नलिखित में से किसमें आर्किमिडीज के सिद्धांत का प्रयोग किया जाता है?

A Calculating the volume of an object that does not have a regular shape.

उस वस्तु की मात्रा की गणना करना जिसका नियमित आकार नहीं है।

Calculating the area of an object that does not have a regular shape.

B

उस वस्तु के क्षेत्र की गणना करना जिसका नियमित आकार नहीं है।

Calculating the length of an object that does not have a regular shape.

C

एक ऐसी वस्तु की लंबाई की गणना करना जिसका नियमित आकार नहीं है।

Calculating the smoothness of an object that does not have a regular shape.

D

एक ऐसी वस्तु की चिकनाई की गणना करना जिसका नियमित आकार नहीं है।

Correct Ans : A

Q.No: 55 Which of the following statements is NOT correct?

2420218

निम्नलिखित में से कौन सा कथन सही नहीं है?

All bodies experience buoyancy when they are immersed in a gas.

A

सभी निकायों को गैस में डुबोए जाने पर उछाल का अनुभव होता है।

Up thrust is not experienced by a body when immersed in a gas.

B

गैस में डुबोए जाने पर शरीर द्वारा उत्क्षेप का अनुभव नहीं किया जाता है।

The hydrometer (or lactometer) is based on Archimedes' principle, which states that a solid suspended in a fluid is buoyed by a force equal to the weight of the fluid displaced by the submerged part of the suspended solid.

C

हाइड्रोमीटर (या लैक्टोमीटर) आर्किमिडीज के सिद्धांत पर आधारित है, जिसमें कहा गया है कि एक तरल पदार्थ में निलंबित ठोस को निलंबित ठोस के जलमग्न भाग द्वारा विस्थापित द्रव के वजन के बराबर बल द्वारा उछाला जाता है।

Gas is also a kind of fluid.

D

गैस भी एक प्रकार का द्रव है।

Correct Ans : B

Q.No: 56 Which of the following is an abiotic component of Nature?

2420363

निम्नलिखित में से कौन प्रकृति का अजैविक घटक है?

Water

A

पानी

Plants

B

पौधा

Herbivores animal

C

शाकाहारी जानवर

Bacteria

D

जीवाणु

Correct Ans : A

Q.No: 57 Which of the following gases is the most inactive gas in the air?

2420365

निम्नलिखित में से कौन सी गैस हवा में सबसे अधिक निष्क्रिय गैस है?

Argon

A

आर्गन

Neon

B

नीयन

Nitrogen

C

नाइट्रोजन

Helium

D

हीलियम

Correct Ans : A

Q.No: 58 Which of the following gases are needed in the air to support the process of combustion?
2420366

दहन की प्रक्रिया का समर्थन करने के लिए हवा में निम्नलिखित में से कौन सी गैस की आवश्यकता होती है?

Helium

A

हीलियम

Oxygen

B

ऑक्सीजन

Xenon

C

क्सीनन

Crypton

D

क्रिप्टोन

Correct Ans : B

Q.No: 59 Which of the following molecules containing nitrogen combines to form protein?
2420371

निम्नलिखित में से कौन सा अणु नाइट्रोजन युक्त प्रोटीन बनाने के लिए संयोजित होता है?

Amino Acids

A

अमीनो अम्ल

Nucleic Acids

B

न्यूक्लिक एसिड

Lipids

C

लिपिड

Carbohydrates

D

कार्बोहाइड्रेट

Correct Ans : A

Q.No: 60 Which of the following is NOT always a Man-Made disaster?
2420382

निम्नलिखित में से कौन हमेशा मानव निर्मित आपदा नहीं है?

Depletion of Ozone layer

A

ओजोन परत का ह्रास

Global Warming

B

ग्लोबल वार्मिंग

Forest Fire

C

जंगल की आग

Deforestation

D

वनो की कटाई

Correct Ans : C

Q.No: 61 Which of the following is an example of an act of direct contact that can transmit a disease?
2420503

निम्नलिखित में से कौन सीधे संपर्क के एक कार्य का एक उदाहरण है जो किसी बीमारी को प्रसारित कर सकता है?

Using the comb of an infected person

A

संक्रमित व्यक्ति की कंघी का उपयोग करना

Shaking hands with a person suffering from cough and cold

B

खांसी और सर्दी से पीड़ित व्यक्ति से हाथ मिलाना

C

Driving a car to a hospital

एक अस्पताल में जाने के लिए एक कार ड्राइव करना

Using a handkerchief to cover the mouth while sneezing

D

छींकते समय मुंह को ढकने के लिए रूमाल का उपयोग करना

Correct Ans : B

Q.No: 62 Which of the following can NOT be spread by mosquitoes to people?

2420504

निम्नलिखित में से क्या मच्छरों से लोगों में नहीं फैल सकता है?

Japanese encephalitis

A

जापानी एन्सेफलाइटिस

Zika virus

B

जीका वायरस

Chikungunya virus

C

चिकनगुनिया वायरस

Ebola

D

इबोला

Correct Ans : D

Q.No: 63 Which of the following states/union territories has launched the Bhagidaari scheme which aims at eliciting people's participation in governance?

2420509

निम्नलिखित में से किस राज्य / केंद्र शासित प्रदेश ने भागीदारी योजना शुरू की है जिसका उद्देश्य शासन में लोगों की भागीदारी को बढ़ाना है?

Delhi

A

दिल्ली

Maharashtra

B

महाराष्ट्र

Punjab

C

पंजाब

Chhattisgarh

D

छत्तीसगढ़

Correct Ans : A

Q.No: 64 Which of the following is an example of an indirect method of transmission of pathogens?

2420511

निम्नलिखित में से कौन रोगजनकों के संचरण की एक अप्रत्यक्ष विधि का उदाहरण है?

Droplet infection

A

छोटी बूंद संक्रमण

Exposure to contaminated blood

B

दूषित रक्त के संपर्क में आना

Carrier like house-flies and cockroaches

C

घर-मक्खियों और तिलचट्टे की तरह वाहक

Infected mother to foetus

D

संक्रमित मां से भ्रूण

Correct Ans : C

Q.No: 65 Where do the Ascaris lumbricoides parasites live in humans?

2420515

मनुष्यों में एस्केरिस लुम्ब्रिकोइडिस परजीवी कहाँ रहता है?

Lungs

A

फेफड़े

B

Small Intestines

छोटी आंते

Liver

C

यकृत

RBCs

D

आर.बी.सी.

Correct Ans : **B**

Q.No: 66 Which of the following acids is majorly found in fruits like tamarind, grapes and unripe mangoes?

2420644

निम्नलिखित में से कौन सा अम्ल इमली, अंगूर और कच्चे आम जैसे फलों में प्रमुख रूप से पाया जाता है?

Formic acid

A

फॉर्मिक अम्ल

Citric acid

B

साइट्रिक अम्ल

Tartaric acid

C

टार्टरिक अम्ल

Formic acid

D

फॉर्मिक अम्ल

Correct Ans : **C**

Q.No: 67 Which of the following acids is majorly found in spinach?

2420647

निम्नलिखित में से कौन सा अम्ल पालक में प्रमुख रूप से पाया जाता है?

Tartaric acid

A

टार्टरिक अम्ल

Oxalic acid

B

ऑक्सालिक अम्ल

Formic acid

C

फॉर्मिक अम्ल

Lactic acid

D

लैक्टिक अम्ल

Correct Ans : **B**

Q.No: 68 Milk of magnesia contains -

2420650

मिल्क ऑफ मैग्नीशिया में होता है -

Magnesium hydroxide

A

मैग्नीशियम हाइड्रॉक्साइड

Sodium chloride

B

सोडियम क्लोराइड

Phosphorus sulphate

C

फास्फोरस सल्फेट

Boric acid

D

बोरिक एसिड

Correct Ans : **A**

Q.No: 69 Stainless steel is made by mixing Iron with _____ and metals like chromium, nickel and manganese.

2420656

स्टेनलेस स्टील, लोहे को _____ और क्रोमियम, निकल और मैंगनीज जैसी धातुओं के साथ मिलाकर बनाया जाता है।

Oxygen

A

ऑक्सीजन

Hydrogen

B

हाइड्रोजन

Carbon

C

कार्बन

Phosphorus

D

फास्फोरस

Correct Ans : C

Q.No: 70 Which of the following is an example of synthetic fibre?

2420661

निम्नलिखित में से कौन सिंथेटिक फाइबर का उदाहरण है?

Cotton

A

कपास

Wool

B

ऊन

Silk

C

रेशम

Spandex

D

स्पैण्डेक्स

Correct Ans : D

Q.No: 71 Cellulose is made up of a large number of _____ units.

2420663

सेल्यूलोज बड़ी संख्या में _____ इकाइयों से बना होता है।

Glucose

A

ग्लूकोज

Amino acids

B

एमिनो एसिड

Neoprene

C

नियोप्रीन

Butane

D

ब्यूटेन

Correct Ans : A

Q.No: 72 The joint between the upper jaw and the rest of the head is known as which of the following?

2420892

ऊपरी जबड़े और सिर के बाकी हिस्सों के बीच के जोड़ को निम्नलिखित में से क्या कहा जाता है?

Fixed Joint

A

अचल संधि

Pivotal Joint

B

धुराग्र संधि

Ball and Socket Joint

C

कंदुक-खलिका संधि

Hinge Joint

D

हिंज संधि

Correct Ans : A

Q.No: 73 How many ribs are there on each side of the chest of a human being?

2420894

मनुष्य की छाती के प्रत्येक तरफ कितनी पसलियां होती हैं?

8

A

8

10

B

10

12

C

12

14

D

14

Correct Ans : C

Q.No: 74 Water comes out in the form of vapors by which of the following process?

2420899

निम्नलिखित में से किस प्रक्रिया द्वारा जल वाष्प के रूप में निकलता है?

Photosynthesis

A

प्रकाश संश्लेषण

Transpiration

B

स्नेद

Precipitation

C

वर्षण

Evaporation

D

वाष्पीकरण

Correct Ans : B

Q.No: 75 The nucleus of a cell is surrounded by a jelly-like substance also known as which of the following?

2420904

कोशिका का केंद्रक एक जेली जैसे पदार्थ से घिरा होता है जिसे निम्नलिखित में से किस नाम से भी जाना जाता है?

Cytoplasm

A

कोशिका द्रव्य

Stomata

B

रंभ्र

Guard cells

C

रक्षक कोष

Chlorophyll

D

पर्णहरित (क्लोरोफिल)

Correct Ans : A

Q.No: 76 Which keys enable the input of numbers quickly?

2411542

कौन सी कुंजी संख्याओं के इनपुट को जल्दी से सक्षम करती है?

Ctrl, Shift and alt

A

कंट्रोल, शिफ्ट और अल्ट

B

functional keys

फंक्शनल कुंजी

numerical keys

C

नुमेरिकल कुंजी

arrow keys

D

एरो कुंजी

Correct Ans : **C**

Q.No: 77 The operating system that is self contained in a device and resident in the ROM is _____.
2411543

ऑपरेटिंग सिस्टम जो स्वयं डिवाइस में निहित है और ROM में रहता है, _____ कहा जाता है।

Batch Operating system

A

बैच ऑपरेटिंग सिस्टम

Real time Operating system

B

रियल टाइम ऑपरेटिंग सिस्टम

Embedded Operating system

C

एम्बेडेड ऑपरेटिंग सिस्टम

Multi processor Operating system

D

मल्टी प्रोसेसर ऑपरेटिंग सिस्टम

Correct Ans : **C**

Q.No: 78 Which of the following contains permanent data and get updated during the processing of transactions?
2411545

निम्नलिखित में से कौन सा स्थायी डेटा है और जो लेनदेन की प्रक्रिया के दौरान अपडेट हो जाता है?

Operating System files

A

ऑपरेटिंग सिस्टम फाइलें

Transaction files

B

लेनदेन फाइलें

Software file

C

सॉफ्टवेयर फाइल

Master file

D

मास्टर फाइल

Correct Ans : **D**

Q.No: 79 A _____ is an electronic device that process data, converting it into information.
2411549

----- एक इलेक्ट्रॉनिक डिवाइस है जो डेटा को इनफॉर्मेशन में परिवर्तित करके प्रोसेस करता है।

Processor

A

प्रोसेसर

computer

B

कंप्यूटर

case

C

केस

Stylus

D

स्टाइलस

Correct Ans : **B**

Q.No: 80 _____ computers represent data as variable points along a continuous spectrum of values.
2411550

----- कंप्यूटर, डाटा को बैरियेबल प्वाइन्ट, वैल्यु के सतत स्पेक्ट्रम के साथ दर्शाता है।

A

Analog

एनालॉग
Digital

B

डिजिटल
Precise

C

प्रेसिस
Mainframe

D

मेनफ्रेम

Correct Ans : A

Q.No: 81 The main component of a desktop PC is the _____ which houses the computer's critical parts.

2411552

एक डेस्कटॉप पीसी का मुख्य कॉम्पोनेन्ट ---- होता है जो कंप्यूटर का महत्वपूर्ण भाग रखता है।

Processor

A

प्रोसेसर
memory

B

स्मृति
keyboard

C

कीबोर्ड
system case

D

सिस्टम केस

Correct Ans : D

Q.No: 82 The _____ is used by the tablet PC to write on the screen.

2411556

----- का प्रयोग टैबलेट पीसी द्वारा स्क्रीन पर लिखने के लिए किया जाता है।

Finger

A

फिंगर
mouse

B

माउस
digitizer

C

डिजिटाइज़र
Stylus

D

स्टाइलस

Correct Ans : D

Q.No: 83 In a photo editor, you can repair scratches using the _____ tool.

2411561

एक फोटो एडिटर में, आप ----- टूल का उपयोग स्क्रैच रिपेयर के लिए कर सकते हैं।

Mask

A

मास्क
airbrush

B

एयरब्रश
stamper

C

स्टैम्पर
Eraser

D

इरेजर

Correct Ans : B

Q.No: 84 Which of the following is most similar to a word processor?
2411562

निम्न में से कौन सा एक वर्ड प्रोसेसर के समान है?

Dictionary

A

डिक्शनरी

Thesaurus

B

थिसॉरस

Text Editor

C

टेक्स्ट एडिटर

Code Inspector

D

कोड इन्स्पेक्टर

Correct Ans : C

Q.No: 85 Which of the following statements best describes a leaderboard?
2411564

निम्नलिखित कथनों में से कौन सा लीडरबोर्ड का सबसे अच्छा वर्णन करता है?

It is the top section of a webpage.

A

यह एक वेबपेज का शीर्ष भाग है

It contains the head section of the HTML.

B

इसमें HTML का शीर्ष हेड शामिल होता है

It displays a website's site map.

C

यह एक वेबसाइट का साइट मानचित्र प्रदर्शित करता है

It is a common ad size used in online advertising.

D

यह ऑनलाइन विज्ञापन में इस्तेमाल एक आम विज्ञापन आकार है

Correct Ans : D

Q.No: 86 Mechanism developed to enforce users to enter data in required format is _____.
2411566

उपयोगकर्ताओं द्वारा आवश्यक फॉर्मेट में डेटा दर्ज करने को लागू करने के लिए विकसित मेकनिज़म ----- है।

Data validation

A

डेटा वैलिडेशन

Input mask

B

इनपुट मास्क

Criteria

C

क्राइटेरिया

Data verification

D

डेटा वैरिफिकेशन

Correct Ans : B

Q.No: 87 What is the shortcut key for "Font" dialog box?
2411577

फॉन्ट" डायलॉग बॉक्स के लिए शॉर्टकट कुंजी क्या है?

Ctrl + G

A

कंट्रोल + G

Ctrl + F

B

कंट्रोल + F

Ctrl + D

C

कंट्रोल + D

D

Ctrl + H

कंट्रोल + H

Correct Ans : C

Q.No: 88 To see the document before the printout is taken, use

2411582

प्रिंटआउट लेने के पहले डॉक्यूमेंट को देखने के लिए ----- का उपयोग करते हैं।

Insert Table

A

ईसर्ट टेबल

Paste

B

पेस्ट

Format Painter

C

फॉर्मेट पेंटर

Print Preview

D

प्रिंट प्रिव्यू

Correct Ans : D

Q.No: 89 SMPS stands for?

2411590

SMPS क्या संदर्भित करता है?

Start mode power supply

A

Start mode power supply

Store mode power supply

B

Store mode power supply

Switched mode power supply

C

Switched mode power supply

Single mode power supply

D

Single mode power supply

Correct Ans : C

Q.No: 90 Which of the following is not a network protocol?

2411599

इनमें से कौन सा नेटवर्क प्रोटोकॉल नहीं है?

HTTP

A

HTTP

FTP

B

FTP

SMTP

C

SMTP

HTML

D

HTML

Correct Ans : D

Q.No: 91 Full form of "MODEM" is?

2411614

"MODEM" का पूरा नाम क्या है?

Modern development

A

Modern development

Medium Development

B

Medium Development

C **Modulation and Demolition**

Modulation and Demolition

Modulation and Demodulation

D

Modulation and Demodulation

Correct Ans : D

Q.No: 92 OSI is an ISO standard for worldwide communications that defines a networking framework for implementing protocols. What does 'O' stands for?
2411621

OSI विश्वव्यापी संचार के लिए एक आईएसओ मानक है जो प्रोटोकॉल को लागू करने के लिए नेटवर्किंग ढांचे को परिभाषित करता है। 'O' क्या है?

Operation

A

Operation

Open

B

Open

Organization

C

Organization

Optical

D

Optical

Correct Ans : B

Q.No: 93 What is the components that are used in second generation computers?
2411624

दूसरे पीढ़ी के कंप्यूटरों में उपयोग किए जाने वाले घटक क्या हैं?

Vacuum tube

A

Vacuum tube

LSI

B

LSI

Punch cards

C

Punch cards

Transistors

D

Transistors

Correct Ans : D

Q.No: 94 A computer programming language often used by children is:
2411687

बच्चों द्वारा अक्सर उपयोग की जाने वाली कंप्यूटर प्रोग्रामिंग भाषा है:

LOGO

A

LOGO

PILOT

B

PILOT

BASIC

C

BASIC

JAVA

D

JAVA

Correct Ans : A

Q.No: 95 _____ is the software creates a mirror image/jpg of the entire hard disk, including operating system, application, files and data.
2411742

_____ संपूर्ण हार्ड डिस्क, सॉफ्टवेयर ऑपरेटिंग सिस्टम, एप्लिकेशन, फाइलों और डेटा समेत की दर्पण छवि बनाता है।

Operating system

A

ऑपरेटिंग सिस्टम

B

Backup software

बैकअप सॉफ्टवेयर

Drive imaging

C

ड्राइव इमेजिंग

Utility software

D

यूटिलिटी सॉफ्टवेयर

Correct Ans : C

Q.No: 96 SDL stands for-
2411860

एसडीएल का पूर्ण रूप है-

Storage discrete localisation

A

स्टोरेज डिस्क्रीट लोकेलाइजेशन

Storage definition localisation

B

स्टोरेज डेफिनेशन लोकेलाइजेशन

Storage definition language

C

स्टोरेज डेफिनेशन लैंग्वेज

Storage discrete language

D

स्टोरेज डिस्क्रीट लैंग्वेज

Correct Ans : C

Q.No: 97 In which, switching resources are allocated on demand.
2411867

निम्न में से किसमें, स्विचिंग संसाधन का आवंटन मांग पर होता है।

Circuit Switching

A

सर्किट स्विचिंग

Packet Switching

B

पैकेट स्विचिंग

Line Switching

C

लाइन स्विचिंग

Frequency Switching

D

फ्रीक्वेंसी स्विचिंग

Correct Ans : B

Q.No: 98 Where you can find the Margins option in MS Word?
2411878

आप एमएस वर्ड में मार्जिन विकल्प कहा पा सकते हैं?

Insert menu

A

इन्सर्ट मेनू

Review menu

B

रिव्यू मेनू

Page Layout menu

C

पेज लेआउट मेनू

Home menu

D

होम मेनू

Correct Ans : C

Q.No: 99 _____ is a piece of hardware or software used to monitor network traffic.
2412189

_____ हार्डवेयर या सॉफ्टवेयर का एक अंश है जिसका उपयोग नेटवर्क ट्रैफिक की निगरानी के लिए किया

जाता है।

Ransomware

A

रेनसमवेयर**Packet Sniffer**

B

पैकेट सिफर**Keyloggers**

C

कीलॉगर्स**Rootkit**

D

रूटकिटCorrect Ans : **B**

Q.No: 100 RSS is a format that is used to provide subscribers with new content from frequently updated Web sites. What does 'RSS' stand for?
2412210

RSS एक फॉर्मेट है जिसका उपयोग ग्राहकों को बार-बार अपडेट की जाने वाली वेब साइटों से नए कंटेंट प्रदान करने के लिए किया जाता है। 'RSS' का पूर्ण रूप क्या है?

Recent Simple Syndication

A

Recent Simple Syndication**Really Simple Syndication**

B

Really Simple Syndication**Real Subscribers syndication**

C

Real Subscribers syndication**Real Server syndication**

D

Real Server syndicationCorrect Ans : **B**

Q.No: 101 Select the term that will come next in the following series.
2417552

D, G, J, M, P, _____

उस पद का चयन करें, जो निम्नलिखित श्रृंखला में अगला आएगा।

D, G, J, M, P, _____

Q

A

Q**R**

B

R**S**

C

S**T**

D

TCorrect Ans : **C**

Q.No: 102 Which of the following options will complete the given series:
2417565

l _ n _ l m _ m l _ _ n l _ n o

दिए गए पैटर्न में लुप्त अक्षर ज्ञात कीजिए।

l _ n _ l m _ m l _ _ n l _ n o

mlnmm

A

mlnmm**lmlmn**

B

lmlmn

C

lmmml

lmmnml**mlnmm**

D

mlnmmCorrect Ans : **A**Q.No: 103 Find the odd one among the following.
2417617

निम्नलिखित में से विषम ज्ञात कीजिए।

Mercury

A

बुध**Moon**

B

चंद्रमा**Jupiter**

C

बृहस्पति**Saturn**

D

शनिCorrect Ans : **B**Q.No: 104 Find the odd one among the following.
2417630

निम्नलिखित में से विषम ज्ञात कीजिए।

Helium

A

हीलियम**Argon**

B

आर्गन**Neon**

C

निऑन**Chlorine**

D

क्लोरीनCorrect Ans : **D**Q.No: 105 In the following question, select the odd letters from the given alternatives.
2417672

निम्न प्रश्न में, दिए गए विकल्पों में से विषम अक्षरों का चयन करें।

DGJ

A

DGJ**LOR**

B

LOR**RTV**

C

RTV**UXA**

D

UXACorrect Ans : **C**Q.No: 106 In the following question, select the related word from the given alternatives.
2417705

Barometer : Atmospheric Pressure

निम्नलिखित प्रश्न में, दिए गए विकल्पों में से संबंधित शब्द का चयन करें।

बैरोमीटर : वायुमंडलीय दबाव

A

Bolometer : Sound

बोलोमीटर : ध्वनि

Hygrometer : Humidity

B

हाइड्रोमीटर : आर्द्रता

Odometer : Speed

C

ओडोमीटर: गति

Voltmeter : Electric current

D

वोल्टमीटर : विद्युत प्रवाह

Correct Ans : **B**

Q.No: 107 In the following question, select the related word from the given alternatives.
2417711 Pinna : Ears :: ? : Eyes

निम्नलिखित प्रश्न में, दिए गए विकल्पों में से संबंधित शब्द का चयन करें।

पिना : कान :: ? : आँखें

Cornea

A

कोर्निया

Anvil

B

एनविल

Corns

C

कोर्न्स

Vision

D

दृष्टि

Correct Ans : **A**

Q.No: 108 In the following question, select the related word from the given alternatives.
2417715 PLANT : TNALP :: SHRUB : ?

निम्नलिखित प्रश्न में, दिए गए विकल्पों में से संबंधित शब्द का चयन करें।

PLANT : TNALP :: SHRUB : ?

BRUSH

A

BRUSH

RBUSH

B

RBUSH

BURHS

C

BURHS

UBRHS

D

UBRHS

Correct Ans : **C**

Q.No: 109 In the following question, select the related word from the given alternatives.
2417721 Hindi : language :: Turkey : ?

निम्नलिखित प्रश्न में, दिए गए विकल्पों में से संबंधित शब्द का चयन करें।

हिंदी : भाषा :: तुर्की : ?

Capital

A

राजधानी

Country

B

देश

C

Game

खेल

Transport

D

परिवहन

Correct Ans : **B**

Q.No: 110 If CAREER is coded as DBSFFS in a certain language, how will SYSTEM be coded in the same language?
2417746

यदि CAREER को एक निश्चित भाषा में DBSFFS के रूप में कूटित किया जाता है, तो SYSTEM को उसी भाषा में कैसे कूटित किया जाएगा?

SXTUTI

A

SXTUTI**JKLMBO**

B

JKLMBO**TZTUFN**

C

TZTUFN**LKQWTG**

D

LKQWTGCorrect Ans : **C**

Q.No: 111 On the basis of certain coding rules, some words are coded as follows:
2417750

LIKE : 5678

KEPT : 7963

LOOK : 6225

Based on the above given codes, what is the individual code for I?

कुछ कोडिंग नियमों के आधार पर कुछ शब्दों को निम्नानुसार कोडित किया जाता है:

LIKE : 5678

KEPT : 7963

LOOK : 6225

ऊपर दिए गए कूटों के आधार पर I के लिए कूट क्या है?

7

A

7**6**

B

6**8**

C

8**5**

D

5Correct Ans : **C**

Q.No: 112 If in a certain code language 'RUN' is written as '182114' and 'PEN' is written as '16514', then how will 'RANSOM' be coded in that language?
2417756

यदि एक निश्चित कोड भाषा में 'RUN' को '182114' और 'PEN' को '16514' लिखा जाता है, तो 'RANSOM' को उस भाषा में कैसे कोडित किया जाएगा?

1841491315

A

1841491315**18114131915**

B

18114131915**18114191315**

C

18114191315**18114191513**

D

18114191513Correct Ans : **D**

Q.No: 113 If 'PAINT' is coded as '74128' and 'EXCEL' is coded as '93596', how is 'ACCEPT' coded?
2417762

यदि 'PAINT' को '74128' और 'EXCEL' को '93596' के रूप में कूटित किया गया है, तो 'ACCEPT' को कैसे कूटित किया जाएगा?

455978

A

455978

459578

B

459578

457958

C

457958

459758

D

459758

Correct Ans : A

Q.No: 114 From the given alternative words, select the word which can be formed using the letters of the given word.
2417886

AMPLIFICATION

निम्नलिखित विकल्पों में से वह शब्द चुनिए जो दिए गए शब्द के अक्षरों का प्रयोग करके बनाया जा सकता है?

AMPLIFICATION

ACTOR

A

ACTOR

MANOR

B

MANOR

CHAMP

C

CHAMP

MANIA

D

MANIA

Correct Ans : D

Q.No: 115 From the given alternative words, select the word which cannot be formed using the letter of the given word.
2417890

UNIVERSALISATION

निम्नलिखित विकल्पों में से वह शब्द चुनिए जो दिए गए शब्द के अक्षरों का प्रयोग करके नहीं बनाया जा सकता है।

UNIVERSALISATION

NATION

A

NATION

CURTAIN

B

CURTAIN

LIVER

C

LIVER

AVIATION

D

AVIATION

Correct Ans : B

Q.No: 116 From the given words, select the word which cannot be formed using the letters of the given word.
2417896

CIRCUMSTANCES

निम्नलिखित विकल्पों में से वह शब्द चुनिए जो दिए गए शब्द के अक्षरों का प्रयोग करके नहीं बनाया जा सकता है।

CIRCUMSTANCES

A

DISTANCE

DISTANCE**STANCE**

B

STANCE**MUSIC**

C

MUSIC**CIRCUS**

D

CIRCUS

Correct Ans : A

Q.No: 117 From the given alternative words, select the word which cannot be formed using the letters of the given word.

2417902**ORGANISATION**

निम्नलिखित विकल्पों में से वह शब्द चुनिए जो दिए गए शब्द के अक्षरों का प्रयोग करके नहीं बनाया जा सकता।

ORGANISATION**GRANT**

A

GRANT**NATION**

B

NATION**GIANTS**

C

GIANTS**ORANGE**

D

ORANGE

Correct Ans : D

Q.No: 118 Find the missing number in the series.

2417944

71, 95, 121, 149, 179, ?

श्रृंखला में लुप्त संख्या ज्ञात कीजिए।

71, 95, 121, 149, 179, ?

198

A

198**211**

B

211**206**

C

206**213**

D

213

Correct Ans : B

Q.No: 119 In the following question select the related number from the given alternatives.

2417975

97 : 16 :: 67 : 11 :: 43 : _____

दिए गए विकल्पों में से संबंधित संख्या का चयन करें।

97 : 16 :: 67 : 11 :: 43 : _____

4

A

4**7**

B

7

C

6

6

9

D

9

Correct Ans : B

Q.No: 120 In the following question select the related number from the given alternatives.

2417981 36 : 343 :: _____ : 1331

दिए गए विकल्पों में से संबंधित संख्या का चयन करें।

36 : 343 :: _____ : 1331

81

A

81

121

B

121

100

C

100

144

D

144

Correct Ans : C

Q.No: 121 If + means '+', × means '+', + means '-' and - means '×', then what is the value of the following

2417991 expression?
 $16 - 4 + 12 \times 3 + 5$

यदि + का अर्थ '+' है, × का अर्थ '+' है, + का अर्थ '-' है और - का अर्थ '×' है, तो निम्नलिखित समीकरण का मान क्या होगा ?

 $16 - 4 + 12 \times 3 + 5$

59

A

59

53

B

53

65

C

65

67

D

67

Correct Ans : C

Q.No: 122 If 'L' stands for '+', 'M' stands for '-', 'N' stands for '×', 'P' stands for '+', then

2417995 $14 N 10 L 42 P 2 M 8 = ?$

यदि "L" का अर्थ '+' है, 'M' का अर्थ '-' है, 'N' का अर्थ '×' है 'P' का अर्थ '+' है, तो

 $14 N 10 L 42 P 2 M 8 = ?$

153

A

153

216

B

216

248

C

248

251

D

251

Correct Ans : A

Q.No: 123 Which two numbers should be interchanged to make the given equation correct?
2418001

$$9 + 4 \div 2 - 6 \times 3 = 4 \div 3 \times 6 - 9 + 1$$

दिये गये समीकरण को सही बनाने के लिए किन दो संख्याओं को आपस में बदलना चाहिए?

$$9 + 4 \div 2 - 6 \times 3 = 4 \div 3 \times 6 - 9 + 1$$

5 and 4

A

5 और 4

4 and 9

B

4 और 9

4 and 2

C

4 और 2

6 and 4

D

6 और 4

Correct Ans : D

Q.No: 124 If \times stands for $-$, $+$ means \times , \div means $+$ and $-$ means \div , then what is the value of the given expression?

2418007

$$175 - 25 \div 5 + 2 \times 3 + 10 = ?$$

यदि \times का अर्थ $-$, $+$ का अर्थ \times , \div का अर्थ $+$ और $-$ का अर्थ \div हो तो

$$175 - 25 \div 5 + 2 \times 3 + 10 = ?$$

-13

A

-13

-15

B

-15

-16

C

-16

-17

D

-17

Correct Ans : A

Q.No: 125 Identify the diagram that best represents the relationship among the given classes.

2418255

Coffee, tea, cold drinks

दिए गए वर्गों के बीच संबंधों का सबसे बेहतर प्रतिनिधित्व करने वाले आरेख की पहचान करें।

कॉफी, चाय, कोल्ड ड्रिंक्स



A



B



C





D



Correct Ans : B

Q.No: 126 Temporary removal from the payroll of the people with surplus skills is known as:
2418534

अधिशेष कौशल वाले लोगों का पे-रोल से अस्थाई निष्कासन कहलाता है-

Resignation

A

निबंधन

Lay off

B

छूटनी

Discharge

C

डिस्चार्ज

Retirement

D

सेवा निवृत्ति

Correct Ans : B

Q.No: 127 Separating an employee from the payroll for violation of organisation rules come under
2418537

संगठन के नियमों का उल्लंघन करने के कारण किसी कर्मि को पेरोल से अलग करने का प्रावधान निम्नलिखित में से किसके अंतर्गत आता है

Dismissal

A

बर्खास्तगी

Retirement

B

सेवानिवृत्ति

Lay off

C

छूटनी

Resignation

D

निबंधन

Correct Ans : A

Q.No: 128 Changes in pay status and job conditions of new position or job almost similar to old job:
2418539

पुरानी नौकरी के समान नौकरी की शर्त पर वेतन संरचना में होने वाले परिवर्तन को कहते हैं:

Promotion

A

पदोन्नति

Transfer

B

स्थानांतरण

Recruitment

C

नियुक्ति

Retirement

D

सेवा निवृत्ति

Correct Ans : B

Social responsibility of business is towards

Q.No: 129 Social responsibility of business is towards
2418572

व्यापार की सामाजिक जिम्मेदारी निम्नलिखित में से किस ओर होती है

Self profit earning

A

आत्म मुनाफा के लिए कमाई

Customers

B

उपभोक्ता

Self growth

C

स्वयं की वृद्धि

Fulfilling self desires

D

आत्म-इच्छा की पूर्ति करना

Correct Ans : B

Q.No: 130 It is a voluntary Association of persons who join together with the motives of welfare of the members
2418575

यह व्यक्तियों का एक स्वैच्छिक संघ है जो सदस्यों के कल्याण के उद्देश्य हेतु साथ होता है

Partnership

A

भागीदारी

Cooperative society

B

कॉपरेटिव सोसाइटी

Joint Hindu family

C

संयुक्त हिंदू परिवार

Sole proprietorship

D

एकल स्वामित्व

Correct Ans : B

Q.No: 131 _____are Industries that are engaged in breeding plants and animals for their use in in further reproduction.
2418576

_____ ऐसे उद्योग हैं जो आगे प्रजनन में उपयोग के लिए पौधों और जीवों के प्रजनन में लगे हुए हैं।

Extractive industries

A

निष्कर्षण उद्योग

Manufacturing industries

B

विनिर्माण उद्योग

Construction industries

C

निर्माण उद्योग

Genetic industries

D

आनुवंशिक उद्योग

Correct Ans : D

Q.No: 132 In sole proprietorship form of business organisation identify the correct statement which of the following does not comes under the merits of sole proprietorship
2418588

व्यावसायिक संगठन के एकल स्वामित्व के संदर्भ में सही कथन चुनें, एकल स्वामित्व के निम्नलिखित में से कौन-से गुण नहीं होते हैं

Direct incentive

A

प्रत्यक्ष प्रोत्साहन

Delayed decision making

B

निर्णय लेने में विलंब

Ease of formation and closure

C

गठन और समापन में आसानी

D

Confidentiality of information

सूचना की गोपनीयता

Correct Ans : B

Q.No: 133 DIN stands for
2418682

डीआईएन का क्या अर्थ होता है

Direct invoice number

A

डापरेक्ट इनवाइस नंबर

Directly identified number

B

डापरेक्टली आईडेंटिफाइड नंबर

Daw identify number

C

डॉ आईडेंटिफाई नंबर

Director identification number

D

डापरेक्टर आईडेंटिफिकेशन नंबर

Correct Ans : D

Q.No: 134 The rules for internal management of the company is known as
2418683

कंपनी के आंतरिक प्रबंधन के नियम क्या कहलाते हैं

Memorandum of association

A

संस्था की बहिर्नियमावली

Article of association

B

संगम अनुच्छेद

Prospectus

C

सूचीपत्र

Stock exchanges

D

स्टॉक एक्सचेंज

Correct Ans : B

Q.No: 135 Commercial papers come under which types of sources of funds
2418686

वाणिज्यिक पत्र, निधियों के किस प्रकार के स्रोत के अंतर्गत आते हैं

Long term sources

A

दीर्घकालिक स्रोत

Short term sources

B

अल्पकालिक स्रोत

Medium term sources

C

मध्यम अवधि के स्रोत

Equity shares

D

सामान्य शेयर

Correct Ans : B

Q.No: 136 The place where buyers and sellers are brought into contact with one another is:
2418715

वह स्थान जहां खरीदार और विक्रेता एक-दूसरे के संपर्क में आते हैं

Market

A

बाजार

Product

B

उत्पाद

C Channel

चैनल

Function

D

कार्य

Correct Ans : A

Q.No: 137 The process that directs the flow of goods and services from the producer to the consumer by creating time place ownership and awareness utilities is known as
2418717

वह प्रक्रिया जो समय, स्थान, स्वामित्व और जागरूकता संबंधी उपयोगिता की रचना करते हुए वस्तुओं और सेवाओं को उत्पादनकर्ता से ग्राहक की ओर निर्देशित करती है, उस प्रक्रिया को निम्नलिखित में से किसके द्वारा जाना जाता है:

Human resource

A

मानव संसाधन

Production

B

उत्पादन

Marketing

C

विपणन

Research

D

अनुसंधान

Correct Ans : C

Q.No: 138 Which of the following comes under the benefits of marketing
2418719

निम्नलिखित में से कौन विपणन के मुनाफे के अंतर्गत आता है

Low living standard of people

A

लोगों का निम्न जीवन स्तर

It forbid firm to earn more profit

B

यह उपक्रम को अधिक मुनाफा अर्जित करने से रोकता है

It generates gainful employment opportunities

C

मुनाफा युक्त रोजगार के अवसरों को समन्वित करता है

Hinders economic growth

D

आर्थिक वृद्धि को बाधित करता है

Correct Ans : C

Q.No: 139 Aspect of marketing which deals with discouraging customer's for certain class of customers in particular on either a temporary or permanent basis
2418723

विपणन का वह पहलू जो ग्राहकों को या खासकर ग्राहकों के किसी खास समूह को अस्थायी रूप से या अस्थायी रूप से हतोत्साहित करता है

Marketing

A

विपणन

Demarketing

B

डिमार्केटिंग

Human Resource Management

C

मानव संसाधन प्रबंधन

Financial management

D

वित्तीय प्रबंधन

Correct Ans : B

Q.No: 140 Which of the following defines management is pervasive?
2418776

निम्नलिखित में से कौन यह पारिभाषित करता है कि प्रबंधन सार्वत्रिक है?

A Principles and techniques of management have universal application

प्रबंधन के सिद्धांतों और तकनीकों के सार्वभौमिक अनुप्रयोग होते हैं

They can be applied only to social organisation

B

उन्हें केवल सामाजिक संगठन पर लागू किया जा सकता है

They cannot be modified to suit the given situation

C

उन्हें दी गई स्थिति के अनुरूप संशोधित नहीं किया जा सकता है

They are rigid laws

D

वे कठोर कानून होते हैं

Correct Ans : A

Q.No: 141 Management is the art of getting things done

2418777

प्रबंधन काम पूरे कराने की कला है

F.W .Taylor

A

एफ.डब्ल्यू. टायलर

Henery Fayol

B

हेनरी फयाल

Marry P. Follett

C

मैरी पी. फोलेट

L. Urwick

D

एल उर्विक

Correct Ans : C

Q.No: 142 With which of the following best determines the difference between administration and management

2418778

निम्नलिखित में से कौन-सा, प्रशासन और प्रबंधन के बीच अंतर को सबसे उचित ढंग से व्यक्त करता है

Administration is concerned with policy making for the entire organisation while Management is concerned with the implementation of policy

A

प्रशासन का संबंध पूरे संगठन के लिए नीति निर्माण से है जबकि प्रबंधन नीति के कार्यान्वयन से संबंधित है

Management is a decision making function while administration is an executive function

B

प्रबंधन, निर्णय लेने का कार्य है जबकि प्रशासन एक कार्यकारी प्रकार्य है

Administration decides who should do it and how he should do it while management decides what is to be done and when it is to be done

C

प्रशासन यह तय करता है कि कार्य किसके द्वारा किया जाना चाहिए और उस व्यक्ति द्वारा इसे कैसे किया जाना चाहिए जबकि प्रबंधन यह तय करता है कि क्या करना है और कब करना है

Management is a thinking function while administration is a doing function

D

प्रबंधन एक सोचने का प्रकार्य है जबकि प्रशासन क्रियान्वयन संबंधी प्रकार्य है

Correct Ans : A

Q.No: 143 The value of all final goods and services produced within country during a particular year is known as-

2418927

किसी विशेष वर्ष के दौरान देश के भीतर उत्पादित सभी अंतिम वस्तुओं और सेवाओं के मूल्य को _____के रूप में जाना जाता है-

Gross National Product

A

सकल राष्ट्रीय उत्पाद

Gross Domestic Product

B

सकल घरेलू उत्पाद

Total product

C

कुल उत्पाद

Net National Product

D

नेट राष्ट्रीय उत्पाद

Correct Ans : B

Q.No: 144 The difference between the exports and imports of a country is

2418930

किसी देश के निर्यात और आयात के बीच का अंतर है

Balance of trade

A

व्यापार संतुलन

Consumption

B

खपत

Balance of payment

C

भुगतान संतुलन

Trade deficit

D

व्यापार घाटा

Correct Ans : A

Q.No: 145 A systematic record of all economic transactions between the residents of a country and the rest of the world during a given period of time is
2418931

किसी देश के निवासियों और शेष विश्व के बीच एक निश्चित अवधि के दौरान सभी आर्थिक लेन-देन का एक व्यवस्थित रिकॉर्ड है

Economic factors

A

आर्थिक कारक

Balance of payments

B

भुगतान संतुलन

National income

C

राष्ट्रीय आय

Social factors

D

सामाजिक कारक

Correct Ans : B

Q.No: 146 Which of the following statement is incorrect about balance of payment?
2418933

भुगतान संतुलन के बारे में निम्नलिखित में से कौन सा कथन गलत है

It is a summary statement of all economic transactions between the residents of a country and rest of the world

A

यह एक देश के निवासियों और दुनिया के बाकी हिस्सों के बीच सभी आर्थिक लेनदेन का एक सारांश विवरण है

It does not adopt a double entry bookkeeping system

B

यह दोहरी प्रविष्टि बहीखाता पद्धति को नहीं अपनाता है

It relates to a period of time normally a year

C

यह सामान्य रूप से एक वर्ष की अवधि से संबंधित है

Receipts are shown on credit side and payments on debit side

D

रसीद क्रेडिट साइड पर और भुगतान डेबिट साइड पर दिखाए जाते हैं

Correct Ans : B

Q.No: 147 Financial decision includes Dividend, Financing & Investment are-
2418997

वित्तीय निर्णयों में लाभांश, वित्तपोषण और निवेश शामिल हैं:

Financial Decision

A

वित्तीय निर्णय

Human Resource Decision

B

मानव संसाधन निर्णय

Material Decision

C

भौतिक निर्णय

D

Production Decision

उत्पादन निर्णय

Correct Ans : A

Q.No: 148 Central bank in India is
2418998

भारत का केंद्रीय बैंक है

RBI

A

RBI

SBI

B

SBI

UCO BANK

C

यूको बैंक

PNB

D

PNB

Correct Ans : A

Q.No: 149 SLR Stands for-
2419000

SLR का क्या मतलब है?

Statutory Liquidity Ratio

A

स्टैंट्यूटरी लिक्विडिटी रेश्यो

Stationary liquid rate

B

स्टेशनरी लिक्विड रेट

Straight less roll

C

स्ट्रैट लेस रोल

Strength liquid rate

D

स्ट्रेंथ लिक्विड रेट

Correct Ans : A

Q.No: 150 As a measure of credit control _____ rate is also known as discount rate.
2419001

क्रेडिट नियंत्रण के उपाय के रूप में _____ दर को छूट दर के रूप में भी जाना जाता है।

Repo Rate

A

रेपो रेट

Bank Rate

B

बैंक दर

Reserve Repo Rate

C

रिजर्व रेपो दर

CRR

D

CRR

Correct Ans : B

Q.No: 151 What should come in place of the question mark (?) in the following question?
2421508

$$7 \times 8 + 8 \div 2 - 32 \times (1/8) - 6 \times 8 = ?$$

निम्नलिखित प्रश्न में प्रश्नवाचक चिन्ह (?) के स्थान पर क्या आना चाहिए?

$$7 \times 8 + 8 \div 2 - 32 \times (1/8) - 6 \times 8 = ?$$

6

A

6

B

8

8

9

C

9

10

D

10

Correct Ans : B

Q.No: 152 What should come in place of the question mark (?) in the following question?

2421509

$$[\{(16 \div 4) \times 4\} \div 4] = ?$$

निम्नलिखित प्रश्न में प्रश्नवाचक चिन्ह (?) के स्थान पर क्या आना चाहिए?

$$[\{(16 \div 4) \times 4\} \div 4] = ?$$

2

A

2

3

B

3

4

C

4

5

D

5

Correct Ans : C

Q.No: 153 What should come in place of the question mark (?) in the following question?

2421513

$$(2 \times 3)^3 + (4 \times 9)^2 \times (27 \times 8)^2 = (6)^?$$

निम्नलिखित प्रश्न में प्रश्नवाचक चिन्ह (?) के स्थान पर क्या आना चाहिए?

$$(2 \times 3)^3 + (4 \times 9)^2 \times (27 \times 8)^2 = (6)^?$$

13

A

13

6

B

6

3

C

3

8

D

8

Correct Ans : A

Q.No: 154 What should come in place of the question mark (?) in the following question?

2421517

$$40\% \text{ of } 540 + 18^2 = ?\% \text{ of } 1200$$

निम्नलिखित प्रश्न में प्रश्नवाचक चिन्ह (?) के स्थान पर क्या आना चाहिए?

$$540 \text{ का } 40\% + 18^2 = 1200 \text{ का } ?\%:$$

25

A

25

30

B

30

C

45

45

40

D

40

Correct Ans : C

Q.No: 155 Find the largest fraction of the following fractions?

2421547

निम्नलिखित भिन्नों में से सबसे बड़ी भिन्न ज्ञात कीजिए?

$$\frac{17}{23}$$

A

$$\frac{17}{23}$$

$$\frac{27}{33}$$

B

$$\frac{27}{33}$$

$$\frac{37}{43}$$

C

$$\frac{37}{43}$$

$$\frac{47}{53}$$

D

$$\frac{47}{53}$$

Correct Ans : D

Q.No: 156 Find the smallest fraction of the following fractions?

2421550

निम्नलिखित भिन्नों में से सबसे छोटी भिन्न ज्ञात कीजिए

$$\frac{31}{17}$$

A

$$\frac{31}{17}$$

$$\frac{24}{19}$$

B

$$\frac{24}{19}$$

$$\frac{42}{27}$$

C

$$\frac{42}{27}$$

$$\frac{31}{29}$$

D

$$\frac{31}{29}$$

Correct Ans : D

Q.No: 157 Find the largest fraction of the following fractions?

2421558

निम्नलिखित भिन्नों में से सबसे बड़ी भिन्न ज्ञात कीजिए?

$$\frac{6}{35}$$

A

$$\frac{6}{35}$$

B

$$\frac{19}{98}$$

$$\frac{19}{98}$$

$$\frac{13}{69}$$

C

$$\frac{13}{69}$$

$$\frac{21}{113}$$

D

$$\frac{21}{113}$$

Correct Ans : B

Q.No: 158 Find the largest no. which divide 39, 46, 53 and leave the remainder 3, 4 and 5 respectively.
2421595

वह बड़ी से बड़ी संख्या ज्ञात कीजिए जिससे 39, 46 और 53 को भाग देने पर शेषफल क्रमशः 3, 4 और 5 बचता है।

6

A

6

8

B

8

9

C

9

12

D

12

Correct Ans : A

Q.No: 159 The L.C.M. of two numbers is 45 times their H.C.F. If one number is 125 and the sum of HCF and LCM is 1150, the other number is:
2421606 दो संख्याओं का ल.स. उसके म.स. का 45 गुना है। यदि एक संख्या 125 है और म.स. और ल.स. का योग 1150 है, तो दूसरी संख्या है:

215

215

A

220

220

B

225

225

C

235

235

D

Correct Ans : C

Q.No: 160 The unit digit of $(281 \times 15 \times 16 \times 18)$ is:
2421632

$(281 \times 15 \times 16 \times 18)$ के इकाई का अंक है:

6

6

A

0

0

B

5

5

C

8

8

D

Correct Ans : B

Q.No: 161 A 4-digit number is formed by repeating a 2-digit number such as 2424, 1212 etc. Any number of this form is always exactly divisible by ?
2421657 एक चार अंकों की संख्या को 2 अंकों की पुनरावृत्ति द्वारा बनाया गया है, जैसे 2424, 1212 इत्यादि। इस प्रकार की कोई भी संख्या निम्न में से किस से सदैव पूर्णतः विभाजित होगी?

7

7

A

11

11

B

13

13

C

101

101

D

Correct Ans : D

Q.No: 162 If 70% of $m = 50\%$ of n and $n = x\%$ of m . Then the value of x is:
2421670

यदि m का 70% = n का 50% है और $n = m$ का $x\%$ हो, तो x का मान ज्ञात करें:

140

A

140

B 135

135

170

C

170

150

D

150

Correct Ans : A

Q.No: 163
2421687 Kiran scored 55% of the maximum marks in Hindi and x% of the maximum marks in English and 75% of the maximum marks in Physics. The maximum marks for Hindi is 120, for English is 140 and for Physics is 180. If the overall percentage of marks scored by Kiran in the three subjects is $63\frac{7}{11}\%$, then find the value of x, if she scores 79 marks in English.

किरण ने हिंदी में अधिकतम अंक का 55% और अंग्रेजी में अधिकतम अंकों का x% और भौतिक विज्ञान में अधिकतम अंकों का 75% प्राप्त किया। हिंदी के लिए अधिकतम अंक 120, अंग्रेजी के लिए 140 और भौतिकी के लिए 180 है। यदि तीनों विषयों में किरण द्वारा बनाए गए अंकों का कुल प्रतिशत $63\frac{7}{11}\%$ है, तो x का मान ज्ञात कीजिए, यदि वह अंग्रेजी में 79 अंक प्राप्त करती है।

56 $\frac{3}{7}\%$

A

56 $\frac{3}{7}\%$ 59 $\frac{3}{7}\%$

B

59 $\frac{3}{7}\%$ 62 $\frac{3}{7}\%$

C

62 $\frac{3}{7}\%$ 61 $\frac{3}{7}\%$

D

61 $\frac{3}{7}\%$

Correct Ans : A

Q.No: 164
2421713 The cost price of 25 mobiles is equal to selling price of 20 mobiles. The Gain percent is:

25 मोबाइलों का लागत मूल्य 20 मोबाइलों के वि.मू. के बराबर है, तो प्रतिशत लाभ ज्ञात करें।

20%

A

20%

15%

B

15%

22.5%

C

22.5%

25%

D

25%

Correct Ans : D

Q.No: 165
2421714 By selling a banana for Rs. 38, there is a Profit of 52% If it is sold for Rs. 37.5, the Profit percent will be?

38 रुपये में एक केला बेचने पर 52% लाभ होता है। यदि इस वस्तु का 37.5 रुपये में बेचा जाए, तो प्रतिशत लाभ ज्ञात करें?

A

75

75

12.5

B

12.5

25

C

25

50

D

50

Correct Ans : D

Q.No: 166 Shivansh, A publisher printed 2000 books at a cost of Rs. 70,000. He distributes 400 copies free as specimen copies. He gave 30% discount on the marked price of each book which is Rs. 75. What is his Gain or Loss percent ?

एक प्रकाशक शिवांश ने 70,000 रुपये की लागत से किताब की 2000 प्रतियाँ छापी। उसने 400 प्रतियाँ नमूने के तौर पर मुफ्त में बाँट दी। वह प्रत्येक कापी के अंकित मूल्य पर 30% की छूट देता है तथा प्रत्येक कापी का मूल्य 75 रुपये है। उसका प्रतिशत लाभ या हानि ज्ञात कीजिए।

20% Gain

A

20% लाभ

25% Loss

B

25% हानि

10% Loss

C

10% हानि

10% Gain

D

10% लाभ

Correct Ans : A

Q.No: 167 A sum of money becomes $\frac{7}{6}$ of itself in 3 year at a certain rate of simple interest. The rate of interest per annum is:

कोई राशि साधारण ब्याज द्वारा किसी दर से 3 वर्ष में स्वयं की $\frac{7}{6}$ गुना हो जाती है। ब्याज की वार्षिक दर बताएं।

6 $\frac{5}{9}$ %

A

6 $\frac{5}{9}$ %5 $\frac{5}{9}$ %

B

5 $\frac{5}{9}$ %

8%

C

8%

2.5%

D

2.5%

Correct Ans : B

Q.No: 168 A Sum of Rs. 4000 amounts to Rs. 4800 in 4 years. What will it amount to if the rate of interest is increased by 2%?

₹. 4000 की राशि 4 वर्ष में ₹. 4800 हो जाती है। यदि ब्याज की दर 2% बढ़ा दी जाए तो नया मिश्रधन बताए।

Rs. 484

A

₹. 484

Rs. 520

B

₹. 520

C

Rs. 512

₹. 512

Rs. 500

D

₹. 500

Correct Ans : C

Q.No: 169 P lends Rs. 2500 to Q and a certain sum to R at the same time at 7% annual simple interest. If after 4 years P received interest of Rs. 1120 from Q and R, the sum lent to R is: **2421761**

P ने Q को ₹. 2500 तथा उसी समय R को कुछ राशि 7% वार्षिक साधारण ब्याज दर से उधार दी। यदि 4 वर्ष बाद P को Q और R से कुल मिलाकर ₹. 1120 ब्याज के रूप में प्रपट हुए, तो R को उधार दी गयी राशि है।

Rs. 750

A

₹. 750

Rs. 4500

B

₹. 4500

Rs. 3000

C

₹. 3000

Rs. 1500

D

₹. 1500

Correct Ans : D

Q.No: 170 The compound ratio of the inverse ratios of the ratios $x : yz$, $y : zx$, $z : xy$ is- **2421845**

$x : yz$, $y : zx$, $z : xy$ अनुपातों के व्युत्क्रमी अनुपातों का मिश्र अनुपात है-

1 : xyz

A

1 : xyz

xyz : 1

B

xyz : 1

1 : 1

C

1 : 1

x : yz

D

x : yz

Correct Ans : B

Q.No: 171 **2421849** If a certain amount is fully distributed among A, B & C in such a way that A receives $\frac{1}{2}$ of the amount, B receives $\frac{1}{3}$ of the amount and C receives Rs. 1200, then how much amount would A receives?

यदि कोई निश्चित राशि A, B और C में पूरी तरह इस प्रकार विपरित की जाती है कि A को राशि का $\frac{1}{2}$ भाग, B को राशि का $13\frac{1}{3}$ भाग और C को 1200 रुपये मिलते हैं, तो A को कितनी राशि मिलेगी?

Rs. 4000

A

4000 रुपये

Rs. 1600

B

1600 रुपये

Rs. 3600

C

3600 रुपये

Rs. 1800

D

1800 रुपये

Correct Ans : C

Q.No: 172 The average of three numbers is 135. The largest number is 195 and the difference between the other two is 20. The smallest number is:
2421884 तीन संख्याओं का औसत 135 है। सबसे बड़ी संख्या 195 है और अन्य दो संख्याओं का अंतर 20 है। सबसे छोटी संख्या है:

- A **65**
65
 B **95**
95
 C **105**
105
 D **115**
115

Correct Ans : B

Q.No: 173 A jar full of whisky contains 40% alcohol. A part of this whisky is replaced by another containing 19% alcohol and now the percentage of alcohol was found to be 26%. The quantity of whisky replaced is:
2421940

विहस्की से भरे जार में 40% अल्कोहल है। इस विहस्की के एक भाग को दूसरे विहस्की से भाग से बदला जाता है जिसमें 19% अल्कोहल है और अब अल्कोहल का प्रतिशत 26% हो जाता है। विहस्की की वह मात्रा जो बदली गई है:

- $\frac{1}{3}$
 A $\frac{1}{3}$
 $\frac{2}{3}$
B $\frac{2}{3}$
 $\frac{2}{5}$
 C $\frac{2}{5}$
 $\frac{3}{5}$
 D $\frac{3}{5}$

Correct Ans : B

Q.No: 174 Two men Ram and Shyam start together to walk a certain distance, one at 4 km/h and another at 3 km/h. The former arrives half an hour before the later Find the distance.
2421986

दो व्यक्ति राम और श्याम एक निश्चित दूरी को तय करने के लिये एक ही समय क्रमशः 4 किमी/घंटा तथा 3 किमी/घंटा की गति से चलते हैं। पहले वाला दूसरे से आधा घंटा पहले पहुँच जाता है। वह निश्चित दूरी बताये।

- 8 km**
 A **8 किमी**
7 km
 B **7 किमी**
6 km
 C **6 किमी**
9 km
 D **9 किमी**

Correct Ans : C

Q.No: 175 P & Q can do a work in 10 & 15 days respectively. First day P & second day Q work, then the whole work complete in alternate days. In how many days the work will complete?
2422011

P व Q किसी काम को 10 व 15 दिनों में पूरा कर सकते हैं। पहले दिन P व दूसरे दिन Q और आगे भी इसी प्रकार वे बारी-बारी से काम करते हैं। तो कितने दिनों में काम समाप्त हो जाएगा?

- 12 days**
 A **12 दिन**
 B **15 days**

15 दिन**8 days**

C

8 दिन**7.5 days**

D

7.5 दिनCorrect Ans : **A**

Q.No: 176 "जन्मजात" में निम्नलिखित में से कौन-सा तत्पुरुष समास है?

A कर्म तत्पुरुष समास**B सम्प्रदान तत्पुरुष समास****C अधिकरण तत्पुरुष समास****D करण तत्पुरुष समास**Correct Ans : **D**

Q.No: 177 "प्रति" उपसर्ग का प्रयोग कर सही शब्द का चयन कीजिए-

A मूर्तिकार**B प्रख्यात****C प्रपात****D प्रतिमूर्ति**Correct Ans : **D**

Q.No: 178 निम्नलिखित में से "उनहत्तर" शब्द में कौन-सा उपसर्ग है?

A तर**B उः****C उन****D उनह**Correct Ans : **C**

Q.No: 179 निम्नलिखित में से भाववाचक संज्ञा शब्द का चयन कीजिए-

A मनुष्य**B घी****C गिरोह****D निकटता**Correct Ans : **D**

Q.No: 180 निम्नलिखित में से कौन-सा वाक्य संबंधवाचक सर्वनाम का सही उदाहरण है?

A जो कहा गया वही करो।**B ये भ्रष्टाचार के प्रबल विरोधी हैं।****C अजय कुछ लाया था।****D मैं तो अपने आप ही जाता था।**Correct Ans : **A**

Q.No: 181 निम्नलिखित में से "ईख" का पर्यायवाची शब्द क्या है?

A प्रागण**B व्योम****C ऊख****D अश्रु**Correct Ans : **C**

Q.No: 182 निम्नलिखित में से "अभ्यस्त" का विलोम शब्द क्या है?

A अनभ्यस्त**B प्रचुर****C अनभिप्रेत****D अध्यवसाय**Correct Ans : **A**

Q.No: 183 निम्नलिखित में से शब्द-युग्म "निर्वाण-निर्माण" के सही अर्थ भेद का चयन कीजिए-

A पक्षी- चमड़े का थैला**B मोड़-बनाना****C बोझ - सार****D बनाना- झुकाना**Correct Ans : **B**

Q.No: 184 शब्द "मिल" का अर्थ "कारखाना" है तो, "मील" का अर्थ _____ है।

- A कार्य
- B गोरौचन
- C दूरी की माप
- D उपहार

Correct Ans : C

Q.No: 185 निम्नलिखित में से शुद्ध वर्तनी वाले शब्द का चयन कीजिए-

- A अनाधिकार
- B स्मशान
- C मुहुर्त
- D आमिष

Correct Ans : D

Q.No: 186 निम्नलिखित में से अशुद्ध वर्तनी वाले शब्द का चयन कीजिए-

- A क्रांतिकारी
- B विश्लेषण
- C धर्मान्धता
- D मनोवैज्ञानिक

Correct Ans : B

Q.No: 187 निम्नलिखित में से असंगत/बेमेल शब्द का चयन कीजिए-

- A वृत्त
- B वृत्त
- C घेरा
- D गोला

Correct Ans : A

Q.No: 188 निम्नलिखित में से "पंच परमेश्वर" के रचनाकार कौन है?

- A रामनरेश त्रिपाठी
- B प्रेमचन्द
- C भवभूति
- D वेद व्यास

Correct Ans : B

Q.No: 189 छात्र ने परीक्षा उल्टी की। वाक्य में रेखांकित शब्द का स्त्रीलिंग निम्न में से क्या होगा?

- A छात्राएँ
- B छात्रों
- C छात्री
- D छात्रा

Correct Ans : D

Q.No: 190 निम्नलिखित में से घबराहट का लिंग कौन सा है?

- A पुल्लिंग
- B स्त्रीलिंग
- C उभयलिंग
- D नपुंसकलिंग

Correct Ans : B

Q.No: 191 भविष्य काल के कितने भेद होते हैं?

- A छः
- B पाँच
- C चार
- D तीन

Correct Ans : D

Q.No: 192 "भयानक रस" का स्थायी भाव निम्न में से क्या है?

- A हास
- B शोक
- C क्रोध
- D भय

Correct Ans : D

Q.No: 193

A कर्मणः सुगुणैः के संबंध में कौन-सा युग्म गलत है?

- B हास्य-हास
C रौद्र - क्रोध
D शृंगार - रति

Correct Ans : A

Q.No: 194 वाच्य कितने प्रकार के होते हैं?

- A पांच
B चार
C तीन
D दो

Correct Ans : C

Q.No: 195 निम्नलिखित में से मिश्र वाक्य का चयन कीजिए-

- A करण के आने पर हर्ष जाया।
B उसने गलत काम किया और अपयश कमाया।
C आकाश ने एक टिकट लिया ताकि वह आगरा जा सके।
D न एक काम पूरा हुआ न दूसरा।

Correct Ans : C

Q.No: 196 निर्देश: नीचे दिये गये प्रश्न को चार भागों में बाँटा गया है (A), (B), (C) और (D) क्रमांक दिए गए हैं। आपको यह देखना है कि वाक्य के किस भाग में व्याकरण, भाषा, वर्तनी, शब्दों के गलत प्रयोग या इसी तरह की कोई त्रुटि तो नहीं है। यदि त्रुटि होगी उस भाग का क्रमांक ही आपका उत्तर है। यदि वाक्य त्रुटिरहित है तो कोई त्रुटि नहीं का चयन करें-

इस योजना को/(A)लागू करने में/(B)समस्त प्राणिमात्र का कल्याण है/(C) कोई त्रुटि नहीं (D)

- A A
B B
C C
D कोई त्रुटि नहीं

Correct Ans : C

Q.No: 197 निम्नलिखित में से शुद्ध वाक्य का चयन कीजिए-

- A इस कथन का स्पष्टीकरण करने की आवश्यकता है।
B वहाँ अकस्मात् अट्टहास हो उठा।
C मैं इसका कारण बता सकता हूँ।
D यहाँ कोई व्यक्ति नहीं है।

Correct Ans : D

Q.No: 198 लोकोक्ति 'एक हाथ से रोवे, एक आँख से हँसे' में निम्न में से किस चिन्ह का प्रयोग किया गया है?

- A अपूर्णविराम चिन्ह
B उद्धरण चिन्ह
C अर्द्धविराम चिन्ह
D योजकविराम चिन्ह

Correct Ans : B

Q.No: 199 निम्नलिखित में से कौन-सा मुहावरे का प्रचलित/सही रूप है?

- A दिन को दिन और रात को रात न समझना।
B दिन को दिवस और रात को रात समझना।
C दिन को दिनांक और रात को रात समझना।
D दिन को दिन और रात समझना।

Correct Ans : A

Q.No: 200 निम्नलिखित में से कौन-सा विकल्प लोकोक्ति का प्रचलित/सही रूप है?

- A गंगा गए गंगादास वरना रह गए जमनादास।
B गंगा गए तो गंगादास नहीं तो जमनादास।
C गंगा गए गंगादास जमना गए तो जमनादास।
D गंगा गए जमनादास और जमना रह गए गंगादास।

Correct Ans : C

[Print](#)

Testdate

18 Dec 2021 ▼

TestSlot

Shift 2 ▼

5

Q.No: 1 In which year was the Agra Fort designated a UNESCO World Heritage site?
 2419228

आगरा के किले को किस वर्ष यूनेस्को की विश्व धरोहर स्थल नामित किया गया था?

1979

A

1979

1983

B

1983

1986

C

1986

1990

D

1990

Correct Ans : B

Q.No: 2 Which of the following statements about the Bekal Fort is NOT correct?
 2419233

बेकल किले के बारे में निम्नलिखित में से कौन सा कथन सही नहीं है?

It is made up of dark maroon laterite stones.

A

यह गहरे मैरून लेटराइट पत्थरों से बना है

It is situated on the coast of the Arabian Sea.

B

यह अरब सागर के तट पर स्थित है

It is in the state of Maharashtra.

C

यह महाराष्ट्र राज्य में है

It is situated in the state's northernmost district.

D

यह राज्य के सबसे उत्तरी जिले में स्थित है

Correct Ans : C

Q.No: 3 In which year was the original structure of Fort William built by the British East India Company?
 2419238

ब्रिटिश ईस्ट इंडिया कंपनी द्वारा फोर्ट विलियम की मूल संरचना का निर्माण किस वर्ष किया गया था?

1757

A

1757

1696

B

1696

1656

C

1656

D 1612

1612

Correct Ans : B

Q.No: 4 Which of the following is NOT a way of investment in Human Capital?
2419306

निम्नलिखित में से कौन मानव पूंजी में निवेश का एक तरीका नहीं है?

Education

A

शिक्षा

Healthcare

B

स्वास्थ्य देखभाल

Training

C

प्रशिक्षण

Daily Wages

D

दैनिक मज़दूरी

Correct Ans : D

Q.No: 5 The Economic Survey, 2021 of India has forecast which of the following pattern of recovery of Indian Economy?
2419308

भारत के आर्थिक सर्वेक्षण, 2021 ने भारत की अर्थव्यवस्था की रिकवरी के निम्नलिखित में से किस पैटर्न का पूर्वानुमान लगाया है?

V Shaped

A

वी के आकार का

U Shaped

B

यू के आकार का

W Shaped

C

डब्ल्यू के आकार का

L Shaped

D

एल के आकार का

Correct Ans : A

Q.No: 6 Annapurna Scheme was launched in which of the following years?
2419318

अन्नपूर्णा योजना निम्नलिखित में से किस वर्ष में शुरू की गई थी?

1992

A

1992**1994**

B

1994**1998**

C

1998**2000**

D

2000

Correct Ans : D

Q.No: 7 The Union Budget 2021-22 has increased the budget allocation to the health and well-being by how much percentage?
2419329

केंद्रीय बजट 2021-22 ने स्वास्थ्य और कल्याण के लिए बजट आवंटन में कितने प्रतिशत की वृद्धि की है?

50%

A

50%

97%

B

97%

123%

C

123%

137%

D

137%

Correct Ans : D

Q.No: 8 Which of the following courts is used for Wimbledon?
2419391

विंबलडन के लिए निम्नलिखित में से किस कोर्ट का उपयोग किया जाता है?

Clay court

A

क्ले कोर्ट

Concrete court

B

कंक्रीट कोर्ट

Cemented surface court

C

सीमेंटेड सतह कोर्ट

Grass court

D

घास कोर्ट

Correct Ans : D

Q.No: 9 Which of the following countries Michael Schumacher belongs to?
2419405

माइकल शूमाकर निम्नलिखित में से किस देश से संबंधित है?

France

A

फ्रांस

Germany

B

जर्मनी

Sweden

C

स्वीडन

Switzerland

D

स्विट्जरलैंड

Correct Ans : B

Q.No: 10 The oceanic resources beyond how many nautical miles of the Exclusive Economic Zone belong to open ocean and no individual country can utilize these without the

2419462

विशिष्ट आर्थिक क्षेत्र के कितने समुद्री मील से अधिक महासागरीय संसाधन खुले समुद्र के अंतर्गत आते हैं और कोई भी देश अंतरराष्ट्रीय संस्थानों की सहमति के बिना इनका उपयोग नहीं कर सकता है?

120

A

120

160

B

160

180

C

180

200

D

200

Correct Ans : D

Q.No: 11 Which of the following type of forest is also known as 'Taiga'?

2419525

निम्नलिखित में से किस प्रकार के वन को 'टैगा' के नाम से भी जाना जाता है?

Mediterranean Trees

A

भूमध्यसागरीय पेड़

Deciduous Forest

B

पतझड़ी वन

Tropical Forest

C

उष्णकटिबंधीय वन

Coniferous Forest

D

शंकुधारी वन

Correct Ans : D

Q.No: 12 How many wars did the British fought with Mysore?

2419551

अंग्रेजों ने मैसूर से कितने युद्ध लड़े?

2

A

2

3

B

3

4

C

4

5

D

5

Correct Ans : C

Q.No: 13 Al Beruni was the Court poet of which of the following?

2419557

अल बरूनी निम्नलिखित में से किसके दरबारी कवि थे?

A

Muhammad bin Qasim

मुहम्मद बिन कासिम
Muhammad of Ghor

B

गोरी के मुहम्मद
Mahmud of Ghazni

C

गजनी के महमूद
Qutb-ud-din Aybak

D

कुतुब-उद-दीन ऐबक

Correct Ans : C

Q.No: 14 Which dynasty was also known as Yuechis or Tocharians?
2419585

किस राजवंश को यूचिस या टोचरियन के नाम से भी जाना जाता था?

Parthians

A

पार्थियन
Shakas

B

शक
Sassanians

C

सासानियन
Kushans

D

कुषाण

Correct Ans : D

Q.No: 15 Who is the creator of the character Byomkesh Bakshi?
2419631

ब्योमकेश बक्शी के चरित्र के निर्माता कौन हैं?

Satyajit Ray

A

सत्यजीत राय
Sharadindu Bandyopadhyay

B

शरदिंदु बंदोपाध्याय
Sharatchandra Chattopadhyay

C

शरतचंद्र चट्टोपाध्याय
Bibhutibhushan Bandopadhyay

D

विभूतिभूषण बंदोपाध्याय

Correct Ans : B

Q.No: 16 Who is the author of the novel "Two Leaves and a Bud"?
2419632

"टू लीव्स एंड ए बड" उपन्यास के लेखक कौन हैं?

Mulk Raj Anand

A

मुल्क राज आनंद
Raja Rao

B

राजा राव

C **Anita Desai**अनीता देसाई
Ruskin Bond

D

रस्किन बांड

Correct Ans : A

Q.No: 17 Who has authored the fairy tale "The Christmas Pig"?

2419643

परी कथा "द क्रिसमस पिग" किसने लिखी है?

Neil Murray

A

नील मरे
Harper Lee

B

हार्पर ली
J. K. Rowling

C

जे. के. राउलिंग
Stephenie Meyer

D

स्टेफनी मेयर

Correct Ans : C

Q.No: 18 The Houses of Parliament must approve the Emergency proclaimed due to the failure of Constitutional machinery in State within how much time?

2419709

संसद के सदनों को राज्य में संवैधानिक तंत्र की विफलता के कारण घोषित आपातकाल को कितने समय के भीतर मंजूरी देनी होती है?

15 Days

A

15 दिन
1 Month

B

1 महीना
45 Days

C

45 दिन
2 Months

D

2 महीने

Correct Ans : D

Q.No: 19 The Supreme Court of India has made the Right to Clean Environment implicit under which of the following Fundamental Rights?

2419720

भारत के सर्वोच्च न्यायालय ने स्वच्छ पर्यावरण के अधिकार को निम्नलिखित में से किस मौलिक अधिकार के तहत निहित किया है?

Article 14

A

अनुच्छेद 14
Article 19

B

अनुच्छेद 19
Article 21

C

अनुच्छेद 21

D

Article 25

अनुच्छेद 25

Correct Ans : C

Q.No: 20 The Constituent Assembly of India, met for the first time on which of the following days?
2419735

भारत की संविधान सभा की पहली बैठक निम्नलिखित में से किस दिन हुई?

9 December, 1946

A

9 दिसंबर, 1946

26 January, 1946

B

26 जनवरी, 1946

9 December, 1947

C

9 दिसंबर, 1947

26 January, 1947

D

26 जनवरी, 1947

Correct Ans : A

Q.No: 21 In which of the following Wars were the Holkars finally defeated by the British?
2419912

निम्नलिखित में से किस युद्ध में होल्कर अंततः अंग्रेजों द्वारा पराजित हुए थे?

Battle of Plassey

A

प्लासी की लड़ाई

Third Anglo-Maratha War

B

तीसरा आंग्ल-मराठा युद्ध

Third Battle of Panipat

C

पानीपत की तीसरी लड़ाई

Battle of Buxar

D

बक्सर की लड़ाई

Correct Ans : B

Q.No: 22 Mark the incorrect statement regarding Matki dance.
2419918

मटकी नृत्य के संबंध में गलत कथन को चिह्नित करें।

This is a community dance of Malwa

A

यह मालवा का एक समुदायी नृत्य है

This dance is performed mainly by men on the occasion of harvest

B

यह नृत्य विशेषकर आदमियों द्वारा फसल कटने पर पेश किया जाता है

The dancers move rhythmically to the beating of a drum, locally called Matki.

C

इस नृत्य में नर्तकियां ढोल की ताल पर नृत्य करती हैं, इस ढोल को स्थानीय स्तर पर 'मटकी' कहा जाता है

Initiated by a lone woman locally called Jhela

D

स्थानीय स्तर पर झेला कहलाने वाली अकेली महिला, इसे शुरू करती है

Correct Ans : B

Q.No: 23 The group of Digambar Jain temple are located in eastern part of Rehali on the right bank of which river?
2419925

दिगंबर जैन मंदिर का समूह रेहली के पूर्वी भाग में किस नदी के दाहिने किनारे पर स्थित है?

Dulung River

A

दुलुंग नदी

Sonar River

B

सोनार नदी

Dehan River

C

देहन नदी

Beas River

D

ब्यास नदी

Correct Ans : B

Q.No: 24 Where was the "Adharshila" Stone Art Festival held in Madhya Pradesh in November 2021?
2419989

नवंबर 2021 में मध्य प्रदेश में "आधारशिला" स्टोन आर्ट फेस्टिवल कहाँ आयोजित किया गया था?

Bhimbetka

A

भीमबेटका

Khajuraho

B

खजुराहो

Katni

C

कटनी

Sagar

D

सागर

Correct Ans : C

Q.No: 25 Which of the following places of Madhya Pradesh is very famous for leather toys and have also got GI-tag for the same?
2419991

मध्य प्रदेश का कौन सा स्थान चमड़े के खिलौनों के लिए बहुत प्रसिद्ध है और उसे इसके लिए जीआई-टैग भी मिला है?

Bhopal

A

भोपाल

Gwalior

B

ग्वालियर

Indore

C

इंदौर

Jabalpur

D

जबलपुर

Correct Ans : C

Q.No: 26 In the following question, a part of the sentence may have an error. Find out which part of the sentence has an error and select the appropriate option. If a sentence i

Croatia has decided to tight controls against the spread of covid-19 along its Adriatic coast.

A Croatia has decided to tight

B controls against the spread of

covid-19 along its Adriatic coast

C **COVID-19 along its Atlantic coast.**

D **No error.**

Correct Ans : **A**

Q.No: 27 In the following question, a part of the sentence may have an error. Find out which part of the sentence has an error and select the appropriate option. If a sentence i

The investigating agency was thorough interrogating the flight crew members to get the details about the plane crash.

A **interrogating the flight crew members to get**

B **The investigating agency was thorough**

C **the details about the plane crash.**

D **No error**

Correct Ans : **B**

Q.No: 28 In the following question, a part of the sentence may have an error. Find out which part of the sentence has an error and select the appropriate option. If a sentence i

The company has withdrew the drug as a precautionary measure to avoid its adverse effects.

A **to avoid its adverse effects.**

B **No error.**

C **drug as a precautionary measure**

D **The company has withdrew the**

Correct Ans : **D**

Q.No: 29 Select the most appropriate option to substitute the bracket segment in the given sentence. If no substitution is required, select No improvement.

The teacher asked the students to write a short account of what they (have seen).

A **were seen**

B **had been seen**

C **had seen**

D **No improvement**

Correct Ans : **C**

Q.No: 30 Select the most appropriate option to substitute the bracket segment in the given sentence. If no substitution is required, select No improvement.

(I find difficult) to understand why Vikas has remained silent on this matter.

A **I find very difficult**

B **I find it difficult**

C **I find somewhat difficult**

D **No improvement**

Correct Ans : **B**

Q.No: 31 Select the most appropriate option to substitute the bracket segment in the given sentence. If no substitution is required, select No improvement.

It is high time she (changes) her job.

A **must change**

B **had changed**

C **changed**

D **No improvement**

Correct Ans : **C**

Q.No: 32 Out of the given options, choose the one which is the correct passive voice of the sentence given below.

Does she do her duty?

A **Are duties done by her?**

B **Is her duty done by her?**

C **Has her duty been done by her?**

D **Have her duties being done by her?**

Correct Ans : **B**

To the question a sentence has been given in Active/Passive Voice. Out of the four alternatives suggested below, select the one which best expresses the same sentence.

Q.No: 33 In the question a sentence has been given in Active/Passive voice. Out of the four alternative suggested below, select the one which best expresses the same sentence.

Did the noise startle you?

- A **Did you startled the noise?**
- B **Was the noise startled by you?**
- C **Were you startled by the noise?**
- D **Was you startled by the noise?**

Correct Ans : C

Q.No: 34 In the following question, a sentence has been given in Active/Passive Voice. Out of the four alternatives suggested, select the one which best expresses the same sentence.

The train knocked down the man.

- A **The man was knocked down at the train.**
- B **The man was knocked down with the train.**
- C **The man was knocked down to the train.**
- D **The man was knocked down by the train.**

Correct Ans : D

Q.No: 35 A sentence has been given in Active/ Passive Voice. Out of the four alternatives suggested, select the one which best expresses the same sentence in Passive/Active Voice.

Who is ringing the bell?

- A **By who the bell is being rung?**
- B **By whom the bell is being rung?**
- C **By whom has the bell been rung?**
- D **By whom had the bell being rung?**

Correct Ans : B

Q.No: 36 Out of the given options, choose the most appropriate word/set of words to fill in the blank.

The crow _____ down and stole the cheese.

- A **flew**
- B **have flew**
- C **have fly**
- D **flown**

Correct Ans : A

Q.No: 37 Out of the given options, choose the most appropriate word/set of words to fill in the blank.

The farmer _____ the harvest.

- A **gathers**
- B **have gather**
- C **has gather**
- D **have gathered**

Correct Ans : A

Q.No: 38 Out of the given options, choose the most appropriate word/set of words to fill in the blank.

A web of lies has _____ against the developing countries in the name of environmental changes.

- A **been spun**
- B **had spun**
- C **been spin**
- D **being spun**

Correct Ans : A

Q.No: 39 Out of the given options, choose the most appropriate word/set of words to fill in the blank.

He _____ glasses for reading.

- A **wears**
- B **have worn**
- C **have wore**

D **has wear**

Correct Ans : **A**

Q.No: 40 Select the most appropriate option to fill in the blanks.

Employers should not _____ into the private lives of their employees.

A **intrude**

B **abolish**

C **alleviate**

D **belated**

Correct Ans : **A**

Q.No: 41 Select the most appropriate option to fill in the blanks.

It is futile to _____ for the something which does not exist now.

A **lament**

B **impetus**

C **influx**

D **fearless**

Correct Ans : **A**

Q.No: 42 Select the most appropriate option to fill in the blanks.

This guy did not play the game with a full _____.

A **horn**

B **nest**

C **deck**

D **gist**

Correct Ans : **C**

Q.No: 43 Select the most appropriate option to fill in the blanks.

She knew that society would _____ her for leaving her children.

A **pretend**

B **develop**

C **arrange**

D **condemn**

Correct Ans : **D**

Q.No: 44 Select the most appropriate option to fill in the blanks.

Pilots must abstain _____ alcohol for 24 hours before flying.

A **from**

B **into**

C **over**

D **away**

Correct Ans : **A**

Q.No: 45 Select the most appropriate option to fill in the blanks.

She refused to back _____ and was fired from the company.

A **upon**

B **over**

C **into**

D **down**

Correct Ans : **D**

Q.No: 46 Select the most appropriate option to fill in the blanks.

Our scientific models _____ the importance of moving towards a decision-centric framework.

A **demonstrating**

~~demonstrates~~

- B ~~demonstrate~~
- C **demonstrate**
- D **to demonstrate**

Correct Ans : C

Q.No: 47 The question below consists of a set of labelled sentences. These sentences, when properly sequenced, form a coherent paragraph. Select the most logical order of th

P. "I have a plan that seems very simple, but I know it will be successful."

Q. Many plans were discussed, but none of them was good enough.

R. At last, a very young Mouse got up and said.

- A **QPR**
- B **PQR**
- C **RQP**
- D **QRP**

Correct Ans : D

Q.No: 48 The question below consists of a set of labelled sentences. These sentences, when properly sequenced form a coherent paragraph. Select the most logical order of the

A. The British officially recognise the battle's duration as being from 10 July until 31 October 1940, which overlaps the period of large-scale night attacks known as the

B. The Battle of Britain was a military campaign of the Second World War, in which the Royal Air Force and Navy defended the UK against Nazi Germany's air force.

C. The battle has been described as the first major military campaign fought entirely by air forces.

D. German historians do not accept this subdivision and regard the battle as a single campaign lasting from July 1940 to June 1941, including the Blitz.

- A **DACB**
- B **CADB**
- C **ACDB**
- D **BCAD**

Correct Ans : D

Q.No: 49 Select the antonym for the given word.

ELEGANT

- A **Vulgar**
- B **Graceful**
- C **Refined**
- D **Sophisticated**

Correct Ans : A

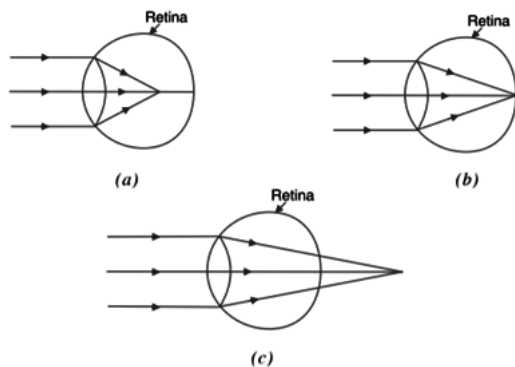
Q.No: 50 Select the CORRECTLY spelt word.

- A **Idiosyncrasy**
- B **Hipocrit**
- C **Liesure**
- D **Libarty**

Correct Ans : A

Q.No: 51 For persons a, b and c, the image/jpgs formed in their eye has been depicted below in the diagrams –

2420200

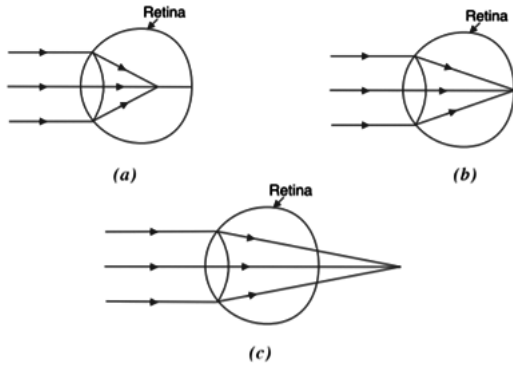


Which of the following statements is correct?

1. Person a needs bifocal lens.
2. Person c suffers from hypermetropia.

3. Person b does not have any vision-problem.

व्यक्तियों a, b और c के लिए, उनकी आंखों में बने चित्रों को नीचे दिए गए आरेखों में दर्शाया गया है -



निम्नलिखित कथनों में से कौन सही है?

1. व्यक्ति a को बाइफोकल लेंस की आवश्यकता होती है।
2. व्यक्ति c हाइपरमेट्रोपिया से पीड़ित है
3. व्यक्ति b को कोई दृष्टि-समस्या नहीं है।

Only 1 and 2

A

केवल 1 और 2

Only 2 and 3

B

केवल 2 और 3

Only 1 and 3

C

केवल 1 और 3

1, 2 and 3

D

1, 2 और 3

Correct Ans : B

Q.No: 52 Which of the following is also known as the 'laughing gas'?
2420208

निम्नलिखित में से किसे 'लैंडफिल गैस' के रूप में भी जाना जाता है?

Methane

A

मीथेन

Nitrous Oxide

B

नाइट्रस ऑक्साइड

Hydrogen sulfide

C

हाइड्रोजन सल्फाइड

Butane

D

ब्यूटेन

Correct Ans : B

Q.No: 53 A car travels in a single straight line direction. Which of the following statements can be true?
2420209

एक कार एक ही दिशा में सीधी रेखा में चलती है। निम्नलिखित में से कौन सा कथन सत्य हो सकता है?

Distance travelled by the car will always be less than displacement of the car.

A

गाड़ी द्वारा तय की गई दूरी हमेशा गाड़ी के विस्थापन से कम होगी।

Distance travelled by the car will always be more than displacement of the car.

B Distance travelled by the car will always be more than displacement of the car.

गाड़ी द्वारा तय की गई दूरी हमेशा गाड़ी के विस्थापन से अधिक होगी।

Distance travelled by the car will always be equal to displacement of the car.

C

गाड़ी द्वारा तय की गई दूरी हमेशा गाड़ी के विस्थापन के बराबर होगी।

Distance travelled by the car will be zero when displacement is zero.

D

विस्थापन शून्य होने पर गाड़ी द्वारा तय की गई दूरी शून्य होगी।

Correct Ans : C

Q.No: 54 The velocity of sound will be lowest in -

2420220

ध्वनि का वेग सबसे कम होगा -

Steel

A

स्टील

Glass

B

ग्लास

Air

C

वायु

Water

D

पानी

Correct Ans : C

Q.No: 55 Sun radiates _____ joule of energy every second.

2420222

सूर्य एक सेकण्ड में _____ जूल ऊर्जा का विकिरण करता है।

3.86×10^{28}

A

3.86×10^{28}

3.86×10^{26}

B

3.86×10^{26}

4.92×10^{30}

C

4.92×10^{30}

4.92×10^{32}

D

4.92×10^{32}

Correct Ans : B

Q.No: 56 Corrosion means deterioration of metals by which of the following?

2420369

संक्षारण का अर्थ निम्नलिखित में से किसके द्वारा धातुओं का क्षरण है?

Electrochemical Process

A

विद्युत रासायनिक प्रक्रिया

B

Electroanalytical Process

वैद्युत वैश्लेषिक विधि

Electromagnetic Process

C

विद्युतचुंबकीय प्रक्रिया

Hydroelectric Process

D

जलविद्युत प्रक्रिया

Correct Ans : **A**

Q.No: 57 Which of the following gas is the main constituent of the Protein?

2420370

निम्नलिखित में से कौन सी गैस प्रोटीन का मुख्य घटक है?

Ammonia

A

अमोनिया

Nitrogen

B

नाइट्रोजन

Oxygen

C

ऑक्सीजन

Carbon dioxide

D

कार्बन डाइऑक्साइड

Correct Ans : **B**

Q.No: 58 Presence of Oxygen speeds up the process of Oxidation in food. The presence of which of the following helps in reduction of such speed so that the oxidation occurs :

2420372

ऑक्सीजन की उपस्थिति भोजन में ऑक्सीकरण की प्रक्रिया को तेज करती है। निम्नलिखित में से किसकी उपस्थिति ऐसी गति को कम करने में मदद करती है ताकि ऑक्सीकरण मध्यम दर पर हो?

Nitrogen

A

नाइट्रोजन

Argon

B

आर्गन

Carbon dioxide

C

कार्बन डाइऑक्साइड

Helium

D

हीलियम

Correct Ans : **A**

Q.No: 59 Which of the following gases is used in the Fire Extinguishers?

2420376

अग्निशामक यंत्रों में निम्नलिखित में से किस गैस का उपयोग किया जाता है?

Argon

A

आर्गन

Helium

B

हीलियम

C

Hydrogen

हाइड्रोजन

Carbon dioxide**D**

कार्बन डाइआक्साइड

Correct Ans : **D**

Q.No: 60 Which of the following agencies is responsible for the keeping track of developments of landslides?
2420383

भूस्खलन की घटनाओं पर नज़र रखने के लिए निम्नलिखित में से कौन सी एजेंसी जिम्मेदार है?

Indian Meteorological Department

A

भारतीय मौसम विभाग

Indian National Centre for Oceanic Information Services

B

महासागरीय सूचना सेवाओं के लिए भारतीय राष्ट्रीय केंद्र

Geological Survey of India

C

जियोलाजिकल सर्वे ऑफ़ इंडिया

Snow and Avalanche Study Establishment

D

ससो एंड एवलांच स्टडी एस्टाब्लिशमेंट

Correct Ans : **C**

Q.No: 61 Which of the following organizations has first defined health as "State of complete physical, mental and social well being and not merely the absence of disease"?
2420505

निम्नलिखित में से किस संगठन ने सबसे पहले स्वास्थ्य को "पूर्ण शारीरिक, मानसिक और सामाजिक कल्याण की अवस्था, न कि केवल रोग की अनुपस्थिति" के रूप में परिभाषित किया है?

Union Ministry of Health, India

A

केंद्रीय स्वास्थ्य मंत्रालय, भारत

World Health Organisation

B

विश्व स्वास्थ्य संगठन

UNICEF

C

यूनिसेफ

OECD

D

ओईसीडी

Correct Ans : **B**

Q.No: 62 Which of the following is NOT a sign of physical health but of mental health?
2420506

निम्नलिखित में से कौन शारीरिक स्वास्थ्य का नहीं बल्कि मानसिक स्वास्थ्य का संकेत है?

Being energetic and alert.

A

ऊर्जावान और सतर्क रहना

Having bright and shining eyes.

B

चमकदार आंखें होना

Being sensitive towards the needs of others.

C

दूसरों की जरूरतों के प्रति संवेदनशील होना

Getting sound sleep.

D

अच्छी नींद लेना

Correct Ans : C

Q.No: 63 The malaria parasite life-cycle involves _____ host/s.

2420516

मलेरिया परजीवी जीवन-चक्र में _____ होस्ट शामिल होता है।

One

A

एक

Two

B

दो

Three

C

तीन

Four

D

चार

Correct Ans : B

Q.No: 64 *Naegleria fowleri* can cause -

2420526

नेगलेरिया फाउलेरी से _____ हो सकता है -

Bacterial meningitis

A

बैक्टीरियल मेनिंजाइटिस

Viral meningitis

B

वायरल मेनिंजाइटिस

Amebic meningitis

C

अमीबिक मेनिंजाइटिस

Fungal meningitis

D

फंगल मेनिंजाइटिस

Correct Ans : C

Q.No: 65 Which of the following diseases is also known as Rubeola?

2420527

निम्नलिखित में से किस रोग को रूबेओला (Rubeola) के नाम से भी जाना जाता है?

Measles

A

खसरा

Polio

B

पोलियो

Meningitis

C

मेनिंजाइटिस

Malaria

D

मलेरिया

Correct Ans : A

Q.No: 66 Litmus is extracted from -

2420648

लिटमस निकाला जाता है _____ से -

Lichens

A

लाइकेन

Papaya

B

पपीता

Graphite

C

ग्रेफाइट

Lemons

D

नींबू

Correct Ans : **A**

Q.No: 67 Mixing vinegar and baking soda gives -
2420651

सिरका और बेकिंग सोडा मिलाकर देता है -

Carbon dioxide gas

A

कार्बन डाइऑक्साइड गैस

Acetic acid

B

एसिटिक एसिड

Sodium stearate

C

सोडियम स्टीयरेट

Chloroform

D

क्लोरोफॉर्म

Correct Ans : **A**

Q.No: 68 Reaction between carbon dioxide and lime water gives -
2420652

कार्बन डाइऑक्साइड और चूने के पानी के बीच अभिक्रिया देता है -

Methane

A

मीथेन

Calcium hydroxide

B

कैल्शियम हाइड्रॉक्साइड

Calcium carbonate

C

कैल्शियम कार्बोनेट

Calcium sulphate

D

कैल्शियम सल्फेट

Correct Ans : **C**

Q.No: 69 In which year was Nylon first made without using any natural raw material (from plant or animal)?
2420666

बिना किसी प्राकृतिक कच्चे माल (पौधे या जानवर से) का उपयोग किए बिना पहली बार नायलॉन किस वर्ष बनाया गया था?

A

1922

1922**1931****B****1931****1943**

C

1943**1956**

D

1956Correct Ans : **B**

Q.No: 70 Which of the following takes the least time to degenerate?

2420672

निम्नलिखित में से किसे पतित होने में सबसे कम समय लगता है?

Paper**A**

पेपर

Cotton cloth

B

सूती कपड़े

Wood

C

लकड़ी

Woolen clothes

D

ऊनी कपड़े

Correct Ans : **A**

Q.No: 71 Which of the following is NOT a non-biodegradable material?

2420673

निम्नलिखित में से कौन एक अजैव निम्नीकरणीय पदार्थ नहीं है?

Glass

A

ग्लास

Plastic

B

प्लास्टिक

Metal can

C

धातु कर सकते हैं

Wool

D

ऊनी

Correct Ans : **D**

Q.No: 72 Our wrist is made up of many small bones also known as which of the following?

2420893

हमारी कलाई कई छोटी हड्डियों से बनी होती है जिसे निम्न में से किस नाम से भी जाना जाता है?

Carpals**A**

कारपेल

B

Phalanges

फ्रलागेस

Triquetrum

C

वृकेट्रम

Scaphoid

D

स्काफोइड

Correct Ans : A

Q.No: 73 Which of the following is NOT one of the categories of plants?

2420896

निम्नलिखित में से कौन पौधों की श्रेणियों में से एक नहीं है?

Shrubs

A

झाड़ियां

Weeds

B

खरपतवार

Herbs

C

शाक

Trees

D

वृक्ष

Correct Ans : B

Q.No: 74 The inner most part of the flower is known as which of the following?

2420901

फूल के सबसे भीतरी भाग को निम्नलिखित में से किस नाम से जाना जाता है?

Stamens

A

पुंकेसर

Pistils

B

स्त्रीकेसर

Sepals

C

बाह्यदल

Petals

D

पंखुड़ियों

Correct Ans : B

Q.No: 75 The organisms which take in nutrients from dead and decaying matter is known as which of the following?

2420907

वे जीव जो मृत और क्षयकारी पदार्थों से पोषक तत्व ग्रहण करते हैं, निम्नलिखित में से किसे कहते हैं?

Saprotrophs

A

मृतपोषी

Parasites

B

परजीवी

Autotrophs

C

स्वपोषक

--

D **Algae**

शैवाल

Correct Ans : **A**

Q.No: 76 A(n) _____ is software that you purchase that solves one task.

2411546

----- एक सॉफ्टवेयर है जिसे आप किसी एक कार्य को संपादित करने के लिये खरीदते हैं।

Suite

A

सूट

stand-alone program

B

स्टैंड एलोन प्रोग्राम

open-source program

C

ओपन सोर्स प्रोग्राम

freeware program

D

फ्रीवेयर प्रोग्राम

Correct Ans : **B**

Q.No: 77 Personal computers can be connected together to form a _____.

2411551

पर्सनल कंप्यूटर को ---- बनाने के लिए एक साथ जोड़ा जा सकता है।

Server

A

सर्वर

supercomputer

B

सुपर कंप्यूटर

network

C

नेटवर्क

Enterprise

D

एंटरप्राइज

Correct Ans : **C**

Q.No: 78 To make a notebook act as a desktop model, the notebook can be connected to a _____ which is connected to a monitor and other devices.

2411553

एक नोटबुक को एक डेस्कटॉप मॉडल के रूप में कार्य करने के लिए, नोटबुक एक ----- से जोड़ा जा सकता है, जो एक मॉनिटर और अन्य उपकरणों से जुड़ा होता है।

Bay

A

बे

docking station

B

डॉकिंग स्टेशन

port

C

पोर्ट

Network

D

नेटवर्क

Correct Ans : **B**

Q.No: 79 The term _____ originated with large books of reproducible image/jpgs.

2411560

----- टर्म रिप्रोड्यूस की जा सकने वाली इमेजे की बड़ी पुस्तकों के साथ शुरू हुआ।

clip art

A

क्लिप आर्ट

scanned image/jpgs

B

स्कैन्ड इमेजेज

digital photo

C

डिजिटल फोटो

bitmap

D

बिटमैप

Correct Ans : A

Q.No: 80 Where is the copyright information located on most webpages?

2411563

अधिकतर वेबपेजों पर स्थित कॉपीराइट जानकारी कहां स्थित होती है?

Title

A

टाइटिल

Header

B

हेडर

Footer

C

फूटर

Sidebar

D

साइडबार

Correct Ans : C

Q.No: 81 Which filter method lets you filter the records that match the selected field?

2411569

कौन सी फिल्टर मेथड आप को चयनित क्षेत्र से मेल खाने वाले अभिलेख को फिल्टर करने की अनुमति देती है?

Filter by form

A

फिल्टर बाई फॉर्म

Filter by selection

B

फिल्टर बाई सेलेक्शन

Auto filter

C

ऑटो फिल्टर

Advanced filter

D

एडवांस्ड फिल्टर

Correct Ans : B

Q.No: 82 To place a sound into a Word document, you would use the _____ feature of Windows.

2411571

किसी वर्ड डॉक्यूमेंट में एक साँउंड डालने के लिए, आप विंडोज की ----- सुविधा का प्रयोग करेंगे।

OLE

A

ओएलई

Clipboard

B

क्लिपबोर्ड

Paste

C

पेस्ट

task switching

D

टास्क स्विचिंग

Correct Ans : **A**

Q.No: 83 Data that is copied from an application is stored in the_____.

2411575

एक डेटा जो एप्लिकेशन से कॉपी किया जाता है,----- में संग्रहीत रहता है।

Driver

A

ड्राइवर

Clipboard

B

क्लिपबोर्ड

terminal

C

टर्मिनल

prompt

D

प्रॉम्प्ट

Correct Ans : **B**

Q.No: 84 Input, output and processing devices grouped together represent a (n)

2411579

इनपुट, आउटपुट और प्रोसेसिंग डिवाइस एक साथ समूहीकृत किये जाने पर ----- का प्रतिनिधित्व करते हैं।

Mobile device

A

मोबाइल डिवाइस

Information processing cycle

B

इनफॉर्मेशन प्रोसेसिंग साइकिल

Circuit board

C

सर्किट बोर्ड

Computer system

D

कंप्यूटर सिस्टम

Correct Ans : **D**

Q.No: 85 Which part of the computer helps to store information?

2411580

कंप्यूटर का कौन सा भाग इन्फार्मेशन, स्टोर करने में मदद करता है?

Disk drive

A

डिस्क ड्राइव

B CPU

सीपीयू

Monitor

C

मॉनिटर

Keyboard

D

कीबोर्ड

Correct Ans : A

Q.No: 86 What is the full form of 'MAN'?

2411598

'MAN' का पूरा नाम क्या है?

Man Area Network

A

Man Area Network

Meter Area Network

B

Meter Area Network

Metropolitan Area Network

C

Metropolitan Area Network

Manage Area Network

D

Manage Area Network

Correct Ans : C

Q.No: 87 The computer's capability of distinguishing spoken words is called _____

2411611

बोले गए शब्दों को अलग करने की कंप्यूटर की क्षमता को _____ कहा जाता है

Voice analysis

A

Voice analysis

Speech acknowledgment

B

Speech acknowledgment

Speech interpretation

C

Speech interpretation

Voice recognition

D

Voice recognition

Correct Ans : D

Q.No: 88 Science Novel by John Bruner titled 'Shockwave Rider' first time coined the term _____?

2411626

John Bruner द्वारा साइंस नोवेल 'Shockwave Rider' में पहली बार _____ शब्द का उपयोग किया?

Bug

A

Bug

Vice

B

Vice

C

Lice

Lice**Worm****D****Worm**Correct Ans : **D**

Q.No: 89 Microsoft Office is?

2411627

Microsoft Office क्या है?

Shareware

A

Shareware**Public domain software**

B

Public domain software**Open-source software**

C

Open-source software**An application suite****D****An application suite**Correct Ans : **D**

Q.No: 90 Print server uses _____ which is a buffer that holds data before it is send to the printer.

2411645

Print server _____ का उपयोग करता है जो एक buffer है जो प्रिंटर को भेजने से पहले डेटा रखता है।

Queue

A

Queue**Spool**

B

Spool**Node**

C

Node**Matrix**

D

MatrixCorrect Ans : **B**

Q.No: 91 Which among the following key combination is used for deleting the selected item permanently without moving the item to the Recycle Bin?

2411653

आइटम को रसायकल बिन में स्थानांतरित किए बिना चयनित आइटम को स्थायी रूप से हटाने के लिए निम्न कुंजी संयोजन में से कौन सा उपयोग किया जाता है?

Shift + Delete

A

Shift + Delete**Delete**

B

Delete**Ctrl + Delete**

C

Ctrl + Delete

D

Alt + Delete

Alt + DeleteCorrect Ans : **A**

Q.No: 92 In Computer terminology 'CAD' is stands for?
2411655

Computer terminology में 'CAD' क्या होता है?

Computer And Design

A

Computer And Design**Computer Algorithm in Design**

B

Computer Algorithm in Design**Compact Adding Device**

C

Compact Adding Device**Computer Aided Design**

D

Computer Aided DesignCorrect Ans : **D**

Q.No: 93 Drum Pen is a type of-
2411844

ड्रम पेन एक प्रकार का _____ है।

Printer

A

प्रिंटर**Plotter**

B

प्लॉटर**Scanner**

C

स्कैनर**Keyboard**

D

की-बोर्डCorrect Ans : **B**

Q.No: 94 Protocol suite for the Current Internet is-
2411856

वर्तमान इंटरनेट के लिए प्रोटोकॉल सूट है-

TCP/IP

A

टीसीपी/आईपी**NCP**

B

एनसीपी**UNIX**

C

यूनिक्स**ACM**

D

एसीएमCorrect Ans : **A**

Q.No: 95 Which feature in database is that data base allows to access only certain records-

2411868

डेटा बेस में कौन सी सुविधा जो डेटा बेस को कुछ रिकार्ड्स को उपयोग करने की अनुमति देता है-

Tables

A

टेबल्स

Reports

B

रिपोर्ट्स

Queries

C

क्वेरीज

Forms

D

फॉर्मस्

Correct Ans : C

Q.No: 96 What is the full form of USB?

2411875

USB का पूर्ण रूप क्या है?

Universal Storage Byte

A

यूनिवर्सल स्टोरेज बाइट

Universal Serial Bus

B

यूनिवर्सल सीरियल बस

Unique Storage Bus

C

यूनिक स्टोरेज बस

Unique Serial Bit

D

यूनिक सीरियल बिट

Correct Ans : B

Q.No: 97 How many function keys are present on keyboard?

2411877

कीबोर्ड पर कितनी फ़ंक्शन कुंजियाँ मौजूद हैं?

11

A

11**12**

B

12**14**

C

14**15**

D

15

Correct Ans : B

Q.No: 98 In which of the following menu screenshot option is found in MS PowerPoint?

2411898

एमएस पावरपॉइंट में निम्नलिखित में से कौन से मेनू में स्क्रीनशॉट विकल्प पाया जाता है?

A

Home

होम

Insert**B**

इन्सर्ट

Design

C

डिजाइन

Animation

D

एनिमेशन

Correct Ans : **B**

Q.No: 99 Which among the following is NOT an application software?

2412419

निम्नलिखित में से कौन-सा एप्लीकेशन सॉफ्टवेयर नहीं है?

Oracle

A

Oracle**MS-Word**

B

MS-Word**MS-Excel**

C

MS-Excel**Unix****D****Unix**Correct Ans : **D**

Q.No: 100 What is the full form of UNIVAC?

2412580

UNIVAC का पूर्ण रूप क्या है?

Universal Automatic Calculator

A

Universal Automatic Calculator**Universal Automatic Computer****B****Universal Automatic Computer****Unique Automatic Calculator**

C

Unique Automatic Calculator**Universal Algorithm Computer**

D

Universal Algorithm ComputerCorrect Ans : **B**

Q.No: 101 Select the term that will come next in the following series.

2417553

A, B, D, H, _____

उस पद का चयन करें, जो निम्नलिखित श्रृंखला में अगला आएगा।

A, B, D, H, _____

L

A

L**B****N**

N**R**

C

R**P****D****P**Correct Ans : **D**

Q.No: 102 Which of the following options will complete the given series:
2417566 by_b_y_b_yyb

दिए गए पैटर्न में लुप्त अक्षर ज्ञात कीजिए।

by_b_y_b_yyb

ybyb**A****ybyb****bbyb**

B

bbyb**ybyb**

C

ybyb**byby**

D

bybyCorrect Ans : **A**

Q.No: 103 Find the odd one among the following.
2417618

निम्नलिखित में से विषम ज्ञात कीजिए।

Cat

A

बिल्ली

Dog

B

कुत्ता

Tiger

C

बाघ

Elephant

D

हाथी

Correct Ans : **D**

Q.No: 104 Find the odd one among the following.
2417631

निम्नलिखित में से विषम ज्ञात कीजिए।

Lorry

A

लॉरी

Truck

B

ट्रक

C **Car**

कार

Submarine

D

पनडुब्बी

Correct Ans : D

Q.No: 105 In the following question, select the odd letters from the given alternatives.

2417673

निम्न प्रश्न में, दिए गए विकल्पों में से विषम अक्षरों का चयन करें।

MPS

A

MPS**CFI**

B

CFI**JLO**

C

JLO**SVY**

D

SVY

Correct Ans : C

Q.No: 106 "Night blindness" is related to "Vitamin A" in the same way as "Beri Beri" is related to _____?

2417706

जिस प्रकार रतौंधी" का संबंध "विटामिन A" से है उसी प्रकार "बेरी बेरी" का संबंध ___ से है?

Vitamin A

A

विटामिन A

Vitamin B

B

विटामिन B

Vitamin C

C

विटामिन C

Vitamin D

D

विटामिन D

Correct Ans : B

Q.No: 107 In the following question, select the related word from the given alternatives.

2417712

Printer : hardware :: ? : software

निम्नलिखित प्रश्न में, दिए गए विकल्पों में से संबंधित शब्द का चयन करें।

प्रिंटर : हार्डवेयर :: ? : सॉफ्टवेयर

Mouse

A

माऊस

Desktop

B

डेस्कटॉप

C

Android

एंड्रॉइड

Mobile

D

मोबाइल

Correct Ans : C

Q.No: 108 In the following question, select the related word from the given alternatives.
 2417716 Austria : Vienna :: Jordan : ?

निम्नलिखित प्रश्न में, दिए गए विकल्पों में से संबंधित शब्द का चयन करें।
 ऑस्ट्रिया : वियना :: जॉर्डन : ?

Arab

A

अरब

Syria

B

सीरिया

Lebanon

C

लेबनान

Amman

D

अम्वान

Correct Ans : D

Q.No: 109 In the following question, select the related word from the given alternatives.
 2417722 Tides : water :: ? : air

निम्नलिखित प्रश्न में, दिए गए विकल्पों में से संबंधित शब्द का चयन करें।
 ज्वार : पानी :: ? : वायु

Volcano

A

ज्वालामुखी

Earthquake

B

भूकंप

Wind

C

पवन

Tsunami

D

सुनामी

Correct Ans : C

Q.No: 110 If TRAIN is coded as UTDMS in a certain language, how will PLANE be coded in the same language?
 2417747

यदि TRAIN को एक निश्चित भाषा में UTDMS के रूप में कुटित किया जाता है, तो PLANE को उसी भाषा में कैसे कुटित किया जाएगा?

TOMKL

A

TOMKL

QNDRJ

B

QNDRJ

SDBGT

C

SDBGT

QWERT

D

QWERT

Correct Ans : B

Q.No: 111 If in a certain code language 'RAMAN' is coded as '18113114', then how will 'KAPILA' be coded in that language?
2417751

यदि एक निश्चित कोड भाषा में 'RAMAN' को '18113114' के रूप में कूटित किया जाता है, तो उस भाषा में 'KAPILA' को कैसे कूटित किया जाएगा?

111196112

A

111196112**111169112**

B

111169112**111169121**

C

111169121**116119121**

D

116119121

Correct Ans : C

Q.No: 112 If 'GERMANY' is written as '7, 5, 18, 13, 1, 14, 25', how can 'FRANCE' be written in that code?
2417757

यदि 'GERMANY' को '7, 5, 18, 13, 1, 14, 25' के रूप में लिखा जाता है, तो 'FRANCE' को उस कोड में कैसे लिखा जा सकता है?

6, 18, 1, 14, 3, 5

A

6, 18, 1, 14, 3, 5**6, 3, 18, 14, 1, 5**

B

6, 3, 18, 14, 1, 5**8, 2, 14, 5, 13, 6**

C

8, 2, 14, 5, 13, 6**8, 16, 14, 3, 1, 5**

D

8, 16, 14, 3, 1, 5

Correct Ans : A

Q.No: 113 If 'DELHI' is coded as '73541' and 'CALCUTTA' as '82589662', how will 'CALICUT' be coded?
2417763

यदि 'DELHI' को '73541' और 'CALCUTTA' को '82589662' के रूप में कूटित किया गया है, तो 'CALICUT' को कैसे कूटित किया जाएगा?

5279431

A

5279431**5978213**

B

5978213**8251896**

C

8251896**8543691**

D

8543691

Correct Ans : C

Q.No: 114 From the given alternative words, select the word which can be formed using the letters of the given word.

2417887

SOMNAMBULISM

निम्नलिखित विकल्पों में से वह शब्द चुनिए जो दिए गए शब्द के अक्षरों का प्रयोग करके बनाया जा सकता है।

SOMNAMBULISM

NAMES

A

NAMES

BASALT

B

BASALT

SOUL

C

SOUL

BIOME

D

BIOME

Correct Ans : C

Q.No: 115 From the given alternative words, select the word which cannot be formed using the letters of the given word.

2417891

IMPRACTICABLE

निम्नलिखित विकल्पों में से वह शब्द चुनिए जो दिए गए शब्द के अक्षरों का प्रयोग करके नहीं बनाया जा सकता?

IMPRACTICABLE

CAPABLE

A

CAPABLE

PARTICLE

B

PARTICLE

PRACTICAL

C

PRACTICAL

PEACE

D

PEACE

Correct Ans : D

Q.No: 116 From the given alternative words, select the word which cannot be formed using the letters of the given word.

2417897

CHRONOLOGICAL

निम्नलिखित विकल्पों में से वह शब्द चुनिए जो दिए गए शब्द के अक्षरों का प्रयोग करके नहीं बनाया जा सकता है।

CHRONOLOGICAL

CALL

A

CALL

LOGIC

B

LOGIC

CALICO

C

CALICO

D

ANALOGY

ANALOGYCorrect Ans : **D**

Q.No: 117 From the given alternative words, select the word which cannot be formed using the letters of the given word.

2417903**ENVIRONMENT**

निम्नलिखित विकल्पों में से वह शब्द चुनिए जो दिए गए शब्द के अक्षरों का प्रयोग करके नहीं बनाया जा सकता?

ENVIRONMENT**ENTER**

A

ENTER**METRE**

B

METRE**IRON**

C

IRON**MOMENTUM**

D

MOMENTUMCorrect Ans : **D**

Q.No: 118 Find the missing number in the series.

2417945

2, 5, 11, 17, 23, ?, 41, 47

श्रृंखला में लुप्त संख्या ज्ञात कीजिए।

2, 5, 11, 17, 23, ?, 41, 47

27

A

27**29**

B

29**31**

C

31**35**

D

35Correct Ans : **C**

Q.No: 119 In the following question select the related number from the given alternatives.

2417976

784 : 812 :: 1024 : _____

दिए गए विकल्पों में से संबंधित संख्या का चयन करें।

784 : 812 :: 1024 : _____

1040

A

1040**1056**

B

1056

C

1132

1132**1098**

D

1098Correct Ans : **B**

Q.No: 120 In the following question select the related number from the given alternatives.

2417982 24 : 575 :: 32 : _____

दिए गए विकल्पों में से संबंधित संख्या का चयन करें।

24 : 575 :: 32 : _____

1023

A

1023**991**

B

991**1227**

C

1227**865**

D

865Correct Ans : **A**

Q.No: 121 Which two signs should be interchanged to make the given equation correct?

2417992 $20 + 5 \times 3 \div 3 - 1 = 14$

निम्नलिखित समीकरण को सही रूप से हल करने के लिए किन दो चिन्हों को एक-दूसरे के स्थान पर रखना होगा?

 $20 + 5 \times 3 \div 3 - 1 = 14$ **× and -**

A

× और -**÷ and ×**

B

÷ और ×**÷ and +**

C

÷ और +**× and +**

D

× और +Correct Ans : **C**

Q.No: 122 Which two signs should be interchanged to make the given equation correct?

2417996 $4 + 8 \times 12 \div 6 - 4 = 8$

दिए गए समीकरण को सही बनाने के लिए किन दो चिन्हों को आपस में बदलना चाहिए?

 $4 + 8 \times 12 \div 6 - 4 = 8$ **+ and ÷**

A

+ और ÷

B

× and +

× और +
÷ and -

C

÷ और -
- and +

D

- और +

Correct Ans : A

Q.No: 123 Which two signs should be interchanged to make the following equation correct?

2418002

$$18 + 12 \times 8 - 6 \div 3 = 9$$

निम्नलिखित समीकरण को सही बनाने के लिए किन दो चिन्हों को परस्पर बदलना होगा?

$$18 + 12 \times 8 - 6 \div 3 = 9$$

× and ÷

A

× और ÷
+ and ×

B

+ और ×
÷ and +

C

÷ और +
- and ×

D

- और ×

Correct Ans : C

Q.No: 124 If '+' means '×', '-' means '÷', '×' means '-' and '÷' means '+', then what will be the value of $16 \div$

2418008

$$4 \times 10 - 5 + 8 = ?$$

यदि '+' का अर्थ '×' हो, '-' का अर्थ '÷' हो, '×' का अर्थ '-' हो, और '÷' का अर्थ '+' हो तो $16 \div 4 \times 10 - 5 + 8$ का मान क्या होगा?

12

A

12

8

B

8

4

C

4

2

D

2

Correct Ans : C

Q.No: 125 Identify the diagram that best represents the relationship among the given classes.

2418256

Pets, Dogs, animals

निम्न में से उस आरेख का चयन करें जो दिए गए वर्गों में उचित संबंध को दर्शाता है?

पालतू जानवर, कुत्ते, जानवर

A





B



C



D



Correct Ans : D

Q.No: 126 Downward movement of an employee in organisation hierarchy with lower status and lower salary concerned with **2418535**

किसी संगठन के पदानुक्रम में किसी कर्मी का कमतर दर्जा और वेतन के साथ निम्न पदों की ओर प्रचलन, निम्नलिखित में से किसके अंतर्गत आता है

Demotion

A

पदावनति

Promotion

B

पदोन्नति

Resignation

C

त्यागपत्र

Discharge

D

डिस्चार्ज

Correct Ans : A

Q.No: 127 Such transfers which are made to rectify wrong selection and placement of personnel come under: **2418541**

ऐसा स्थानांतरण जो कर्मियों के गलत चयन और प्लेसमेंट को ठीक करने के लिए किया जाता है, वह निम्नलिखित में से किसके अंतर्गत आता है?

Shift transfers

A

शिफ्ट ट्रांसफर

Versatility transfers

B

बहुमुखी प्रतिभा स्थानांतरण

C

Production transfers

उत्पादन स्थानांतरण

Remedial transfers**D**

उपचारात्मक स्थानांतरण

Correct Ans : **D**Q.No: 128 Golden handshake scheme is
2418545

गोल्डन हैंडशेक स्कीम है

Voluntary retirement scheme**A**

स्वैच्छिक सेवा निवृत्ति स्कीम

Promotion scheme

B

प्रोन्नति की स्कीम

Transfer scheme

C

स्थानांतरण की स्कीम

Demotion

D

पदावनति

Correct Ans : **A**Q.No: 129 Dumping of toxic waste on land causes – pollution
2418573

विषाक्त कचरे को जमीन में ठिकाने लगाने से प्रदूषण होता है

Noise pollution

A

ध्वनि प्रदूषण

Water pollution

B

जल प्रदूषण

Air pollution

C

वायु प्रदूषण

Land pollution

D

भूमि प्रदूषण

Correct Ans : **D**Q.No: 130 Which of the following does not comes under characteristics of business activities
2418579

निम्नलिखित में से कौन-सा, व्यावसायिक गतिविधियों की विशेषताओं के अंतर्गत नहीं आता है

A production and procurement of goods and services

A

वस्तुओं और सेवाओं का उत्पादन और खरीद

Dealings in goods and services on a regular basis

B

नियमित आधार पर वस्तुओं और सेवाओं का व्यापार

Profit earning

C

लाभ अर्जन

No element of risk involved

D

जोखिम का कोई तत्व सम्मिलित न होना

Correct Ans : D

Q.No: 131 _____ are undesirable or unfavourable event in a business related with factors like changes in consumer, taste, fashion changes in methods of production
2418580

_____ एक व्यवसाय में अवांछनीय या प्रतिकूल घटना होती है जो उपभोक्ता की रुचि में परिवर्तन, उत्पादन के तरीकों में तथा फैशन में परिवर्तन आदि कारकों से संबंधित है।

Profit

A

लाभ

Risk

B

जोखिम

Procurement of goods

C

माल की प्राप्ति

Credit

D

क्रेडिट

Correct Ans : B

Q.No: 132 Identify the correct statement from the following
2418589

निम्नलिखित में से सही कथन चुनें

Word karta is related with joint Hindu family business

A

कर्ता शब्द का सम्बन्ध संयुक्त हिन्दू परिवार व्यवसाय से है

A sole trader and his business are separate entity in eyes of law

B

एक अकेला व्यापारी और उसका व्यवसाय कानून की दृष्टि से पृथक इकाई हैं

Risk involved in running a partnership firm are not shared by all the partners

C

साझेदारी फर्म के संचालन में सम्मिलित जोखिम सभी भागीदारों द्वारा साझा नहीं किया जाता

The membership of a cooperative society is not voluntary

D

सहकारी समिति की सदस्यता स्वैच्छिक नहीं होती

Correct Ans : A

Q.No: 133 Which of the following comes under long term sources of funds
2418684

निम्नलिखित में से कौन धन के दीर्घकालिक स्रोतों के अंतर्गत आता है

Trade credit

A

व्यापार ऋण

Commercial papers

B

वाणिज्यिक पत्र

Equity shares

C

इक्विटी शेयर

Factoring

D

फैक्टरिंग

Correct Ans : C

Q.No: 134 The equity share capital is also known as
2418687

इक्विटी शेयर पूंजी को निम्न में से किस नाम से भी जाना जाता है

Debentures

A

ऋणपत्र

Preference shares

B

वरीयता शेयर

Ownership capital

C

स्वामित्व पूंजी

Commercial paper

D

वाणिज्यिक पत्र

Correct Ans : C

Q.No: 135 Which of the following does not comes under characteristics of entrepreneurship

2418688

निम्नलिखित में से कौन-सी, उद्यमिता की एक विशेषता नहीं है

Systematic activity

A

व्यवस्थित गतिविधि

Unlawful activity

B

गैरकानूनी गतिविधि

Organisation of production

C

उत्पादन का संगठन

Risk taking

D

जोखिम लेना

Correct Ans : B

Q.No: 136 Marketing is characterized by:

2418716

विपणन की विशेषता है:

Non operational

A

गैर-संचालित

Customer oriented

B

ग्राहक उन्मुख

Unacceptable values

C

अस्वीकार्य मूल्यों

Non reactive to environment

D

पर्यावरण के प्रति गैर प्रतिक्रियाशील

Correct Ans : B

Q.No: 137 It deals with planning, organising, directing, coordinating, motivating and controlling the marketing activities

2418720

यह विपणन से संबंधित गतिविधियों की योजना बनाता है, उसकी व्यवस्था, निर्देशन, समन्वयन करता है और उन्हें प्रेरित और नियंत्रित करता है

Human resource management

A

मानव संसाधन का प्रबंधन

B **Production and operation management**

उत्पादन और प्रचालन प्रबंधन

Marketing management

C

विपणन प्रबंधन

Financial management

D

वित्तीय प्रबंधन

Correct Ans : C

Q.No: 138 ----- marketing is concerned with exploiting the happening of an event in every walk of social life

2418725

-----मार्केटिंग, सामाजिक जीवन के हर क्षेत्र में होने वाले इवेंट से अपने लिए कुछ प्राप्त करने से संबंधित है

Speed marketing

A

स्पीड मार्केटिंग

Mega marketing

B

मेगा मार्केटिंग

Event marketing

C

इवेंट मार्केटिंग

Counter marketing

D

काउंटर मार्केटिंग

Correct Ans : C

Q.No: 139 Grouping of marketing activities into areas of specialisation such as advertising sales and marketing research comes under the concept of

2418733

विपणन की गतिविधियों को विशेषज्ञता के क्षेत्रों जैसे कि विज्ञापन, बिक्री और विपणन अनुसंधान में समूहीकरण किस अवधारणा के अंतर्गत आता है

Product approach

A

उत्पाद दृष्टिकोण

Customer approach

B

ग्राहक दृष्टिकोण

Functional approach

C

क्रियात्मक दृष्टिकोण

Geographic approach

D

भौगोलिक दृष्टिकोण

Correct Ans : C

Q.No: 140 Management is a continuous process means

2418779

प्रबंधन एक सतत प्रक्रिया है, इसका क्या अर्थ है

Its functions are repeated time and again

A

इसके प्रकार्यों को बारम्बार दोहराया जाता है

It stops anywhere

B

यह कहीं भी रुक जाता है

C

It is not an ongoing process of planning and execution.

यह नियोजन और निष्पादन की सतत प्रक्रिया नहीं है।

It does not involves planning organising staffing directing and controlling

D

इसमें नियोजन, संगठन, स्टाफिंग, निर्देशन और नियंत्रण सम्मिलित नहीं हैं

Correct Ans : A

Q.No: 141 Management as a science does not have the following characteristics
2418780

एक विज्ञान के रूप में प्रबंधन की निम्नलिखित में से कौन-सी विशेषता नहीं है:

Systematised body of knowledge

A

ज्ञान का व्यवस्थित ढांचा

Verifiable principles

B

सत्यापन योग्य सिद्धांत

Application of Management concept and principles

C

प्रबंधन की अवधारणा और सिद्धांतों का अनुप्रयोग

Universal application

D

सार्वभौमिक अनुप्रयोग

Correct Ans : C

Q.No: 142 To manage is to forecast and plan to organise, to command, to co-ordinate and to control is given by
2418783

पूर्वानुमान करना, और संगठन और कमांड और समन्वय और नियंत्रण की योजना बनाना ही प्रबंधन है, यह किसका कथन है

Luther Gulick

A

लुथर गुलिक

Koontz and O Donnell

B

कोन्टज़ और ओ डोनेल

Urwick

C

उर्विक

Henri Fayol

D

हेनरी फयाल

Correct Ans : D

Q.No: 143 Public sector is-
2418928

सार्वजनिक क्षेत्र है

Government owns most of the Assets and provides all the services

A

सरकार अधिकांश संपत्तियों का मालिक है और सभी सेवाएं प्रदान करती है

Private owns most of the Assets and provides all the services

B

निजी अधिकांश संपत्तियों का मालिक है और सभी सेवाएं प्रदान करता है

Non-government organisation owns most of the Assets and provides all the services

C

गैर सरकारी संगठन अधिकांश संपत्तियों का मालिक है और सभी सेवाएं प्रदान करता है

D

Foreign owns most of the Assets and provides all the services

विदेशी अधिकांश संपत्तियों का मालिक है और सभी सेवाएं प्रदान करता है

Correct Ans : A

Q.No: 144 _____ items in balance of payment includes all types of physical goods exported and imported
2418932

----- भुगतान संतुलन में मर्चों में निर्यात और आयातित सभी प्रकार के भौतिक सामान शामिल हैं

Invisible items

A

अदृश्य आइटम

Visible items

B

दृश्यमान आइटम

Capital transfers

C

पूंजी हस्तांतरण

Capital receipt

D

पूंजी रसीद

Correct Ans : B

Q.No: 145 Which of the following does not comes under the scope of macroeconomics
2418937

निम्नलिखित में से कौन मैक्रोइकॉनॉमिक्स के दायरे में नहीं आता है

Inflation

A

मुद्रास्फीति

Economic growth

B

आर्थिक विकास

Balance of payment

C

भुगतान संतुलन

Individual economic units such as firm, a consumer

D

व्यक्तिगत आर्थिक इकाइयाँ जैसे फर्म, एक उपभोक्ता

Correct Ans : D

Q.No: 146 Excess of import expenditure over export revenue earned by the economy is
2418939

अर्थव्यवस्था द्वारा अर्जित निर्यात राजस्व से अधिक आयात व्यय है

trade deficit

A

व्यापार घाटा

trade credit

B

व्यापार क्रेडिट

stocks

C

स्टॉक

close

D

बंद

Correct Ans : A

Q.No: 147 Percentage of deposits which a bank must keep as cash reserves with the bank is

2418999

नकद भंडार के रूप में बैंक द्वारा धारित जमा का प्रतिशत

SLR

A

SLR**BANK RATE**

B

बैंक दर

REPO RATE

C

रेपो दर

CRR

D

CRR

Correct Ans : D

Q.No: 148 Auxiliary services of trade and industry plays _____ roll

2419002

व्यापार और उद्योग की सहायक सेवाएं ----- भूमिका निभाती है

Non supportive

A

गैर सहायक

non-essential

B

गैर जरूरी

non demanding

C

गैर मांग

supportive

D

सहायक

Correct Ans : D

Q.No: 149 Business is

2419003

व्यापार है

Patriotic activities

A

देशभक्ति गतिविधियां

Economic activities

B

आर्थिक गतिविधियां

Religious activities

C

धार्मिक गतिविधियां

Activities for sympathy and sentiment

D

सहानुभूति और भावनाओं के लिए गतिविधियां

Correct Ans : B

Q.No: 150 Which of the following does not consist of private sector business

2419007

निम्नलिखित में से कौन निजी क्षेत्र के व्यवसाय को शामिल नहीं करता है?

A

Sole proprietorship

एकमात्र स्वामित्व

Government company

B

सरकारी कंपनी

Joint Hindu family

C

संयुक्त हिंदू परिवार

Partnership firm

D

साझेदारी फर्म

Correct Ans : **B**

Q.No: 151 What should come in place of the question mark (?) in the following question?

2421510

$$1 \div \{1+1 \div (1 + 1 \div 2)\} = ?$$

निम्नलिखित प्रश्न में प्रश्नवाचक चिन्ह (?) के स्थान पर क्या आना चाहिए?

$$1 \div \{1+1 \div (1 + 1 \div 2)\} = ?$$

1

A

1

$\frac{3}{5}$

B

$\frac{3}{5}$

2

C

2

$\frac{1}{2}$

D

$\frac{1}{2}$

Correct Ans : **B**

Q.No: 152 What should come in place of the question mark (?) in the following question?

2421511

$$1 - [5 - \{2 + (-5 + 6 - 2) 2\}] = ?$$

निम्नलिखित प्रश्न में प्रश्नवाचक चिन्ह (?) के स्थान पर क्या आना चाहिए?

$$1 - [5 - \{2 + (-5 + 6 - 2) 2\}] = ?$$

- 4

A

- 4

2

B

2

0

C

0

-2

D

-2

Correct Ans : **A**

Q.No: 153 What should come in place of the question mark (?) in the following question?

2421514

$$(4 \times 4)^3 \div (512 \div 8)^4 \times (32 \times 8)^4 = (2 \times 2)^{?+4}$$

निम्नलिखित प्रश्न में प्रश्नवाचक चिन्ह (?) के स्थान पर क्या आना चाहिए?

$$(4 \times 4)^3 \div (512 \div 8)^4 \times (32 \times 8)^4 = (2 \times 2)^{?+4}$$

8

A

8**12**

B

12**6**

C

6**14**

D

14

Correct Ans : C

Q.No: 154 What should come in place of the question mark (?) in the following question?

2421520

$$45\% \text{ of } 480 + 18^2 = ?^2 - 17^2 + 10^2$$

निम्नलिखित प्रश्न में प्रश्नवाचक चिन्ह (?) के स्थान पर क्या आना चाहिए?

$$480 \text{ का } 45\% + 18^2 = ?^2 - 17^2 + 10^2$$

20

A

20**23**

B

23**27**

C

27**31**

D

31

Correct Ans : C

Q.No: 155 Find the largest fraction of the following fractions?

2421551

निम्नलिखित भिन्नों में से सबसे बड़ी भिन्न ज्ञात कीजिए?

$$\frac{2}{9}$$

A

$$\frac{2}{9}$$

$$\frac{14}{16}$$

B

$$\frac{14}{16}$$

C

$$\frac{23}{21}$$

$$\frac{23}{21}$$

$$\frac{19}{17}$$

D

$$\frac{19}{17}$$

Correct Ans : **D**

Q.No: 156 Find the largest fraction of the following fractions?

2421556

निम्नलिखित भिन्नों में से सबसे बड़ी भिन्न ज्ञात कीजिए?

$$\frac{33}{100}$$

A

$$\frac{33}{100}$$

$$\frac{44}{120}$$

B

$$\frac{44}{120}$$

$$\frac{58}{148}$$

C

$$\frac{58}{148}$$

$$\frac{35}{80}$$

D

$$\frac{35}{80}$$

Correct Ans : **D**

Q.No: 157 Find the smallest fraction of the following fractions?

2421559

निम्नलिखित भिन्नों में से सबसे छोटी भिन्न ज्ञात कीजिए-

$$\frac{13}{15}$$

A

$$\frac{13}{15}$$

$$\frac{29}{41}$$

B

$$\frac{29}{41}$$

$$\frac{5}{6}$$

C

$$\frac{5}{6}$$

$$\frac{54}{71}$$

D

$$\frac{54}{71}$$

Correct Ans : **B**

Q.No: 158 A shopkeeper purchases some bulbs for Rs. 180 and sold some of them of Rs. 105 and it is given that the selling price and cost price of the bulb is same. Which of the following is correct?

2421596

एक दुकानदार ने कुछ बल्ब 180 रु. में खरीदे और उनमें कुछ 105 रु. में बेच दिए और यह दिया गया है कि बल्ब का बिक्रय मूल्य और लागत मूल्य समान है, तो निम्न से दुकानदार के पास कितने बल्ब शेष हो सकते हैं?

5

A

5

7

B

7

12

C

12

14

D

14

Correct Ans : A

Q.No: 159 Three numbers are in the ratio of 3:4:5 and their L.C.M. is 2400. Their H.C.F. is:

2421609

तीन संख्याएँ 3:4:5 के अनुपात में हैं और उनका लघुत्तम समापवर्तक 2400 है। उनका महत्तम समापवर्तक है:

A

40

40

B

60

60

C

80

80

D

120

120

Correct Ans : A

Q.No: 160 n is a whole number which when divided by 6 gives 5 as remainder. What will be the remainder when 2n is divided by 6?

2421634

n एक ऐसी पूर्ण संख्या है जिसे जब 6 से विभाजित किया जाता है तो 5 शेषफल प्राप्त होता है। जब 2n को 6 से विभाजित किया जायेगा तो शेषफल क्या प्राप्त होगा ?

A

0

0

B

4

4

C

2

2

D

5

5

Correct Ans : B

Q.No: 161 When a number 'N' is divided by a proper divisor 'D' then it leaves a remainder of 14 and if the thrice of that number i.e., '3N' is divided by the same divisor D leave remainder will be:

2421659

जब एक संख्या 'N' एक उचित भाजक 'D' से विभाजित की जाती है, तो शेषफल 14 होता है। यदि इस संख्या के तीन गुने को समान भाजक D से विभाजित किया जाये तो शेषफल 8 आता है। यदि इसी संख्या के चार गुने को समान भाजक 'D' से विभाजित किया जाये तो शेषफल क्या होगा ?

A

35

35

B

23

23

C

5 or 22

5 or 22

D

29

29

Correct Ans : C

Q.No: 162 Time duration of 2 hour 45 minutes is approximately what percent of day?

2421674

2 घंटे, 45 मिनट एक दिन के समय का लगभग कितना प्रतिशत होगा?

A

7.218%

7.218%

11.45%

B

11.45%

8.3%

C

8.3%

8.24%

D

8.24%

Correct Ans : B

Q.No: 163
2421701

In an election, 2,400 people were to vote for party A or B. Party A was bound to win the election. However, on election day, 33.33% of the voters of A were kidnapped. Party B was able to influence the remaining party A voters and thus double the strength of its voters. In this way, party A lost by a majority which was half of that which it would have won had the elections been fair. How many people finally voted for party A?

किसी चुनाव में, 2,400 लोग पार्टी A या पार्टी B के लिए वोट देते हैं। पार्टी A चुनाव जीतने के लिए बाध्य है। किसी तरह, चुनाव वाले दिन, पार्टी के 33.33% वोटों का अपहरण कर लिया गया। पार्टी B, पार्टी A के बचे हुए लोगों पर प्रभाव दिखाने में सफल हो गई और इस प्रकार उसने अपने वोटों की संख्या बढ़ा कर दुगुनी कर ली। इस प्रकार पार्टी A बहुमत से हार गई, चूंकि, यदि चुनाव निष्पक्ष होते, तो अब वोट संख्या उस दौरान की वोट संख्या का आधा होती। पार्टी A के लिए अंत में कितने लोगों ने वोट दिया?

300

A

300

450

B

450

600

C

600

1,200

D

1200

Correct Ans : C

Q.No: 164
2421715

If the cost price of Chikoo is 80% of its selling price, the Profit percent is:

यदि चीकू का क्रय मूल्य उसे वि.मू. का 80% है, तो प्रतिशत लाभ ज्ञात करें।

20%

A

20%

22 $\frac{1}{2}$ %

B

22 $\frac{1}{2}$ %

24%

C

24%

25%

D

25%

Correct Ans : D

Q.No: 165

2421716 If a fan bought at prices from Rs. 150 to Rs. 300 are sold at prices ranging from Rs. 250 to Rs. 350. What is the greatest possible Profit that might be made in selling

150 से रु. 300 के बीच के मूल्यों पर पंखा खरीदे जाते हैं और रु. 250 से रु. 350 के बीच के मूल्यों पर उन्हें बेचा जाता है, तो 15 पंखों को बेचने पर अधिकतम लाभ क्या होगा?

Rs. 1,750

A

₹. 1,750

Rs. 2,500

B

₹. 2,500

Rs. 4,250

C

₹. 4,250

Rs. 3,000

D

₹. 3,000

Correct Ans : D

Q.No: 166 **2421740** A manufacturer fixes his selling price at 33.33% over the cost of production. If cost of production goes up by 12% and manufacture raises his selling price by 10%, his percentage Profit is:

एक विनिर्माता उत्पादन लागत से 33.33% अधिक पर अपना विक्रय मूल्य नियत करता है। यदि उत्पादन लागत 12% बढ़ जाती है और विनिर्माता अपना विक्रय मूल्य 10% बढ़ा देता है, तो उसके लाभ का प्रतिशत कितना है?

$36\frac{5}{9}\%$

A

$36\frac{5}{9}\%$

$30\frac{20}{21}\%$

B

$30\frac{20}{21}\%$

35%

C

35%

$28\frac{3}{8}\%$

D

$28\frac{3}{8}\%$

Correct Ans : B

Q.No: 167 **2421753** The difference between the simple interest received from two different sources on Rs. 15000 for 3 year is Rs. 135. The difference between their rates of interest is:

₹. 15000 की धनराशि पर 3 वर्षों का दो भिन्न स्रोतों से प्राप्त ब्याज का अंतर रु. 135 है। तो उनकी ब्याज दरों का अंतर बताइये।

0.1%

A

0.1%

0.2%

B

0.2%

0.3%

C

0.3%

D

0.4%

0.4%

Correct Ans : C

Q.No: 168 **2421756** The sum of money, that will give Rs. 1 as interest per day at the rate of 5% per annum simple interest is:

किस धनराशि पर 5% वार्षिक साधारण ब्याज दर पर रु. 10 प्रतिदिन ब्याज के रूप में मिलते हैं?

Rs. 72000

A

रु. 72000

Rs. 36000

B

रु. 36000

Rs. 73500

C

रु. 73500

Rs. 73000

D

रु. 73000

Correct Ans : D

Q.No: 169 **2421767** Mohan invested Rs. P on simple interest at the rate of 12.5% p.a. for 3 years, and he invested Rs. (P + 2000) on compound interest at the rate of 10% p.a. for 2 years. If the total interest earned by him is Rs. 8610, find the total amount invested by Mohan.

मोहन ने साधारण ब्याज पर रु. P 12.5% प्रति वर्ष की दर से 3 साल के लिए, और चक्रवृद्धि ब्याज पर रु. (P + 2000) 10% प्रति वर्ष की दर से 2 वर्षों के लिये निवेश किये। यदि उसके द्वारा अर्जित कुल ब्याज रु. 8610 है, तो मोहन द्वारा निवेश की गई कुल राशि का पता लगाएं।

Rs. 28000

A

रु. 28000

Rs. 24000

B

रु. 24000

Rs. 30000

C

रु. 30000

Rs. 36000

D

रु. 36000

Correct Ans : C

Q.No: 170 **2421847** If $\left(x + \frac{1}{x}\right) : \left(x - \frac{1}{x}\right) = 5 : 3$, the value(s) of x is/are-

यदि $\left(x + \frac{1}{x}\right) : \left(x - \frac{1}{x}\right) = 5 : 3$ हो, तो x का मान है-

± 1

A

± 1

± 2

B

± 2

± 3

C

± 3

D 0

0

Correct Ans : B

Q.No: 171 The rail fares of air conditioned sleeper and ordinary sleeper class are in the ratio 4:1. The number of passenger travelled by air conditioned sleeper and ordinary sle
2421851 air conditioner sleeper passengers pay?

वातानुकूलित शयन श्रेणी और साधारण शयन श्रेणी का रेलव किराया 4:1 के अनुपात में है। वातानुकूलित शयन और साधारण शयन श्रेणी द्वारा यात्रा करने वाले यात्रियों को संख्या 3:25 के अनुपात में थी। यदि कूल किराया संग्रह 37,000 हुआ, तो वातानुकूलित शयन श्रेणी के यात्रियों ने कितने किराये का भुगतान किया?

15,000

A

15,000

10,000

B

10,000

12,000

C

12,000

16,000

D

16,000

Correct Ans : C

Q.No: 172 If the average marks of 4 batches of 45, 55, 65, 75 students are 20, 30, 40 and 50 respectively. Then the average marks of all the students are:
2421887 45, 55, 65 और 75 विद्यार्थियों वाले 4 समूहों के औसत अंक क्रमशः 20, 30, 40 और 50 हैं। सभी विद्यार्थियों का औसत अंक क्या होगा ?

A

35.75

35.75

B

37.08

37.08

C

39.05

39.05

D

41.57

41.57

Correct Ans : B

Q.No: 173 A container contains 40 litres of milk. From this container 4 litres of milk was taken out and replaced by water. This process was repeated further two times. How mu
2421941

एक कंटेनर में 40 लीटर दूध है। इस कंटेनर से 4 लीटर दूध निकाला गया और उसे पानी से बदला जाता है। इस प्रक्रिया को दो बार और दोहराया जाता है। कंटेनर में अब कितना दूध है?

26.34 litres

A

26.34 लीटर

27.36 litres

B

27.36 लीटर

28 litres

C

28 लीटर

29.16 litres

D

29.16 लीटर

Correct Ans : D

Q.No: 174 Aman travelled a certain distance by train at the rate of 25 kmph and walked back at the rate of 4 kmph. If the whole journey took 5 hours 48 minutes the distance
2421988

अमन एक निश्चित दूरी तक रेलगाड़ी से 25 किमी/घंटा की गति से यात्रा करता है तथा वापस, प्रारम्भिक बिन्दु तक 4 किमी/घंटा की गति से पैदल चलता है। यदि उसे कुल 5 घंटे 48 मिनट का समय लगे तो बताये वह निश्चित दूरी कितनी है?

25 km

A

25 किमी

30 km

B

30 किमी

20 km

C

20 किमी

15 km

D

15 किमी

Correct Ans : C

Q.No: 175 2422013 Anni and Banni can finish a work in 8 days and 12 days respectively. If capacity of Chhavi is $1\frac{1}{2}$ times of Anni, then working together in how many days they will complete it?

अन्नी तथा बन्नी कार्य को क्रमशः 8 दिन तथा 12 दिन में कर सकते हैं। यदि छवी की क्षमता अन्नी से $1\frac{1}{2}$ गुना हो तो तीनों मिलकर उस कार्य को कितने दिन में समाप्त कर लेंगे?

$2\frac{10}{19}$

A

$2\frac{10}{19}$

$5\frac{1}{19}$

B

$5\frac{1}{19}$

$15\frac{5}{19}$

C

$15\frac{5}{19}$

$20\frac{10}{19}$

D

$20\frac{10}{19}$

Correct Ans : A

Q.No: 176 निम्नलिखित में से कौन-सा शब्द बहुव्रीहि समास का सही उदाहरण है?

A भलाबुरा

B श्वेतरक्त

C कृष्णलोहित

D लंबोदर

Correct Ans : D

Q.No: 177 निम्नलिखित में से कौन-सा शब्द उपसर्ग का प्रयोग कर नहीं बनाया गया है?

A अधिकृत

B अभियान

C दुर्जन

D पुरूषत्व

Correct Ans : D

Q.No: 178 निम्नलिखित में से कौन-सा शब्द प्रत्यय का प्रयोग कर नहीं बनाया गया है?

- A मनुजता
- B घुमाव
- C घसियारा
- D अपराध

Correct Ans : D

Q.No: 179 निम्नलिखित में से कौन-सा संज्ञा का भेद नहीं है?

- A भाववाचक
- B गुणवाचक
- C जातिवाचक
- D द्रव्यवाचक

Correct Ans : B

Q.No: 180 निम्नलिखित में से कौन-सा वाक्य निजवाचक सर्वनाम का सही उदाहरण है?

- A जो कहा गया वही करो।
- B ये भ्रष्टाचार के प्रबल विरोधी है।
- C अजय कुछ लाया था।
- D मैं तो अपने आप ही जाता था।

Correct Ans : D

Q.No: 181 निम्नलिखित में से "कार्तिकेय" का पर्यायवाची शब्द क्या है?

- A शरभ
- B कुकर्म
- C यायावर
- D वीभत्स

Correct Ans : A

Q.No: 182 निम्नलिखित में से "आडम्बर" का विलोम शब्द क्या है?

- A उद्गम
- B अनादृत
- C सादगी
- D अनुपमेय

Correct Ans : C

Q.No: 183 निम्नलिखित में से शब्द-युग्म "परिणाम -परिमाण" के सही अर्थ भेद का चयन कीजिए-

- A मात्रा - क्षेत्र
- B अनजान - संगम
- C फल - दुर्लभ
- D फल-मात्रा

Correct Ans : D

Q.No: 184 निम्न प्रश्न में अनेकार्थी शब्द दिए गए हैं। एक अर्थ शब्द के साथ ही लिखा है, दूसरा अर्थ बताइए-

कनक-धतूरा

- A प्रसाद
- B सोना
- C मलखंब
- D वन

Correct Ans : B

Q.No: 185 निम्नलिखित में से शुद्ध वर्तनी वाले शब्द का चयन कीजिए-

- A चाभी
- B शोणित
- C

दिपिका

D चारदीवारी

Correct Ans : B

Q.No: 186 निम्नलिखित में से अशुद्ध वर्तनी वाले शब्द का चयन कीजिए-

A सम्मोहित

B संवेदनशील

C चिकित्सिक

D दार्शनिक

Correct Ans : C

Q.No: 187 निम्नलिखित में से असंगत/बेमेल शब्द का चयन कीजिए-

A अन्तराल

B समय

C अवधि

D अवकाश

Correct Ans : D

Q.No: 188 निम्नलिखित में से "गबन" के रचनाकार कौन है?

A मुंशी प्रेमचन्द

B पाणिनी

C मैथिलीशरण गुप्त

D भारतेन्दु हरिश्चन्द

Correct Ans : A

Q.No: 189 निम्नलिखित में से पुल्लिंग शब्द का चयन कीजिए-

A नाक

B जीभ

C शिरा

D नाखून

Correct Ans : D

Q.No: 190 निम्नलिखित में से स्त्रीलिंग शब्दों का चयन कीजिए-

A कमिटी, टोली

B परिवार, देश

C विद्यापीठ, मंत्रिमंडल

D समूह, विद्यालय

Correct Ans : A

Q.No: 191 वाक्य "सोहन खाए तो मैं बनाऊँ।" किस काल का उदाहरण है?

A हेतुहेतुमद् भविष्यकाल

B आसन्न भूतकाल

C हेतुहेतुमद् भूतकाल

D संदिग्ध भूतकाल

Correct Ans : A

Q.No: 192 संचारी भावों की कुल संख्या कितनी है?

A 33

B 9

C 4

D 28

Correct Ans : A

Q.No: 193 आलम्बन तथा उद्दीपन द्वारा आश्रय के हृदय में स्थायी भाव जागृत होने पर आश्रय में जो चेष्टाएँ होती हैं, उन्हें क्या कहते हैं?

A अनुभाव

B विभाव

- C संचारी भाव
D स्थायी भाव

Correct Ans : A

Q.No: 194 निम्नलिखित में से भाववाच्य का वाक्य बताइए-

- A राधिका से चुपचाप नहीं बैठा जा सकता।
B मोहन पुस्तक पढ़ रहा है।
C मैं गा नहीं सकता।
D अमित द्वारा अखबार पढ़ा जाता है।

Correct Ans : A

Q.No: 195 निम्नलिखित में से अर्थ के आधार पर वाक्य मुख्यतः कितने प्रकार के होते हैं?

- A आठ
B छः
C तीन
D पांच

Correct Ans : A

Q.No: 196 निर्देश: नीचे दिये गये प्रश्न को चार भागों में बाँटा गया है (A), (B), (C) और (D) क्रमांक दिए गए हैं। आपको यह देखना है कि वाक्य के किस भाग में व्याकरण, भाषा, वर्तनी, शब्दों के गलत प्रयोग या इसी तरह व उस भाग का क्रमांक ही आपका उत्तर है। यदि वाक्य त्रुटिरहित है तो कोई त्रुटि नहीं का चयन करें-

आतंकवाद शायद एक दिशाहीन / (A) उद्येश्यहीन अधेरा है / (B) जो विश्व शान्ति एवं प्रगति को निगल रहा है। / (C) कोई त्रुटि नहीं (D)

- A A
B B
C C
D कोई त्रुटि नहीं

Correct Ans : A

Q.No: 197 निम्नलिखित में से शुद्ध वाक्य का चयन कीजिए-

- A यह कार्य आपके स्वभाव के अनुरूप है।
B आप इस कार्य को सरलता से कर सकते हैं।
C यह पुस्तक विद्वतापूर्ण लिखी गई है।
D आपसे मिलकर महानतम प्रसन्नता हुई।

Correct Ans : B

Q.No: 198 जहाँ पूर्ण विराम की अपेक्षा कम रूकना अपेक्षित हो, वहाँ पर निम्न में से किस चिह्न का प्रयोग किया जाता है?

- A योजकविराम चिन्ह
B अवतरण चिन्ह
C विस्मयादिबोधक चिन्ह
D अर्द्धविराम

Correct Ans : D

Q.No: 199 निम्नलिखित में से किस मुहावरे का अर्थ "मौज करना" है?

- A चींटी के पर निकलना।
B चैन की बंशी बजाना।
C चोली दामन का साथ।
D चार-दिन की चाँदनी।

Correct Ans : B

Q.No: 200 निम्नलिखित में से किस लोकोक्ति का अर्थ "सज्जनों की बराई से स्वयं का अपमान होता" है?

- A योगी था सो उठ गया आसन रहा भभूत।
B चाँद पर थूँका मुँह पर गिरा।
C चील के घोंसले में माँस कहीं।
D कोयल होय न उजली, सौ मन साबुन लाई।

Correct Ans : B

[Print](#)

Testdate

19 Dec 2021 ▼

TestSlot

Shift 1 ▼

5

Q.No: 1 Between which two rivers is the Kangra Fort situated?
2419230

कांगड़ा का किला किन दो नदियों के बीच स्थित है?

Betwa and Bhima rivers

A

बेतवा और भीमा नदियां

Manjhi and Banganga rivers

B

मांझी और बाणगंगा नदियां

Gomti and Koyna rivers

C

गोमती और कोयना नदियां

Teesta and Malaprabha rivers

D

तीस्ता और मालाप्रभा नदियां

Correct Ans : B

Q.No: 2 The Gulbarga Fort has a mosque that closely resembles the Mosque-Cathedral located in -
2419234

गुलबर्गा किले में एक मस्जिद है जो _____ के मस्जिद-कैथेड्रल से मिलती जुलती है -

Cordoba

A

कॉर्डोबा

Moscow

B

मास्को

Bruges

C

ब्रुस

Levante

D

लेवांटे

Correct Ans : A

Q.No: 3 Which of the following is known as the Kasa Fort?
2419239

निम्नलिखित में से किसे कासा किला के नाम से जाना जाता है?

Fatehpur Sikri

A

फतेहपुर सीकरी

Padmadurg

B

पदादुर्ग

Janjira Fort

C

जंजीरा किला

D **Paranda Fort****परंदा (परांडा या परंडा) किला**Correct Ans : **B**Q.No: 4 To provide the elementary education, the government started Sarva Sikhsha Abhiyan, which included Education of Children in which age group?
2419307

प्रारंभिक शिक्षा प्रदान करने के लिए, सरकार ने सर्व शिक्षा अभियान शुरू किया, जिसमें किस आयु वर्ग के बच्चों की शिक्षा शामिल थी?

6- 12 Years of Age

A

6- 12 वर्ष की आयु**8- 14 Years of Age**

B

8- 14 वर्ष की आयु**6- 14 Years of Age**

C

6- 14 वर्ष की आयु**8 -16 Years of Age**

D

8 -16 वर्ष की आयुCorrect Ans : **C**Q.No: 5 Which of the following is the accepted average calorie requirement in Rural India?
2419310

ग्रामीण भारत में निम्न में से कौन सी स्वीकृत औसत कैलोरी आवश्यकता है?

1900 calories

A

1900 कैलोरी**2000 calories**

B

2000 कैलोरी**2100 calories**

C

2100 कैलोरी**2400 calories**

D

2400 कैलोरीCorrect Ans : **D**Q.No: 6 Banking is an activity of which of the following sectors?
2419325

बैंकिंग निम्नलिखित में से किस क्षेत्र की गतिविधि है?

Primary

A

प्राथमिक**Secondary**

B

द्वितीयक**Tertiary**

C

तृतीयक**Both Secondary and Tertiary**

D

द्वितीयक और तृतीयक दोनोंCorrect Ans : **C**

Q.No: 7 Which of the following is the accepted average calorie requirement in Urban India?
2419330

शहरी भारत में निम्न में से कौन सी स्वीकृत औसत कैलोरी आवश्यकता है?

1700 calories

A

1700 कैलोरी

1900 calories

B

1900 कैलोरी

2100 calories

C

2100 कैलोरी

2400 calories

D

2400 कैलोरी

Correct Ans : C

Q.No: 8 Which of the following sports is the British Open or The Open associated with?
2419394

निम्नलिखित में से किस खेल का संबंध ब्रिटिश ओपन या द ओपन से है?

Badminton

A

बैडमिंटन

Gymnastics

B

जिमनास्टिक

Golf

C

गोल्फ

Baseball

D

बेसबॉल

Correct Ans : C

Q.No: 9 Which of the following sports is Magnus Carlsen related to?
2419407

मैग्नस कार्लसन निम्नलिखित में से किस खेल से संबंधित है?

Chess

A

शतरंज

Badminton

B

बैडमिंटन

Table-tennis

C

टेबल-टेनिस

Tennis

D

टेनिस

Correct Ans : A

Q.No: 10 Rio de Janeiro Earth Summit was held in which of the following years?
2419464

रियो डी जनेरियो पृथ्वी सम्मेलन निम्नलिखित में से किस वर्ष में आयोजित किया गया था?

1989

A

1989

1990

B

1990

1992

C

1992

1994

D

1994

Correct Ans : C

Q.No: 11 Which of the following is referred to as 'Sericulture'?

2419532

निम्नलिखित में से किसे 'सेरीकल्चर' कहा जाता है?

Commercial rearing of silk worms

A

रेशम के कीड़ों का व्यवसायिक पालन

Cultivation of grapes

B

अंगूर की खेती

Breeding of fish in specially constructed tanks and pond

C

विशेष रूप से निर्मित तालाबों और तालाबों में मछलियों का प्रजनन

Growing vegetables, flowers and fruits for commercial use

D

व्यावसायिक उपयोग के लिए सब्जियां, फूल और फल उगाना

Correct Ans : A

Q.No: 12 The third battle of Panipat was fought in which of the following years?

2419552

पानीपत की तीसरी लड़ाई निम्नलिखित में से किस वर्ष लड़ी गई थी?

1526

A

1526

1556

B

1556

1761

C

1761

1764

D

1764

Correct Ans : C

Q.No: 13 Who replaced the Sultan of Delhi Iltutmish after his death?

2419559

दिल्ली के सुल्तान इल्तुतमिश की मृत्यु के बाद उनकी जगह किसने ली?

Ruknuddin Firuz

A

रुकनुद्दीन फ़िरोज़

B **Nasiruddin Mahmud**

नसीरुद्दीन महमूद

Muiz ud din Bahram

C

मुइज़ उद दीन बहरामी

Razia Sultana

D

रजिया सुल्ताना

Correct Ans : **D**

Q.No: 14 During whose reign did Chinese pilgrim Fa-hsien visited India?

2419586

चीनी तीर्थयात्री फाहसीन किसके शासनकाल में भारत आया था?

Chandragupta – I

A

चंद्रगुप्त - I

Samudragupta

B

समुद्रगुप्त

Chandragupta – II

C

चंद्रगुप्त - II

Skandagupta

D

स्कन्दगुप्त

Correct Ans : **C**

Q.No: 15 Who is the author of "War and Peace"?

2419635

"वॉर एंड पीस" के लेखक कौन हैं?

Mahatma Gandhi

A

महात्मा गांधी

Leo Tolstoy

B

लियो टॉल्स्टॉय

Anton Chekov

C

एंटीन चेकोव

Alexander Pushkin

D

अलेक्जेंडर पुश्किन

Correct Ans : **B**

Q.No: 16 Who is the author of "On The Origin of Species"?

2419640

"ऑन द ओरिजिन ऑफ स्पीशीज़" के लेखक कौन हैं?

A. R. Wallace

A

ए. आर. वालेस

Gregor Mendel

B

ग्रेगर मेंडेल

C

Charles Darwin

चार्ल्स डार्विन

Jean-Baptiste Lamarck

D

जीन-बैप्टिस्ट लैमार्क

Correct Ans : C

Q.No: 17 Who is the author of the novel "The Living Mountain"?

2419644

"द लिविंग माउंटेन" उपन्यास के लेखक कौन हैं?

Amitav Ghosh

A

अमिताभ घोष

Deborah Baker

B

डेबोरा बेकर

Jhumpa Lahiri

C

झुम्पा लाहिरी

Salman Rushdie

D

सलमान रुश्दी

Correct Ans : A

Q.No: 18 The Supreme Court of India can review its own Judgement under which of the following Articles of the Constitution of India?

2419719

भारत का सर्वोच्च न्यायालय भारत के संविधान के निम्नलिखित में से किस अनुच्छेद के तहत अपने निर्णय की समीक्षा कर सकता है?

Article 124

A

अनुच्छेद 124

Article 133

B

अनुच्छेद 133

Article 136

C

अनुच्छेद 136

Article 137

D

अनुच्छेद 137

Correct Ans : D

Q.No: 19 The Ashok Mehta Committee set up by the government to review Panchayati raj submitted its report in which of the following years?

2419723

पंचायती राज की समीक्षा के लिए सरकार द्वारा गठित अशोक मेहता समिति ने निम्नलिखित में से किस वर्ष में अपनी रिपोर्ट प्रस्तुत की?

1978

A

1978

1980

B

1980

1986

C

1986

D

1992

1992

Correct Ans : A

Q.No: 20 The Theory of the Basic Structure of the Constitution was given by the Supreme Court in which of the following cases?
2419741

संविधान की मूल संरचना का सिद्धांत सर्वोच्च न्यायालय द्वारा निम्नलिखित में से किस मामले में दिया गया था?

Kesavananda Bharati v. State of Kerala

A

केशवानंद भारती बनाम केरल राज्य

A. K. Gopalan v. State of Madras

B

ए. के. गोपालन बनाम मद्रास राज्य

ADM Jabalpur v. Shivkant Shukla

C

एडीएम जबलपुर बनाम शिवकांत शुक्ला

Maneka Gandhi v. Union of India

D

मेनका गांधी बनाम भारत संघ

Correct Ans : A

Q.No: 21 Where did Yadav Rao (Yadurao or Jadurai) lay the foundation of the Rajgond dynasty in the later years of the 14th century?
2419913

यादव राव (यदुराव या जदुरे) ने 14वीं शताब्दी के बाद के वर्षों में राजगोंड या राजगौड़ वंश की नींव कहाँ रखी थी?

Garha – Katanga

A

गढ़ - कटंगा

Mahakoshal

B

महाकोशल

Nimar

C

निमाड़

Bhopal

D

भोपाल

Correct Ans : A

Q.No: 22 In which city of Madhya Pradesh are the Gaur Mahal, Parkota Fort and the Chaman Mahal situated?
2419926

गौर महल, परकोटा किला और चमन महल मध्य प्रदेश के किस शहर में स्थित हैं?

Bhopal

A

भोपाल

Indore

B

इंदौर

Gwalior

C

ग्वालियर

Jabalpur

D

जबलपुर

Correct Ans : A

Q.No: 23 In which century was the Chhappan Mahal of Mandu constructed?

2419931

मांडू के छप्पन महल का निर्माण किस शताब्दी में किया गया था?

10th century

A

10 वीं शताब्दी

13th century

B

13वीं शताब्दी

16th century

C

16वीं शताब्दी

18th century

D

18 वीं शताब्दी

Correct Ans : C

Q.No: 24 Which of the following places in Madhya Pradesh organised India's first Hot Air Balloon Safari?

2419992

मध्य प्रदेश में निम्नलिखित में से किस स्थान पर भारत की पहली हॉट एयर बैलून सफारी का आयोजन किया गया?

Panna National Park

A

पन्ना राष्ट्रीय उद्यान

Kanha National Park

B

कान्हा राष्ट्रीय उद्यान

Bandhavgarh Tiger Reserve

C

बांधवगढ़ टाइगर रिजर्व

Pench National Park

D

पेंच राष्ट्रीय उद्यान

Correct Ans : C

Q.No: 25 On which of the following rivers is the majestic Raneeh falls situated?

2419995

राजसी रानेह जलप्रपात निम्नलिखित में से किस नदी पर स्थित है?

Tapti

A

ताप्ती

Ken

B

केन

Chambal

C

चंबल

Beas

D

ब्यास

Correct Ans : B

Q.No: 26 In the following question, a part of the sentence may have an error. Find out which part of the sentence has an error and select the appropriate option. If a sentence i

A recent study found that regions implementing stricts measures such as lockdowns had fewer deaths than other regions.

A **A recent study found that regions**

B **No error**

C **had fewer deaths than other regions.**

implementing stricts measures such as lockdowns

D **implementing strict measures such as lockdowns**

Correct Ans : **D**

Q.No: 27 In the following question, a part of the sentence may have an error. Find out which part of the sentence has an error and select the appropriate option. If a sentence i

An army lead by Ramsay Bolton defeated Stannis Baratheon in the battle of Black Water.

- A **in the battle of Black Water.**
- B **defeated Stannis Baratheon**
- C **An army lead by Ramsay Bolton**
- D **No error**

Correct Ans : **C**

Q.No: 28 In the following question, a part of the sentence may have an error. Find out which part of the sentence has an error and select the appropriate option. If a sentence i

He had a premonition that his plane would crash, so he took the train.

- A **He had a premonition**
- B **that his plane would crash**
- C **so he taken the train.**
- D **No error.**

Correct Ans : **C**

Q.No: 29 Select the most appropriate option to substitute the bracket segment in the given sentence. If no substitution is required, select No improvement.

The printing press is one of man's (cleverest invention).

- A **cleverest inventions**
- B **clever invention**
- C **cleverer inventions**
- D **No improvement**

Correct Ans : **A**

Q.No: 30 Select the most appropriate option to substitute the bracket segment in the given sentence. If no substitution is required, select No improvement.

Sodium chloride dissolves in water, and (so is) salt.

- A **so also**
- B **so will**
- C **so does**
- D **No improvement**

Correct Ans : **C**

Q.No: 31 Select the most appropriate option to substitute the bracket segment in the given sentence. If no substitution is required, select No improvement.

I am considering (to set up) a cyber cafe.

- A **to setting**
- B **set up**
- C **setting up**
- D **No improvement**

Correct Ans : **C**

Q.No: 32 Out of the given options, choose the one which is the correct passive voice of the sentence given below.

Who does not obey you?

- A **You are not obeyed by who?**
- B **You are not obeyed by whom?**
- C **By who are you not obeyed by?**
- D **By whom are you not obeyed?**

Correct Ans : **D**

Q.No: 33 In the question a sentence has been given in Active/Passive Voice. Out of the four alternative suggested below, select the one which best expresses the same sentenc

Don't speak until someone speaks to you.

- A **Don't speak until you are spoken to.**
- B **Don't speak until someone is spoken to.**
- C **Don't speak until you been spoken to.**
- D **Don't speak until someone has been spoken to.**

Correct Ans : **A**

Q.No: 34 In the following question, a sentence has been given in Active/Passive Voice. Out of the four alternatives suggested, select the one which best expresses the same ser

I will conquer him.

- A **He will be conquered of by me.**
- B **He is to be conquered by me.**
- C **He shall be conquered by me.**
- D **He will be conquered by me.**

Correct Ans : **D**

Q.No: 35 A sentence has been given in Active/ Passive Voice. Out of the four alternatives suggested, select the one which best expresses the same sentence in Passive/Active V

Has Tom explained the matter?

- A **Is the matter been explained by Tom?**
- B **Has the matter been explained by Tom?**
- C **Is the matter being explained by Tom?**
- D **Will the matter be explained by Tom?**

Correct Ans : **B**

Q.No: 36 Out of the given options, choose the most appropriate word/set of words to fill in the blank.

The mason _____ the wall.

- A **is building**
- B **are build**
- C **are built**
- D **were built**

Correct Ans : **A**

Q.No: 37 Out of the given options, choose the most appropriate word/set of words to fill in the blank.

Problems _____ if the parents' approach to discipline is inconsistent.

- A **arise**
- B **has arise**
- C **has arises**
- D **have arises**

Correct Ans : **A**

Q.No: 38 Out of the given options, choose the most appropriate word/set of words to fill in the blank.

The robber _____ out a knife.

- A **took**
- B **take**
- C **have take**
- D **have took**

Correct Ans : **A**

Q.No: 39 Out of the given options, choose the most appropriate word/set of words to fill in the blank.

He _____ three glasses of water.

- A **drank**
- B **have drink**
- C **have drank**
- D **has drink**

Correct Ans : **A**

Q.No: 40 Select the most appropriate option to fill in the blanks.

The defendant's lawyer argued that his past offenses were _____ to this case.

- A **arrogant**
- B **irrelevant**
- C **consisting**
- D **spacious**

Correct Ans : B

Q.No: 41 Select the most appropriate option to fill in the blanks.

Cannabis has been used for medicinal _____ since antiquity.

- A **sorrows**
- B **purposes**
- C **partisans**
- D **salacious**

Correct Ans : B

Q.No: 42 Select the most appropriate option to fill in the blanks.

She's always _____ back to how things used to be.

- A **harking**
- B **warning**
- C **kneading**
- D **pleading**

Correct Ans : A

Q.No: 43 Select the most appropriate option to fill in the blanks.

Parents have _____ their concerns about their children's safety.

- A **prevented**
- B **expressed**
- C **survived**
- D **accused**

Correct Ans : B

Q.No: 44 Select the most appropriate option to fill in the blanks.

Carnivorous insect _____ in a deceptively humble posture while searching for food.

- A **posing**
- B **to pose**
- C **poses**
- D **pose**

Correct Ans : C

Q.No: 45 Select the most appropriate option to fill in the blanks.

My friend is not _____ for this complicated assignment.

- A **cut out**
- B **put in**
- C **set on**
- D **get of**

Correct Ans : A

Q.No: 46 Select the most appropriate option to fill in the blanks.

This choice has significant ethical implications, particularly in the context of loss _____ damage.

- A **but**
- B **and**
- C **though**

D **when**

Correct Ans : **B**

Q.No: 47 The question below consists of a set of labelled sentences. These sentences, when properly sequenced form a coherent paragraph. Select the most logical order of the

P. Mice once called a meeting to decide on a plan to get rid of the cat.

Q. At least they wished to find some way of knowing when she was coming.

R. So they might have time to run away to save their lives.

A **QPR**

B **PQR**

C **RQP**

D **RPQ**

Correct Ans : **B**

Q.No: 48 The question below consists of a set of labelled sentences. These sentences, when properly sequenced form a coherent paragraph. Select the most logical order of the

A. His "seven dirty words" routine was central to the 1978 United States Supreme Court case F.C.C. v. Pacifica Foundation.

B. In the case, a 5-4 decision affirmed the government's power to censor indecent material on the public airwaves.

C. He was known for his dark comedy and reflections on politics, the English language, psychology, religion, and taboo subjects.

D. George Denis Patrick Carlin was an American stand-up comedian, actor, social critic, and author.

A **DBCA**

B **BACD**

C **DCAB**

D **BCAD**

Correct Ans : **C**

Q.No: 49 Select the antonym for the given word.

TRANSPARENT

A **Opaque**

B **Clear**

C **Crystalline**

D **Pure**

Correct Ans : **A**

Q.No: 50 Select the CORRECTLY spelt word.

A **Immediately**

B **Maintnance**

C **Medeval**

D **Millenium**

Correct Ans : **A**

Q.No: 51 Which of the following uses only a convex mirror?

2420201

निम्नलिखित में से कौन केवल उत्तल दर्पण का उपयोग करता है?

Shaving mirror.

A

शेविंग दर्पण।

Rear view mirror of a car.

B

एक कार का पिछला दृश्य दर्पण।

Ophthalmoscope

C

ऑप्थाल्मोस्कोप

Solar furnace

D

सौर भट्टी

Correct Ans : **B**

Q.No: 52 A bullet of mass 0.1 kg is fired with a velocity of 160 ms^{-1} from a rifle of mass 6
 2420211 kg. What will be the recoil velocity of the rifle?

एक गोली जिसका द्रव्यमान 0.1 kg है उसे 160 ms^{-1} वेग से बन्दूक से दागा गया है। बन्दूक का द्रव्यमान 6 kg है। बन्दूक के प्रतिक्षेप (recoil) वेग क्या है?

1.0 ms^{-1}

A

1.0 ms^{-1}

1.25 ms^{-1}

B

1.25 ms^{-1}

2.67 ms^{-1}

C

2.67 ms^{-1}

1.75 ms^{-1}

D

1.75 ms^{-1}

Correct Ans : C

Q.No: 53 The general range of audible frequencies for humans is -
 2420219

मनुष्यों के लिए श्रव्य आवृत्तियों की सामान्य सीमा है -

20 Hz to 20,000 Hz

A

20 हर्ट्ज से 20,000 हर्ट्ज

Less than 20 Hz

B

20 हर्ट्ज से कम

More than 20000 Hz

C

20000 हर्ट्ज से अधिक

20 Hz to 40000 Hz

D

20 हर्ट्ज से 40000 हर्ट्ज

Correct Ans : A

Q.No: 54 An optical fibre is a very thin fibre made of _____.
 2420224

एक ऑप्टिकल फाइबर _____ से बना एक बहुत ही पतला फाइबर है।

Silica

A

सिलिका

Copper

B

कॉपर

Mercury

C

बुध

D

Silver

चांदी

Correct Ans : A

Q.No: 55 A dog can hear sounds of frequency up to about -
2420226

एक कुत्ता लगभग कितनी आवृत्ति तक की ध्वनियों सुन सकता है?

50000 kHz

A

50000 kHz

20000 kHz

B

20000 kHz

100000 kHz

C

100000 kHz

200 kHz

D

200 kHz

Correct Ans : A

Q.No: 56 Solid CO₂ is also known as which of the following?
2420373

ठोस CO₂ को निम्नलिखित में से किसके रूप में भी जाना जाता है?

Dry Ice

A

शुष्क बर्फ

Ash

B

राख

Coal

C

कोयला

Camphor

D

कपूर

Correct Ans : A

Q.No: 57 Which of the following does not result from the water vapors present in the atmosphere?
2420378

निम्नलिखित में से कौन वायुमंडल में मौजूद जलवाष्प से उत्पन्न नहीं होता है?

Snow

A

हिमपात

Fog

B

कोहरा

Frost

C

ठंढ

Smoke

D

धुआँ

Correct Ans : D

Condensation of water vapors in the atmosphere leads to the formation of which of the following?

Q.No: 58 Condensation of water vapors in the atmosphere leads to the formation of which of the following?
2420380

वायुमण्डल में जलवाष्प के संघनन से निम्नलिखित में से किसका निर्माण होता है?

Clouds

A

बादलों

Rainbow

B

इंद्रधनुष

Smog

C

धुंध

Dew

D

औस

Correct Ans : A

Q.No: 59 Which of the following is not one of the categorizations of a biotic community?
2420387

निम्नलिखित में से कौन एक जैविक समुदाय के वर्गीकरण में से एक नहीं है?

Autotrophs,

A

स्वपोषी

Heterotrophs

B

परपोषी

Saprotrophs

C

मृतपोषी

Chemotrophs

D

रसोपोषी

Correct Ans : D

Q.No: 60 Some organism manufacture food without using sunlight. The process is known as which of the following?
2420388

कुछ जीव सूर्य के प्रकाश का उपयोग किए बिना भोजन का निर्माण करते हैं। प्रक्रिया को निम्नलिखित में से किसके रूप में जाना जाता है?

Chemosynthesis

A

रसायनसंश्लेषण

Photosynthesis

B

प्रकाश संश्लेषण

Homeostasis

C

समस्थिति

Reproduction

D

प्रजनन

Correct Ans : A

Q.No: 61 The word "Hygiene" comes from the word "Hygieia", which is a _____ word.
2420507

"हाइजीन" शब्द "हाइजीया" शब्द से आया है, जो एक _____ शब्द है।

A **Latin**

लैटिन

Greek

B

ग्रीक

French

C

फ्रेंच

Roman

D

रोमन

Correct Ans : B

Q.No: 62 *Wuchereria Bancrofti* is responsible for -

2420517

वुचेरिया बैनक्रॉफ्टी _____ के लिए जिम्मेदार है -

Dengue

A

डेंगू

Lymphatic Filariasis

B

लसीका फाइलेरिया

Malaria

C

मलेरिया

Ascariasis

D

एस्कारियासिस

Correct Ans : B

Q.No: 63 Which of the following diseases is also known as the "break-bone fever"?

2420518

निम्नलिखित में से किस रोग को "हड्डी तोड़ बुखार (ब्रेक-बोन फीवर)" के रूप में भी जाना जाता है?

Congo fever

A

कांगो बुखार

Leprosy

B

कुष्ठ रोग

Dengue

C

डेंगू

Influenza

D

इन्फ्लुएंजा

Correct Ans : C

Q.No: 64 Which of the following diseases is also known as Parotitis?

2420528

निम्नलिखित में से किस रोग को "पैरोटाइटिस" के नाम से भी जाना जाता है?

Diarrhoea

A

दस्त

B

Mumps

कण्ठमाला

Chikungunya

C

चिकनगुनिया

Swine-flu

D

स्वाइन फ्लू

Correct Ans : **B**

Q.No: 65 Trypanosoma can cause -
2420536

ट्रिपैनोसोमा से _____ हो सकता है -

Sleeping sickness

A

नींद की बीमारी

Gouts

B

गठिया

Asthma

C

अस्थमा

Anaemia

D

एनीमिया

Correct Ans : **A**

Q.No: 66 When carbon dioxide is passed through lime water, it makes the latter -
2420653

जब कार्बन डाइऑक्साइड को चूने के पानी में प्रवाहित किया जाता है, तो यह चूने के पानी को बनाता है -

Yellow

A

पीला

Milky

B

दूधिया

Brownish

C

भूरा

Orange

D

नारंगी

Correct Ans : **B**

Q.No: 67 Blue vitriol is another name of -
2420654

ब्लू विट्रियल का दूसरा नाम है -

Crystalline magnesium sulphate

A

क्रिस्टलीय मैग्नीशियम सल्फेट

Crystalline copper sulphate

B

क्रिस्टलीय कॉपर सल्फेट

C

Liquid sodium hydroxide

तरल सोडियम हाइड्रोक्साइड

Crystalline sodium sulphate

D

क्रिस्टलीय सोडियम सल्फेट

Correct Ans : B

Q.No: 68 For rusting, presence of which of the following is essential?
2420659

जंग लगने के लिए, निम्नलिखित में से किसकी उपस्थिति आवश्यक है?

Oxygen only

A

केवल ऑक्सीजन

Water vapour only

B

केवल जल वाष्प

Oxygen and water both

C

ऑक्सीजन और पानी दोनों

Oxygen, water and carbon

D

ऑक्सीजन, पानी और कार्बन

Correct Ans : C

Q.No: 69 What is the full-form of PCDT in the PCDT polyester?
2420668

पीसीडीटी पॉलिएस्टर में पीसीडीटी का पूर्ण रूप क्या है?

poly-1, 4-cyclohexylene-dimethylene terephthalate

A

पॉली-1, 4-साइक्लोहेक्सिलीन-डाइमेथिलीन टेरिफथेलेट

poly-1, 4-cyclohexane-dimethyl terephthalate

B

पॉली-1, 4-साइक्लोहेक्सेन-डाइमिथाइल टेरिफथेलेट

poly-1, 4-cyclohexylene-dimethyl tetrabutane

C

पॉली-1, 4-साइक्लोहेक्सिलीन-डाइमिथाइल टेट्राब्यूटेन

poly-1, 4-cyclohexane-dimethyl tetrabutane

D

पॉली-1, 4-साइक्लोहेक्सेन-डाइमिथाइल टेट्राब्यूटेन

Correct Ans : A

Q.No: 70 Which of the following is NOT a metal?
2420674

निम्नलिखित में से कौन-सी धातु नहीं है?

Copper

A

कॉपर

Calcium

B

कैल्शियम

Phosphorus

C

फास्फोरस

Magnesium

D

मैग्नीशियम

Correct Ans : C

Q.No: 71 Which of the following is the only metal that remains in a liquid state at room temperature?
2420676

निम्नलिखित में से कौन-सी एकमात्र धातु है जो कमरे के तापमान पर तरल अवस्था में रहती है?

Lead

A

सीसा (लीड)

Mercury

B

पारा

Sodium

C

सोडियम

Potassium

D

पोटेशियम

Correct Ans : B

Q.No: 72 The additional part of bone which are not as hard and also are elastic in nature are known as which of the following?
2420895

हड्डी का अतिरिक्त भाग जो उतना कठोर नहीं होता और प्रकृति में लोचदार भी होता है, निम्नलिखित में से किसे कहा जाता है?

Epiphysis

A

अधिवर्ध

Diaphysis

B

अस्थिदंड

Periosteum

C

परिअस्थि झिल्ली

Cartilages

D

उपास्थि

Correct Ans : D

Q.No: 73 The mode of nutrition in which organisms make food themselves from simple substances is known as which of the following?
2420902

पोषण की वह विधि जिसमें जीव सरल पदार्थों से स्वयं भोजन बनाते हैं, निम्नलिखित में से किसे कहते हैं?

Autotrophic

A

स्वपोषी

Heterotrophic

B

परपोषी

Multitrophic

C

बहुपोषी

Parasites

D

परजीवी

Correct Ans : A

Q.No: 74 The presence of which of the following in leaves indicates the occurrence of photosynthesis?
2420905

पतियों में निम्नलिखित में से किसकी उपस्थिति प्रकाश संश्लेषण की घटना को इंगित करती है?

Starch

A

स्टार्च

Protein

B

प्रोटीन

Fat

C

वसा

Gluten

D

ग्लूटेन

Correct Ans : **A**

Q.No: 75 Some grass eating animals quickly swallow the grass and store the partially digested food in a part of the stomach known as which of the following?
2420913

कुछ घास खाने वाले जानवर जल्दी से घास को निगल जाते हैं और आंशिक रूप से पचने वाले भोजन को पेट के एक हिस्से में जमा कर देते हैं जिसे निम्नलिखित में से क्या कहते हैं?

Rumen

A

रूमेन

Ruminant

B

रूमिनैन्ट

Cud

C

जुगाल

Pseudopodia

D

प्रादाभ

Correct Ans : **A**

Q.No: 76 Which of the following is not a programming language?
2411547

निम्न में से कौन सी एक प्रोग्रामिंग भाषा नहीं है?

Lisp

A

लिस्य

See

B

एसईईई

Java

C

जावा

Perl

D

पर्ल

Correct Ans : **B**

Q.No: 77 Minicomputers are also called _____ computers.
2411554

मिनीकंप्यूटर्स को----- कंप्यूटर भी कहा जाता है।

A

Midrange

मिडरेंज

laptop

B

लैपटॉप

handheld

C

हैंडहेल्ड

Smart

D

स्मार्ट

Correct Ans : **A**

Q.No: 78 The raw facts and figures are _____.

2411567

रॉफैक्ट और फिगर ---- कहलाते हैं।

Data**A**

डेटा

Information

B

इन्फॉर्मेशन

Snapshot

C

स्नेपशॉट

Reports

D

रिपोर्ट

Correct Ans : **A**

Q.No: 79 The program that allows the OS to work with a printer or a video card is a(n) _____.

2411572

प्रोग्राम जो ओएस को एक प्रिंटर या एक वीडियो कार्ड के साथ काम करने के लिए अनुमति देता है वह एक----- है।

Utility

A

यूटिलिटी

driver**B**

ड्राइवर

applet

C

एप्लेट

system call

D

सिस्टम कॉल

Correct Ans : **B**

Q.No: 80 What is the shortcut key to Update Formula in a table?

2411576

किसी टेबल में फॉर्मूला अपडेट करने के लिए शॉर्टकट कुंजी क्या है?

Shift + F9

A

शिफ्ट + F9

F9**B****F9**

C

Ctrl + F9

कंट्रोल + F9

Alt + F9

D

अल्ट्र + F9

Correct Ans : B

Q.No: 81 What SQL command will allow you to change the table STUDENT to add the constraint named Grade Check that states that the values of the Grade column must be c
2411578

कौन सा एसक्यूएल कमांड आपको टेबल स्टूडेंट को बदलकर ग्रेड चेक नाम वाले कंस्ट्रेंट को एड करने की अनुमति देगा जिसमें कहा गया है कि ग्रेड कॉलम का मान 0 से अधिक होना चाहिए?

ALTER TABLE STUDENT ALTER CONSTRAINT Grade Check (Grade > 0) ;

A

ALTER TABLE STUDENT ALTER CONSTRAINT Grade Check (Grade > 0) ;

ALTER TABLE STUDENT ADD CONSTRAINT Grade Check (Grade > '0) ;

B

ALTER TABLE STUDENT ADD CONSTRAINT Grade Check (Grade > '0) ;

ALTER TABLE STUDENT ADD CONSTRAINT Grade Check CHECK (Grade> 0) ;

C

ALTER TABLE STUDENT ADD CONSTRAINT Grade Check CHECK (Grade> 0) ;

ALTER TABLE STUDENT ADD CONSTRAINT Grade Check (Grade> 0) ;

D

ALTER TABLE STUDENT ADD CONSTRAINT Grade Check (Grade> 0) ;

Correct Ans : C

Q.No: 82 Various applications and documents are represented on the Windows desktop by _____.
2411581

विभिन्न एप्लिकेशंस और डॉक्यूमेंट्स विंडोज डेस्कटॉप पर ----- द्वारा दर्शाये जाते हैं।

Symbols

A

सिम्बल

Labels

B

लेबल

Graphs

C

ग्राफ

Icons

D

आईकॉन

Correct Ans : D

Q.No: 83 A register that keeps track of the next instruction to be executed is called a(n) _____.
2411584

एक रजिस्टर जो निष्पादित किए जाने वाले अगले निर्देशों का ट्रैक रखता है ----- कहा जाता है।

Data Register

A

डाटा रजिस्टर

Instruction Register

B

इंस्ट्रक्शन रजिस्टर

Action Register

C

एक्शन रजिस्टर

D

Program Counter

प्रोग्राम काउंटर

Correct Ans : B

Q.No: 84 Which of the following will translate higher level language to lower level language?
2411592

निम्न में से कौन सा उच्च स्तर की भाषा को निम्न स्तर की भाषा में अनुवाद करेगा?

Translator

A

Translator**Linker**

B

Linker**Converter**

C

Converter**Compiler**

D

Compiler

Correct Ans : D

Q.No: 85 Which of the following is not related with 'Programming'?
2411606

निम्नलिखित में से कौन प्रोग्रामिंग से संबंधित नहीं है?

Programmer

A

Programmer**Language**

B

Language**Operating System**

C

Operating System**Flow Chart**

D

Flow Chart

Correct Ans : C

Q.No: 86 Full form of DVD is?
2411617

DVD को विस्तृत करें?

Digital Video Disc

A

Digital Video Disc**Decoded Versatile Disc**

B

Decoded Versatile Disc**Digital Virtual Disc**

C

Digital Virtual Disc**Dimensional Video Disc**

D

Dimensional Video Disc

Correct Ans : A

Q.No: 87 Who is the founder of 'WWW'?
2411628

'WWW' के संस्थापक कौन हैं?

Ajay V. Bhatt

A

अजय वी भट्ट

Tim Berners-Lee

B

टिम बर्नर्स-ली

Ericsson

C

एरिक्सन

DARPA

D

DARPA

Correct Ans : **B**

Q.No: 88 _____ is the most important/powerful computer in a typical network.

2411639

_____ एक विशिष्ट नेटवर्क में सबसे महत्वपूर्ण / शक्तिशाली कंप्यूटर है।

Network client

A

Network client

Desktop

B

Desktop

Network station

C

Network station

Network server

D

Network server

Correct Ans : **D**

Q.No: 89 In Microsoft Word while writing a document, you can use the _____ feature to find an appropriate word or an alternative word?

2411664

एक दस्तावेज़ लिखते समय माइक्रोसॉफ्ट वर्ड में, आप उपयुक्त शब्द या वैकल्पिक शब्द खोजने के लिए _____ सुविधा का उपयोग कर सकते हैं?

Dictionary

A

Dictionary

Translate

B

Translate

Encyclopedia

C

Encyclopedia

Thesaurus

D

Thesaurus

Correct Ans : **D**

Q.No: 90 What does VPN stand for?

2411690

वीपीएन का क्या अर्थ है?

Very Personal Network

A

Very Personal Network

B Virtual Private Network

Virtual Private Network

Video Per Navigation

C

Video Per Navigation

Video Point Name

D

Video Point Name

Correct Ans : **B**

Q.No: 91 ADSL, SDSL, HDSL, and VDSL are examples of different types of _____.

2411695

एडीएसएल, एसडीएसएल, एचडीएसएल, और वीडिएसएल विभिन्न प्रकार के _____ के उदाहरण हैं।

Ethernet

A

ईथरनेट

Digital subscriber link

B

डिजिटल ग्राहक लिंक

Modem

C

मोडेम

Subscription

D

सदस्यता

Correct Ans : **B**

Q.No: 92 Which protocol does PPP use to identify the network layer protocol?

2411864

नेटवर्क लेयर प्रोटोकॉल को दर्शाने के लिए पी.पी.पी. किस प्रोटोकॉल का इस्तेमाल करता है?

Network control protocol

A

नेटवर्क कंट्रोल प्रोटोकॉल

Integrated services digital network

B

इंटीग्रेटेड सर्विसेज डिजिटल प्रोटोकॉल

High-level data link control

C

हाई लेवल डेटा लिंक कंट्रोल

Linear-predictive coding

D

लीनिपर प्रिडिक्टिव कोडिंग

Correct Ans : **A**

Q.No: 93 At which layer of the OSI model, segmentation of a data stream happens-

2411865

ओएसआई मॉडल की किस लेयर (परत) पर डेटा स्ट्रीम का विभाजन होता है-

Transport layer

A

ट्रांसपोर्ट लेयर

B

Data link layer

डेटा लिंक लेयर

Physical layer

C

फिजिकल लेयर

Network layer

D

नेटवर्क लेयर

Correct Ans : **A**

Q.No: 94 What is BCC in email?

2411885

ईमेल में BCC क्या है?

Blind Carbon Copy

A

ब्लाइंड कार्बन कॉपी

Bold Carbon Copy

B

बोल्ड कार्बन कॉपी

Beyond Computer Copy

C

बिफॉरे कार्बन कॉपी

Before Carbon Copy

D

बिफोर कार्बन कॉपी

Correct Ans : **A**

Q.No: 95 What is the function of router?

2411888

राउटर का कार्य क्या है?

It is isolate network traffic and computers

A

यह नेटवर्क ट्रैफिक और कंप्यूटर को अलग करता है

It operate at the Data Link layer (layer 2) of the OSI

B

यह OSI के डेटा लिंक लेयर (लेयर 2) पर काम करता है

It works at the OSI layer 3 (network layer)

C

यह OSI लेयर 3 (नेटवर्क लेयर) पर काम करता है

It allows computers to communicate over a telephone line

D

यह कंप्यूटर को टेलीफोन लाइन पर संचार करने की अनुमति देता है

Correct Ans : **C**

Q.No: 96 is a byword for the quality and the reliability of the data of a database system.

2411889

..... डेटाबेस सिस्टम के डेटा की गुणवत्ता और विश्वसनीयता के लिए एक संकेत है।

Data Integrity

A

डेटा इंटीग्रिटी

Transaction

B

लेन-देन

C

Data Persistence

डेटा की दृढ़ता

Data Independence

D

डेटा स्वतंत्रता

Correct Ans : A

Q.No: 97 What is the function of CONCATENATE in MS Excel?
2411904

MS Excel में CONCATENATE का क्या कार्य है?

Joins together two or more text strings

A

दो या दो से अधिक टेक्स्ट स्ट्रिंग्स को एक साथ जोड़ता है

Converts all characters in a supplied text string to lower case

B

सभी वर्णों को आपूर्ति की गई पाठ स्ट्रिंग में निम्न स्थिति में परिवर्तित करता है

Returns the number of cells (of a supplied range), that satisfy a given criteria

C

सेल की संख्या लौटाता है (एक आपूर्ति सीमा के), जो किसी दिए गए मानदंड को पूरा करता है

Returns the positive square root of a given number

D

किसी दिए गए नंबर का धनात्मक वर्गमूल लौटाता है

Correct Ans : A

Q.No: 98 In MS Excel, a workbook refers to a collection of _____.
2411925

माइक्रोसॉफ्ट एक्सेल में, एक वर्कबुक _____ के संग्रह को संदर्भित करता है।

Excel pages

A

एक्सेल पेज

Worksheets

B

वर्कशीट

Work pages

C

वर्क पेज

Work references

D

वर्क रेफरन्स

Correct Ans : B

Q.No: 99 Which of the following takes the program code and converts the source code to a machine language module in a compiled programme language?
2412425

निम्नलिखित में से कौन-सा विकल्प प्रोग्राम कोड लेता है और एक कम्पाइल प्रोग्राम लैंग्वेज में सोर्स कोड को मशीन लैंग्वेज मॉड्यूल में परिवर्तित करता है?

Linker

A

लिंकर

Object File

B

ऑब्जेक्ट फाइल

Compiler

C

कम्पाइलर

Executable file

D

एक्सीक्यूटेबल फाइल

Correct Ans : C

Q.No: 100 The acronym for CDMA is?

2412649

CDMA का संक्षिप्त नाम क्या है?

Computer Division Multiple Access

A

Computer Division Multiple Access**Code Division Multiple Access**

B

Code Division Multiple Access**Computer Divided Multi Access**

C

Computer Divided Multi Access**COBOL Division Multiple Access**

D

COBOL Division Multiple Access

Correct Ans : B

Q.No: 101 Select the term that will come next in the following series.

2417554

B, D, G, K, P, _____

उस पद का चयन करें, जो निम्नलिखित श्रृंखला में अगला आएगा।

B, D, G, K, P, _____

S

A

S**V**

B

V**W**

C

W**X**

D

X

Correct Ans : B

Q.No: 102 Which of the following options will complete the given series:

2417567

_xy_zyx_w_yz_y_w

दिए गए पैटर्न में लुप्त अक्षर ज्ञात कीजिए।

_xy_zyx_w_yz_y_w

wxyzzz

A

wxyzzz**xwyzzz**

B

xwyzzz**wzwxzx**

C

wzwxzx**wzwxzx**

D

wzwxzx

Correct Ans : C

Q.No: 103 Find the odd one among the following.
2417619

निम्नलिखित में से विषम ज्ञात कीजिए।

Chameleon

A

गिरगिट

Crocodile

B

मगरमच्छ

Turtle

C

कछुआ

Allegator

D

एलीगेटर

Correct Ans : A

Q.No: 104 Find the odd one among the following.
2417632

निम्नलिखित में से विषम ज्ञात कीजिए।

Iron

A

लोहा

Aluminium

B

अल्युमीनियम

Mercury

C

पारा

Zinc

D

जस्ता

Correct Ans : C

Q.No: 105 In the following question, select the odd letters from the given alternatives.
2417674

निम्न प्रश्न में, दिए गए विकल्पों में से विषम अक्षरों का चयन करें।

DGIJ

A

DGIJ

MPRS

B

MPRS

TWYZ

C

TWYZ

ORSU

D

ORSU

Correct Ans : D

Q.No: 106 'Cashew' is related to 'dry fruits' in the same way 'book' is related to _____.?
2417707

'काजू का संबंध 'सूखे मेवों से है उसी प्रकार 'पुस्तक' का संबंध _____ से है?

Study

A

अध्ययन

Exercise

B

व्यायाम

Stationary

C

स्टेशनरी

Exam

D

परीक्षा

Correct Ans : C

Q.No: 107 In the following question, select the related word from the given alternatives.
2417713 Dal lake : Srinagar :: Lake Manasarovar : ?

निम्नलिखित प्रश्न में, दिए गए विकल्पों में से संबंधित शब्द का चयन करें।
डल झील : श्रीनगर :: मानसरोवर झील : ?

Kathmandu

A

काठमांडू
Tibet

B

तिब्बत
Gangtok


C

गंगटोक
Kasol

D

कसोली

Correct Ans : B

Q.No: 108 
2417717

निम्नलिखित प्रश्न में, दिए गए विकल्पों में से संबंधित शब्द का चयन करें।
वोल्टमीटर : वोल्टेज :: एमीटर : ?

Resistance

A

प्रतिरोध
Amplitude

B

आयाम
Electric Current

C

विद्युत धारा
Magnetic flux

D

चुंबकीय फ्लक्स

Correct Ans : C

Q.No: 109 In the following question, select the related word from the given alternatives.
2417723 Cynophobia : dogs :: ? : animals

निम्नलिखित प्रश्न में, दिए गए विकल्पों में से संबंधित शब्द का चयन करें।
सायनोफोबिया : कुत्ते :: ? : जानवर

Nomophobia

A

नोमोफोबिया
Zoophobia

B

जूफोबिया
Faunophobia

C

फौनोफोबिया
Anemophobia

D

एनीमोफोबिया

Correct Ans : B

Q.No: 110 In a certain language, FASHION is coded as UZHSRLM. How will SAMSUNG be coded in the same language?

2417748

यदि FASHION को एक निश्चित भाषा में UZHSRLM के रूप में कूटित किया जाता है, तो SAMSUNG को उसी भाषा में कैसे कूटित किया जाएगा

HZNHFMT

A

HZNHFMT
HZNFHNT

B

HZNFHNT
JZNFHNT

C

JZNFHNT
GZNFHNT

D

GZNFHNT

Correct Ans : A

Q.No: 111 If in a certain code language 'BHAI' is written as '2819', then how will 'CDGH' be written in that language?

2417752

यदि एक निश्चित कोड भाषा में 'BHAI' को '2819' लिखा जाता है, तो 'CDGH' को उस भाषा में कैसे लिखा जाएगा?

8437

A

8437
7348

B

7348
3487

C

3487
3478

D

3478

Correct Ans : D

Q.No: 112 If in a certain code language 'WIND' is written as '414923', 'SAND' is written as '414119', then how will 'FASHION' be written in that language?

2417758

यदि एक निश्चित कूट भाषा में 'WIND' को '414923' लिखा जाता है, 'SAND' को '414119' लिखा जाता है, तो उस भाषा में 'FASHION' को कैसे लिखा जाएगा?

A

1451981916

1451981916**1415989161**

B

1415989161**1415981961**

C

1415981961**1415981916**

D

1415981916

Correct Ans : D

Q.No: 113 If in a certain code language 'NOIDA' is written-as '39658', then how will 'INDIA' be written in that language?
2417764

यदि एक निश्चित कूट भाषा में 'NOIDA' को '39658' लिखा जाता है, तो 'INDIA' को उस भाषा में कैसे लिखा जाएगा?

36368

A

36368**56368**

B

56368**63568**

C

63568**63586**

D

63586

Correct Ans : C

Q.No: 114 From the given alternatives select the word which cannot be formed using the letters of the given word.
2417888

PERSONALITY

निम्नलिखित विकल्पों में से वह शब्द चुनिए जो दिए गए शब्द के अक्षरों का प्रयोग करके नहीं बनाया जा सकता?

PERSONALITY**REALITY**

A

REALITY**REASON**

B

REASON**PERSON**

C

PERSON**ROYALTY**

D

ROYALTY

Correct Ans : D

Q.No: 115 From the given words, select the word which cannot be formed using the letters of the given word.
2417892

DETERMINATION

निम्नलिखित विकल्पों में से वह शब्द चुनिए जो दिए गए शब्द के अक्षरों के प्रयोग से नहीं बनाया जा सकता है।

DETERMINATION

A

DETENTION

DETENTION**DESTINATION****B****DESTINATION****TERMINATE****C****TERMINATE****DOMINATE****D****DOMINATE**Correct Ans : **B**

Q.No: 116 From the given alternative words, select the word which cannot be formed using the letters of the given word.

2417898**ENCYCLOPEDIA**

निम्नलिखित विकल्पों में से वह शब्द चुनिए जो दिए गए शब्द के अक्षरों का प्रयोग करके नहीं बनाया जा सकता?

ENCYCLOPEDIA**OPEN****A****OPEN****PLEASE****B****PLEASE****CANOPY****C****CANOPY****PLEAD****D****PLEAD**Correct Ans : **B**

Q.No: 117 From the given alternative words, select the word which cannot be formed using the letters of the given word.

2417904**EXORBITANT**

निम्नलिखित विकल्पों में से वह शब्द चुनिए जो दिए गए शब्द के अक्षरों का प्रयोग करके नहीं बनाया जा सकता?

EXORBITANT**BITTER****A****BITTER****EXPORT****B****EXPORT****EXNORA****C****EXNORA****EXTANT****D****EXTANT**Correct Ans : **B**

Q.No: 118 Find the missing number in the series.

2417946

25, 68, 196, 579, 1727, ?

श्रृंखला में लुप्त संख्या ज्ञात कीजिए।

25, 68, 196, 579, 1727, ?

A 5148

5148

5068

B

5068

5092

C

5092

5170

D

5170

Correct Ans : D

Q.No: 119 In the following question select the related number from the given alternatives.

2417977 256 : 240 :: _____ : 90

दिए गए विकल्पों में से संबंधित संख्या का चयन करें।

256 : 240 :: _____ : 90

110

A

110

132

B

132

100

C

100

81

D

81

Correct Ans : C

Q.No: 120 In the following question select the related number from the given alternatives.

2417983 13 : 2198 :: 16 : _____

दिए गए विकल्पों में से संबंधित संख्या का चयन करें।

13 : 2198 :: 16 : _____

257

A

257

2745

B

2745

4097

C

4097

3377

D

3377

Correct Ans : C

Q.No: 121 If @ denotes '+', # denotes 'x', \$ denotes '+', and % denotes '-', then what will be the value of the following expression:

2417993 18 # 2 @ 2 \$ 18 % 18

यदि @ का अर्थ '-' है, # का अर्थ '×', \$ का अर्थ '+' और % का अर्थ '÷' है, तो निम्नलिखित अभिव्यक्ति

का मूल्य क्या होगा:

$$18 \# 2 @ 2 \$ 18 \% 18$$

0

A

0

2

B

2

36

C

36

18

D

18

Correct Ans : D

Q.No: 122 Find out the two signs to be interchanged for making following equation correct.

2417997

$$1/4 \div 1/64 - 5 + 45 \times 120 = 5$$

निम्नलिखित समीकरणों को सही रूप से हल करने के लिए किन दो चिह्न को आपस में बदलना होगा?

$$1/4 \div 1/64 - 5 + 45 \times 120 = 5$$

+ and ×

A

+ और ×

× and -

B

× और -

+ and -

C

+ और -

- and ÷

D

- और ÷

Correct Ans : B

Q.No: 123 If '-' means '×', '×' means '+', '+' means '÷', '÷' means '-', then what will be the value of 40×12

2418003

$$+ 3 - 6 \div 60 = ?$$

यदि '-' का आशय '×' से हो, '×' का आशय '+' से हो, '+' का आशय '÷' से हो और '÷' का आशय '-' से हो, तो $40 \times 12 + 3 - 6 \div 60$ का मान क्या होगा?

4

A

4

7

B

7

16

C

16

44

D

44

Correct Ans : A

Q.No: 124
2418009 If '×' means 'addition', '-' means 'division', '/' means 'subtraction' and '+' means 'multiplication', then which of the given equation is correct?

यदि '×' का अर्थ जोड़, '-' का अर्थ भाग, '/' का अर्थ घटाना और '+' का अर्थ गुणा हो, तो दिए गए विकल्पों में से कौन सा समीकरण सही है?

$$25 + 10 - 5/10 \times 3 = 43$$

A

$$25 + 10 - 5/10 \times 3 = 43$$

$$25 - 10 \times 5 + 10/3 = 72$$

B

$$25 - 10 \times 5 + 10/3 = 72$$

$$25 \times 10/5 + 10 - 3 = 12$$

C

$$25 \times 10/5 + 10 - 3 = 12$$

$$25/10 + 5 \times 10/3 = 18$$

D

$$25/10 + 5 \times 10/3 = 18$$

Correct Ans : A

Q.No: 125 Identify the diagram that best represents the relationship among the given classes.
2418257

Silver, Gold, Jewellery

उस आरेख का चयन करें जो दिए गये वर्गों में उचित संबंध दर्शाता है।

चांदी, सोना, आभूषण



A



B



C



D



Correct Ans : C

Q.No: 126

2418536 Resignation, dismissal , lay off of employees relates to

कर्मियों का त्यागपत्र, बर्खास्तगी, छंटनी, किससे संबंधित है

Separation

A

पृथक्करण

Recruitment

B

नियुक्ति

Promotion

C

पदोन्नति

Job description

D

नौकरी का विवरण

Correct Ans : A

Q.No: 127 When the scale of salary of an employee is increased without corresponding changes in job is known as

2418542

जब संबंधित नौकरी में बिना बदलाव किए किसी कर्मी के वेतनमान में परिवर्तन होता है तो इसे निम्नलिखित में से किस नाम से जाना जाता है

Promotion

A

पदोन्नति

Transfer

B

स्थानांतरण

Upgradation

C

अपग्रेडेशन

Retirement

D

सेवा निवृत्ति

Correct Ans : C

Q.No: 128 Which of the following reason is not associated with training to employees?

2418547

निम्नलिखित में से कौन सी वजह कर्मियों के प्रशिक्षण से संबंधित नहीं है

Quick learning

A

शीघ्र शिक्षण

Higher productivity

B

उच्चतर उत्पादकता

Increased supervision

C

संबद्धित निगारानी

Standardisation of procedures

D

प्रक्रियाओं का मानदंडीकरण

Correct Ans : C

Q.No: 129 When two business agree to join together for a common purpose and mutual benefit it is known as

2418574

जब दो व्यवसाय एक समान उद्देश्य और पारस्परिक लाभ के लिए आपस में जुड़ने के लिए सहमत होते हैं तो इसे क्या कहा जाता है?

A

Statutory corporation

वैधानिक कॉरपोरेशन

Joint ventures

B

संयुक्त उपक्रम

Global Enterprises

C

वैश्विक उपक्रम

Memorandum of understanding

D

समझौता ज्ञापन

Correct Ans : **B**

Q.No: 130 Those activities which are concerned with the extraction and production of natural resources and reproduction and development of living organism plant are known as
2418581

प्राकृतिक संसाधनों के निष्कर्षण और उत्पादन और सजीवों पौधों के प्रजनन और विकास से संबंधित गतिविधियाँ क्या कहलाती हैं

Primary Industries

A

प्राथमिक उद्योग

Secondary industries

B

द्वितीयक उद्योग

Territory industries

C

तृतीयक उद्योग

Assembling industry

D

असेम्बलिंग उद्योग

Correct Ans : **A**

Q.No: 131 Where does one can claim the amount of loss or damages of stock in business?
2418583

व्यवसाय में स्टॉक के नुकसान या नुकसान की राशि का दावा कहाँ किया जा सकता है?

Banks

A

बैंक

Transport

B

परिवहन

Communication

C

संचार

Insurance

D

बीमा

Correct Ans : **D**

Q.No: 132 Which of the following comes under the features of a partnership firm Business carried on by all or any one of the partners acting for all every partner is both an age
2418590

निम्नलिखित में से कौन-सा साझेदारी फर्म की विशेषताओं के अंतर्गत है, समस्त या किसी साझेदार द्वारा किया प्रत्येक साझेदार के लिए एजेंट और प्रधान के रूप में कार्य करते हुए व्यवसाय किया जाता है

Continuity

A

संतत्य

B

Decision making

निर्णय सृजन

Control

C

नियंत्रण

Mutual agency

D

पारस्परिक सहमति

Correct Ans : D

Q.No: 133 _____ is a contractual agreement whereby the owner of the Asset grants the other party the right to use the Asset in return for periodic payment
2418685

_____ एक सविदागत समझौता है जिसके तहत परिसंपत्ति का मालिक समय-समय पर भुगतान के बदले में दूसरे पक्ष को संपत्ति का उपयोग करने का अधिकार प्रदान करता है

Factoring

A

फैक्टरिंग

Lease

B

पट्टा

Trade credit

C

व्यापार ऋण

Retained earning

D

प्रतिधारित आय

Correct Ans : B

Q.No: 134 The full form of IPR is
2418689

आईपीआर का पूरा नाम क्या है

Intellectual Property rights

A

इंटेलेक्चुअल प्रापर्टी राइट

Intelligent prospect right

B

इंटेलिजेंट प्रॉस्पेक्ट राइट

Interest promotion right

C

इंटेरेस्ट प्रोमोशन राइट

Intelligence profit right

D

इंटेलिजेंस प्रॉफिट राइट

Correct Ans : A

Q.No: 135 Buying and selling of goods and services within the boundaries of a nation are referred as
2418694

किसी देश की सीमाओं के भीतर माल और सेवाओं की खरीद और बिक्री क्या कहलाती है

External trade

A

बाहरी व्यापार

Internal trade

B

आंतरिक व्यापार

International trade

C

अंतर्राष्ट्रीय व्यापार

D **Foreign trade**

विदेशी व्यापार

Correct Ans : **B**

Q.No: 136 Which of the following does not comes under the characteristics of marketing

2418718

निम्नलिखित में से कौन विपणन के गुण-धर्म के अंतर्गत नहीं आता है

It is operational

A

यह संचालक है

It is not customer oriented

B

यह ग्राहक उन्मुख नहीं होता है

It is value driven

C

यह मूल्य प्रेरित होता है

It covers both profit and non-profit making organisation

D

यह लाभकारी और गैर-लाभकारी दोनों तरह के संगठन का समन्वय है

Correct Ans : **B**

Q.No: 137 Which of the following does not comes under functions of marketing management

2418722

निम्नलिखित में से कौन कार्य विपणन प्रबंधन के अंतर्गत नहीं आते हैं

Assessing marketing opportunities

A

विपणन के अवसरों का आकलन करना

Production of goods

B

वस्तुओं का उत्पादन

Providing effective marketing organisation

C

प्रभावी विपणन संगठन प्रदान करना

Planning marketing activities

D

विपणन गतिविधियों की योजना तैयार करना

Correct Ans : **B**

Q.No: 138 Green Marketing is also known as

2418726

ग्रीन मार्केटिंग को के नाम से भी जाना जाता है

Eco marketing

A

इको मार्केटिंग

Nice marketing

B

नाइस मार्केटिंग

Counter marketing

C

काउंटर मार्केटिंग

One to one marketing

D

वन टू वन मार्केटिंग

Correct Ans : **A**

Q.No: 139 Which of the following does not comes under nature of marketing strategies
2418738

निम्नलिखित में से कौन विपणन रणनीतियों की प्रकृति के अंतर्गत नहीं आता है

Dynamic

A

गतिशील

Futuristic

B

भविष्यमूलक

Top management blueprint

C

शीर्ष प्रबंधन ब्लूप्रिंट

Simple plan

D

सामान्य योजना

Correct Ans : D

Q.No: 140 Management as an art has the following attribute-
2418781

एक कला के रूप में प्रबंधन की निम्नलिखित विशेषता होती है:

Application of Management concept and principles

A

प्रबंधन की अवधारणा और सिद्धांतों का अनुप्रयोग

Scientific observation

B

सूक्ष्म अवलोकन

Systematic body

C

सिस्टमेटिक बॉडी

Experimentation

D

प्रयोग

Correct Ans : A

Q.No: 141 Who proposed a list of Administrative functions under the catch word PODSCORB
2418784

पॉडस्कोर्ब शब्द के अंतर्गत प्रशासनिक कार्यों की सूची का प्रस्ताव निम्नलिखित में से किसने दिया था?

Luther Gullick

A

लूथर गुलिक

Henri Fayol

B

हेनरी फयाल

Urwick

C

उर्विक

Taylor

D

टायलर

Correct Ans : A

Q.No: 142 The need for efficient management in the organisation is related to
2418785

संगठन में कुशल प्रबंधन की आवश्यकता, किससे संबंधित है

Accomplishment of goals

A

लक्ष्यों की पूर्ति

No balance between effectiveness and efficiency

B

प्रभावशीलता और दक्षता के बीच असंतुलन

Not for productivity

C

उत्पादकता के लिए नहीं

Not for growth

D

विकास के लिए नहीं

Correct Ans : A

Q.No: 143 Full form of MNCs.

2418929

MNC का पूर्ण रूप है

Many national Corporations

A

मैनी नेशनल कॉर्पोरेशन

Multinational corporations

B

मल्टीनेशनल कॉर्पोरेशन

Mutual nationality Corporation

C

म्यूचुअल नेशनल कॉर्पोरेशन

Movement national Corporation

D

मूवमेंट नेशनल कॉर्पोरेशन

Correct Ans : B

Q.No: 144 An act of using goods and services to satisfy current wants

2418934

वर्तमान जरूरतों को पूरा करने के लिए वस्तुओं और सेवाओं का उपयोग करने का एक कार्य

cost of production

A

उत्पादन की लागत

consumption

B

खपत

expenditure

C

व्यय

price

D

कीमत

Correct Ans : B

Q.No: 145 Stock of unsold finished goods, semi-finished goods, Raw material is known as

2418938

बिना बिके तैयार माल, अर्द्ध तैयार माल, कच्चे माल के स्टॉक के रूप में जाना जाता है

Investment

A

निवेश

B Inventory

इन्वेंट्री

Product

C

उत्पाद

Expenditure

D

व्यय

Correct Ans : **B**

Q.No: 146 Allocating natural and artificial resources so as to make optimum use of the environment relates to
2418943

पर्यावरण का इष्टतम उपयोग करने के लिए प्राकृतिक और कृत्रिम संसाधनों का आवंटन किससे संबंधित है?

Human Resource Management

A

मानव संसाधन प्रबंधन

Financial management

B

वित्तीय प्रबंधन

Environmental management

C

पर्यावरण प्रबंधन

Marketing management

D

मार्केटिंग प्रबंधन

Correct Ans : **C**

Q.No: 147 _____ includes all those activities which are necessary for facilitating the exchange of goods and services are
2419004

----- में वे सभी गतिविधियाँ शामिल हैं जो वस्तुओं और सेवाओं के आदान-प्रदान की सुविधा के लिए आवश्यक हैं

Commerce

A

वाणिज्य

Industry

B

उद्योग

Risk

C

जोखिम

Profit

D

लाभ

Correct Ans : **A**

Q.No: 148 Public Enterprises brought into existence by a special act of Parliament is
2419008

संसद के विशेष कानून द्वारा स्थापित सार्वजनिक उद्यम हैं

Departmental undertakings

A

विभागीय उपक्रम

Statutory corporations

B

वैधानिक निगम

C

Government company

सरकारी कंपनी

Private Enterprise

D

निजी उद्यम

Correct Ans : **B**

Q.No: 149 A government company in which not less than , _____of the paid up capital is held by the central government or by any State government or partly by Central (**2419009**

एक सरकारी कंपनी जिसमें चुकता पूंजी का कम से कम केंद्र सरकार या किसी राज्य सरकार के पास या आंशिक रूप से केंद्र सरकार और आंशिक रूप से एक या अधिक राज्य सरकार के पास हो है

51%**A****51%****49%**

B

49%**30%**

C

30%**40%**

D

40%Correct Ans : **A**

Q.No: 150 According to whom, "Economics is the science of wealth"? **2419014**

किसके अनुसार "अर्थशास्त्र धन का विज्ञान है"?

Alfred Marshall

A

अल्फ्रेड मार्शल

Lionel Robin

B

लियोनेल रॉबिन

Adam Smith

C

एडम स्मिथ

samuelson

D

सैमुअलसन

Correct Ans : **C**

Q.No: 151 What should come in place of the question mark (?) in the following question? **2421512**

$$98 \div 14 \times 49 - 294 = (?)^2$$

निम्नलिखित प्रश्न में प्रश्नवाचक चिन्ह (?) के स्थान पर क्या आना चाहिए?

$$98 \div 14 \times 49 - 294 = (?)^2$$

14

A

14 $\sqrt{7}$

B

 $\sqrt{7}$

C

 ± 7

± 7 **196**

D

196

Correct Ans : C

Q.No: 152 What should come in place of the question mark (?) in the following question?
2421518 $34^2 - 26^2 = ?^2 - 30\% \text{ of } 320$

निम्नलिखित प्रश्न में प्रश्नवाचक चिन्ह (?) के स्थान पर क्या आना चाहिए?
 $34^2 - 26^2 = ?^2 - 320 \text{ का } 30\%$

12

A

12**18**

B

18**24**

C

24**30**

D

30

Correct Ans : C

Q.No: 153 What should come in place of the question mark (?) in the following question?
2421519 $(420 \div 12 \times 35 + 45^2 - 15^2) = ?^2$

निम्नलिखित प्रश्न में प्रश्नवाचक चिन्ह (?) के स्थान पर क्या आना चाहिए?
 $(420 \div 12 \times 35 + 45^2 - 15^2) = ?^2$

25

A

25**35**

B

35**45**

C

45**55**

D

55

Correct Ans : D

Q.No: 154 What should come in place of the question mark (?) in the following question?
2421523 $\sqrt{21 + \sqrt{49} + \sqrt{64}}\% \text{ of } 5000 = ?$

निम्नलिखित प्रश्न में प्रश्नवाचक चिन्ह (?) के स्थान पर क्या आना चाहिए?
 $5000 \text{ का } \sqrt{21 + \sqrt{49} + \sqrt{64}}\%$

120

A

120

B

300

300**450**

C

450**500**

D

500Correct Ans : **B**

Q.No: 155 Find the smallest fraction of the following fractions?

2421552

निम्नलिखित भिन्नों में से सबसे छोटी भिन्न ज्ञात कीजिए

$$\frac{18}{89}$$

A

$$\frac{18}{89}$$

$$\frac{4}{13}$$

B

$$\frac{4}{13}$$

$$\frac{72}{203}$$

C

$$\frac{72}{203}$$

$$\frac{6}{29}$$

D

$$\frac{6}{29}$$

Correct Ans : **A**

Q.No: 156 Find the smallest fraction of the following fractions?

2421557

निम्नलिखित भिन्नों में से सबसे छोटी भिन्न ज्ञात कीजिए-

$$\frac{1}{12}$$

A

$$\frac{1}{12}$$

$$\frac{18}{218}$$

B

$$\frac{18}{218}$$

$$\frac{4}{50}$$

C

$$\frac{4}{50}$$

$$\frac{19}{230}$$

D

$$\frac{19}{230}$$

Correct Ans : **C**

Q.No: 157 Find the largest fraction of the following fractions?

2421560

निम्नलिखित भिन्न में से सबसे बड़ी भिन्न ज्ञात कीजिए?

$$\frac{111}{190}$$

A

$$\frac{111}{190}$$

$$\frac{41}{76}$$

B

$$\frac{41}{76}$$

$$\frac{4}{9}$$

C

$$\frac{4}{9}$$

$$\frac{52}{87}$$

D

$$\frac{52}{87}$$

Correct Ans : D

Q.No: 158 The areas of the three fields are 288 square cm, 408 square cm, 552 square cm. Equal minimum size blocks are made in the field. If the width of each rectangular b

2421600

तीन खेतों का क्षेत्रफल 288 वर्ग सेमी, 408 वर्ग सेमी और 552 वर्ग सेमी है। प्रत्येक खेत में बराबर माप के ब्लॉक बनाए गए। ब्लॉक आयताकार है और प्रत्येक ब्लॉक की चौड़ाई 4 सेमी है तो लम्बाई (सेमी में) ज्ञात की

4

A

4

6

B

6

8

C

8

2

D

2

Correct Ans : B

Q.No: 159 Three bells ring simultaneously at 11 a.m. They ring at regular intervals of 20 minutes, 30 minutes, 40 minutes respectively. The time when, all the three bell ring to

2421610

तीन घंटियाँ एक साथ पूर्वाह्न 11 बजे बजती है वे क्रमशः 20 मिनट, 30 मिनट, 40 मिनट के अंतराल पर बजती है। तीन घंटियाँ एक साथ अगली बार कब बजेगी?

1 a.m.

A

1 a.m.

1 p.m.

B

1 p.m.

1.15 p.m.

C

1.15 p.m.

1.30 p.m.

D

1.30 p.m.

Correct Ans : B

Q.No: 160 A number divided by 68 gives the quotient 269 and remainder 0. If the same number is divided by 67. The remainder is?

2421636

एक संख्या को 68 से भाग देने पर भागफल 269 शेषफल 0 प्राप्त होता है। यदि उसी संख्या को 67 से भाग दिया जाये तो शेषफल होगा?

- A 0
0
B 1
1
C 2
2
D 3
3

Correct Ans : B

Q.No: 161 Which is the smallest number which when divides 135 the quotient is a perfect cube?
2421660 वह कौन सी न्यूनतम संख्या है जिससे 135 को विभाजित करने पर भागफल पूर्ण घन प्राप्त हो?

- A 2
2
B 3
3
C 4
4
D 5
5

Correct Ans : D

Q.No: 162 A Labor work 54 hours per week & he earns Rs. 32400. If his per hour wages are increased by $14\frac{2}{7}\%$ and duration of work is reduced by $16\frac{2}{3}\%$. What percentage change in income?
2421675

एक मजदूर प्रत्येक हफ्ते 54 घंटे काम करता है और वह 32400 रु. कमाता है। यदि उसकी प्रति घंटे की कमाई को $14\frac{2}{7}\%$ बढ़ा दी जाए और कार्य का समय $16\frac{2}{3}\%$ कम कर दिया जाए तो आय में कितने प्रतिशत का बदलाव हुआ ?

$5\frac{5}{9}\%$ Increase

A

$5\frac{5}{9}\%$ बढ़त

$5\frac{5}{9}\%$ decrease

B

$5\frac{5}{9}\%$ कमी

5% Increase

C

5% बढ़त

$4\frac{16}{21}\%$ decrease

D

$4\frac{16}{21}\%$ कमी

Correct Ans : D

Q.No: 163 50% of the employees of a certain company are men, and 80% of the men earn more than Rs. 2.5 lacs per year. If 60% of the company's employees earn more than Rs. 2.5 per year, then what fraction of the women employed by the company earn more than Rs. 2.5 lacs per year?
2421703

किसी निश्चित कंपनी के 50% कर्मचारी पुरुष हैं और 80% पुरुष 2.5 लाख रुपये प्रति वर्ष से ज्यादा कमाते हैं। यदि कंपनी के 60% कर्मचारी 2.5 लाख रुपये प्रति वर्ष से ज्यादा कमाते हैं, तो कंपनी में 2.5 लाख रुपये प्रति वर्ष से ज्यादा कमाने वाली महिलाओं का कितना भाग है?

$\frac{2}{5}$

A

$\frac{2}{5}$

B

$$\frac{1}{4}$$

$$\frac{1}{4}$$

$$\frac{1}{3}$$

C

$$\frac{1}{3}$$

$$\frac{3}{4}$$

D

$$\frac{3}{4}$$

Correct Ans : A

Q.No: 164 **2421717** On selling an article for Rs. 105, Reshu loses 9%. To Gain 17% she should sell the article at:

रेशू एक वस्तु को यदि 105 रुपये में बेचता है, तो उसे 9% की हानि होती है। 17% लाभ कमाने के लिए उसे वस्तु को किस कीमत पर बेचना चाहिए?

Rs. 126

A

126 ₹.

Rs. 114

B

114 ₹.

Rs. 135

C

135 ₹.

Rs. 139

D

139 ₹.

Correct Ans : C

Q.No: 165 **2421718** A pair of shoes is sold at a Loss of 10%, had it been sold for Rs. 9 more there would have been a Gain of $12\frac{1}{2}\%$ on it. The cost price of the article is:

एक जोड़ी जूता को 10% हानि पर बेचा जाता है। यदि इसे 9 रुपये अधिक में बेचा जाता तो $12\frac{1}{2}\%$ का लाभ होता, तो वस्तु का लागत मूल्य है:

Rs. 40

A

40 ₹.

Rs.42

B

42 ₹.

Rs. 35

C

35 ₹.

Rs. 50

D

50 ₹.

Correct Ans : A

Q.No: 166 **2421742** X sells two articles for Rs. 4,000 each with No loss and No Gain in the transaction. If one was sold at a Gain of 25% then other is sold at a Loss of?

X ने दो वस्तुओं को रु.4000 प्रति वस्तु कि दर से बेचा जिससे उसे न तो लाभ हुआ न हानि, यदि पहली वस्तु को 25% लाभ बेचा गया हो तो दूसरी वस्तु को कितने प्रतिशत हानि पर बेचा गया होगा?

25%

A

25%

$18\frac{2}{9}\%$

B

$18\frac{2}{9}\%$

$16\frac{2}{3}\%$

C

$16\frac{2}{3}\%$

20%

D

20%

Correct Ans : C

Q.No: 167 In how much time, will a sum of money become double of itself at 15% per annum simple interest?
2421757

कितने समय में कोई धनराशि साधारण ब्याज की 15% वार्षिक दर से स्वयं की दुगुनी हो जाएगी?

6 years

A

6 वर्ष

5 years

B

5 वर्ष

$6\frac{1}{4}$ years

C

$6\frac{1}{4}$ वर्ष

$6\frac{2}{3}$ years

D

$6\frac{2}{3}$ वर्ष

Correct Ans : D

Q.No: 168 Raman invests a total of Rs.48600 in two schemes A and B., both of which offer interests which are compounded annually. A offers 60% p.a. and B offers 40% p.a. If after 3 years the values of the two investments A and B are in the ratio of 5 : 3 respectively, then what was the initial ratio of the investments made in B and A?
2421769

रमन दो स्कीमों A और B में कुल रु.48600 का निवेश करता है, दोनों स्कीम चक्रवृद्धि ब्याज (सालाना ब्याज की गणना) देती हैं। A 60% प्रति वर्ष और B 40% प्रति वर्ष ब्याज देती हैं। यदि 3 वर्षों के बाद A और B दोनों निवेशों का मान क्रमशः 5 : 3 के अनुपात में है, तो B और A में किए गए निवेश का प्रारंभिक अनुपात क्या था?

1536 : 1715

A

1536 : 1715

343 : 512

B

343 : 512

C

1283 : 1296

1283 : 1296

113 : 243

D

113 : 243

Correct Ans : A

Q.No: 169 On what sum does the difference between the compound interest and the simple interest for 3 years at 10% is Rs. 3100?
2421776

किस धनराशि पर 10% वार्षिक व्याज की दर से 3 वर्ष का चक्रवृद्धि व्याज और साधारण व्याज का अंतर 3100 रुपये होगा ?

Rs. 1,75,000

A

1,75,000 रुपये

Rs. 1,25,500

B

1,25,500 रुपये

Rs. 1,25,000

C

1,25,000 रुपये

Rs. 1,00,000

D

1,00,000 रुपये

Correct Ans : D

Q.No: 170 The number of pupils of a class is 55. The ratio of the number of male pupils to the number of female pupils is 5 : 6. The number of female pupils is-
2421850

किसी कक्षा में छात्रों की संख्या 55 है। छात्र और छात्राओं के बीच 5 : 6 का अनुपात है। छात्राओं की संख्या बताइए?

11

A

11

25

B

25

30

C

30

35

D

35

Correct Ans : C

Q.No: 171 782 is divided into 3 parts in the ratio $\frac{1}{2} : \frac{2}{3} : \frac{3}{4}$, then the first part is -
2421854

रु. 782 की राशि का तीन भागों में $\frac{1}{2} : \frac{2}{3} : \frac{3}{4}$ के अनुपात में विभक्त किया जाता है तो पहला भाग क्या होगा?

182

A

182

204

B

204

C

190

190

196

D

196

Correct Ans : B

Q.No: 172 The average age of x boys and y girls is p . If the average age of boys is r , then the average age of girls is:
2421890

x लड़के तथा y लड़कियों की औसत उम्र p है। यदि लड़कों की औसत उम्र r हो, तो लड़कियों की औसत उम्र है:

A $p + \frac{x^2(r-p)}{y}$ year

$p + \frac{x^2(r-p)}{y}$ वर्ष

B $p - \frac{x^3(r-p)}{y}$ year

$p - \frac{x^3(r-p)}{y}$ वर्ष

C $p - \frac{x^4(p-r)}{y}$ year

$p - \frac{x^4(p-r)}{y}$ वर्ष

D $p + \frac{x(p-r)}{y}$ year

$p + \frac{x(p-r)}{y}$ वर्ष

Correct Ans : D

Q.No: 173 How many liters of water should be added to a 30 litre mixture of milk and water containing milk and water in the ratio of 7 : 3 such that the resultant mixture has 40% water in it?
2421950

7 : 3 के अनुपात में दूध और पानी के 30 लीटर मिश्रण में कितने लीटर पानी को मिलाया जाना चाहिए ताकि परिणामी मिश्रण में 40% पानी हो जाय?

5 litres

A

5 लीटर

2 litres

B

2 लीटर

3 litres

C

3 लीटर

8 litres

D

8 लीटर

Correct Ans : A

Q.No: 174 A goods train takes 18 seconds to pass through a platform from 162 m long and 15 seconds to pass through another platform 120m long. The length of the goods train is:
2421990

एक माल गाड़ी 162 मीटर लम्बे प्लेटफॉर्म को पार करने में 18 सेकेण्ड तथा 120 मीटर लम्बे प्लेटफॉर्म को पार करने में 15 सेकेण्ड का समय लेती है। बताये माल गाड़ी की लम्बाई (मी.) में कितनी है।

60

A

60

75

B

75

90

C

90

D **105****105**

Correct Ans : C

Q.No: 175 X, Y & Z can do a work in 30, 40 & 60 days. X work for whole time, every second day Y & Z together work with X. The whole work goes in this way. In how many days?

2422024

X, Y व X किसी काम को 30, 40 व 60 दिनों में कर सकते हैं। X पूरे समय के लिए काम करता है। Y व Z प्रत्येक दूसरे दिन X के साथ काम करते हैं। इसी प्रकार काम जारी रहता है। पूरा काम कितने दिनों में समाप्त

$16\frac{1}{4}$ days

A

$16\frac{1}{4}$ दिन

$18\frac{3}{4}$ days

B

$18\frac{3}{4}$ दिन

$17\frac{1}{2}$ days

C

$17\frac{1}{2}$ दिन

$18\frac{2}{3}$ days

D

$18\frac{2}{3}$ दिन

Correct Ans : B

Q.No: 176 निम्नलिखित में से कौन-सा शब्द द्विगु समास का सही उदाहरण है?

A **सीताराम**

B सपत्नीक

C **अठकोना**

D कलहप्रिय

Correct Ans : C

Q.No: 177 निम्नलिखित में से "अध्यापिका" शब्द में कौन-सा प्रत्यय है?

A **का**

B अध्यापक

C **इका**

D अधि

Correct Ans : C

Q.No: 178 निम्नलिखित में से कौन-सा शब्द "इक" प्रत्यय से नहीं बना है?

A **भौमिक**

B सामाजिक

C **मौखिक**

D लेखक

Correct Ans : D

Q.No: 179 निम्नलिखित विकल्पों में से किस विकल्प में सभी शब्द समूहवाचक संज्ञाएँ हैं?

A **सेना, अच्छा, मानव**

B कक्षा, सोना, राम

C **सभा, निकटता, पढ़ाई**

D सेना, कक्षा, सभा

Correct Ans : D

Q.No: 180 निम्नलिखित में से कौन-सा वाक्य निश्चयवाचक सर्वनाम का सही उदाहरण है?

- A जो कहा गया वही करो।
 B ये भ्रष्टाचार के प्रबल विरोधी है।
 C अजय कुछ लाया था।
 D मैं तो अपने आप ही जाता था।

Correct Ans : B

Q.No: 181 निम्नलिखित में से "नीलकमल" का पर्यायवाची शब्द क्या है?

- A स्थिर
 B मिति
 C सैरन्ध्री
 D इंदीवर

Correct Ans : D

Q.No: 182 निम्नलिखित में से "आकुंचन" का विलोम शब्द क्या है?

- A प्रसारण
 B विकलन
 C परलोक
 D उधर

Correct Ans : A

Q.No: 183 निम्नलिखित में से शब्द-युग्म "मनोज-मनोज्ञ" के सही अर्थ भेद का चयन कीजिए-

- A कामदेव- सुन्दर
 B गढ़ - वैभव
 C सुन्दर- काव्य
 D नाम - सखी

Correct Ans : A

Q.No: 184 निम्न प्रश्न में अनेकार्थी शब्द दिए गए हैं। एक अर्थ शब्द के साथ ही लिखा है, दूसरा अर्थ बताइए-

अज-अजन्मा

- A कृतार्थ
 B केतु
 C द्विज
 D कामदेव

Correct Ans : D

Q.No: 185 निम्नलिखित में से शुद्ध वर्तनी वाले शब्द का चयन कीजिए-

- A सुश्रूषा
 B उपलक्ष्य
 C हितेशी
 D श्रीमति

Correct Ans : B

Q.No: 186 निम्नलिखित में से अशुद्ध वर्तनी वाले शब्द का चयन कीजिए-

- A बाल्मीकी
 B चिकित्सा
 C उल्लेखनीय
 D सुशोभित

Correct Ans : A

Q.No: 187 निम्नलिखित में से असंगत/बेमेल शब्द का चयन कीजिए-

- A सिंहासन
 B तखता
 C राजगद्दी
 D तख्त

Correct Ans : B

Q.No: 188 निम्नलिखित में से "कुरुक्षेत्र" के रचनाकार कौन है?

- A केशवदास
- B रामचन्द्र शुक्ल
- C राजेन्द्र प्रसाद
- D रामधारी सिंह दिनकर

Correct Ans : D

Q.No: 189 निम्नलिखित में से स्त्रीलिंग शब्द का चयन कीजिए-

- A कंठ
- B पीठ
- C टखना
- D पेट

Correct Ans : B

Q.No: 190 निम्नलिखित में से नित्य पुल्लिंग शब्द का चयन कीजिए-

- A वेणी
- B खग
- C चोटी
- D मैना

Correct Ans : B

Q.No: 191 निम्न में से किस वाक्य में क्रिया सामान्य भूतकाल में है?

- A उसने पुस्तक को पूर्ण रूप से पढ़ लिया था।
- B उसने पुस्तक पढ़ी ही नहीं थी।
- C उसने पुस्तक पढ़ी होगी।
- D उसने पुस्तक पढ़ी।

Correct Ans : D

Q.No: 192 सालिक अनुभाव की संख्या कितनी है?

- A 11
- B 8
- C 4
- D 33

Correct Ans : B

Q.No: 193 निम्नलिखित में से शृंगार रस के दो भेद बताइए-

- A संचारी भाव एवं असूया
- B उद्दीपन एवं विभाव
- C संयोग एवं वियोग
- D स्थायी भाव एवं आलम्बन

Correct Ans : C

Q.No: 194 निम्नलिखित में से कर्मवाच्य का वाक्य बताइए-

- A आओ, चला जाए।
- B पक्षियों द्वारा आकाश में उड़ा जाता है।
- C रोगी रातभर सो न सका।
- D भिखारी से रातभर सोया न जा सका।

Correct Ans : B

Q.No: 195 "जैसे ही सूर्योदय हुआ, वैसे ही कुहासा जाता रहा।" वाक्य में आश्रित उपवाक्य क्या है?

- A जैसे, वैसे
- B ही सूर्योदय हुआ
- C जैसे ही सूर्योदय हुआ
- D

Correct Ans: ही कहासा जाता रहा

Q.No: 196 निर्देश: नीचे दिये गये प्रश्न को चार भागो मे बाँटा गया है (A), (B), (C) और (D) क्रमांक दिए गए है। आपको यह देखना है कि वाक्य के किस भाग में व्याकरण, भाषा, वर्तनी, शब्दों के गलत प्रयोग या इसी तरह व उस भाग का क्रमांक ही आपका उत्तर है। यदि वाक्य त्रुटिरहित है तो कोई त्रुटि नहीं का चयन करें-

स्टेशन पर उतरते ही/(A)आकाश ने इस प्रकार देखा /(B)मानो कोई उसे लेने गया हो/(C)कोई त्रुटि नहीं (D)

- A **A**
B **B**
C **C**
D **कोई त्रुटि नहीं**

Correct Ans : C

Q.No: 197 निम्नलिखित में से शुद्ध वाक्य का चयन कीजिए-

- A **जब मैं पढ़ता हूँ जभी ही तुम आ जाते हो।**
B **यदि वह आता तब मैं जाता।**
C **वह आ जाए तो कैसी रहेगी।**
D **विशाल की सौभाग्यकांक्षिणी कन्या का विवाह कल होगा।**

Correct Ans : D

Q.No: 198 जब दो संयुक्त क्रियाएँ एक साथ प्रयुक्त हों तो _____ चिन्ह का प्रयोग किया जाता है।

- A **योजक चिन्ह**
B **अवतरण चिन्ह**
C **लाघवविराम चिन्ह**
D **अल्पविराम चिन्ह**

Correct Ans : A

Q.No: 199 निम्नलिखित में से मुहावरा "ढाई दिन की बादशाहत" का क्या अर्थ है?

- A **सस्ते में काम करना।**
B **पृथकता की बात करना।**
C **किसी को मूर्ख बनाने के लिए पाखण्ड करना।**
D **थोड़े समय के लिए पूर्ण अधिकार मिलना।**

Correct Ans : D

Q.No: 200 निम्नलिखित में से लोकोक्ति "अपना रख पराया चख" का क्या अर्थ है?

- A **धनी व्यक्ति के सब मित्र होते हैं।**
B **निजी वस्तु की रक्षा एवं अन्य वस्तु का उपभोग।**
C **दिखावटी ठाट-वाट परन्तु वास्तविकता में कुछ भी नहीं।**
D **गुण की कदर गुणवानों बीच ही होती है।**

Correct Ans : B

[Print](#)

Testdate

19 Dec 2021 ▾

TestSlot

Shift 2 ▾

 Q.No: 1 Which of the following is NOT situated in the Vellore Fort?
2419231

निम्नलिखित में से कौन वेल्लोर किले में स्थित नहीं है?

A temple

A

एक मंदिर

A mosque

B

एक मस्जिद

A church

C

एक चर्च

A Buddhist monastery

D

एक बौद्ध मठ

Correct Ans : D

 Q.No: 2 The Rathwa Ni Gher is a traditional dance in the state of -
2419241

राठवा नी घेर, _____ राज्य का एक पारंपरिक नृत्य है -

Karnataka

A

कर्नाटक

West Bengal

B

पश्चिम बंगाल

Gujarat

C

गुजरात

Telangana

D

तेलंगाना

Correct Ans : C

 Q.No: 3 Which of the following dances is popularly known as Gotipua dance?
2419246

निम्नलिखित में से किस नृत्य को गोटीपुआ नृत्य के नाम से जाना जाता है?

Bandha Nritya

A

बंध नृत्य

Lavani

B

लवनी

Bhangra

C

भंगड़ा

D **Lamban Nritya**

लम्बान नृत्य

Correct Ans : **A**

Q.No: 4 Prime Minister Rozgar Yozana was started in which of the following years?
2419313

निम्नलिखित में से किस वर्ष में प्रधान मंत्री रोजगार योजना शुरू की गई थी?

1988

A

1988

1993

B

1993

1998

C

1998

2002

D

2002

Correct Ans : **B**

Q.No: 5 Raw materials and money in hand are a form of which of the following?
2419320

कच्चा माल और नकद पैसा निम्नलिखित में से किसका एक रूप है?

Fixed Capital

A

अचल पूंजी

Working Capital

B

कार्यशील पूंजी

Human Resource

C

मानवीय संसाधन

Depreciating assets

D

मूल्यह्रास संपत्ति

Correct Ans : **B**

Q.No: 6 Buffer Stock is the stock of food grains, namely wheat and rice, procured by the government through which of the following?
2419335

बफर स्टॉक निम्नलिखित में से किसके माध्यम से सरकार द्वारा खरीदे गए खाद्यान्न, अर्थात् गेहूं और चावल का भंडार है?

The Food Safety and Standard Authority of India

A

भारतीय खाद्य सुरक्षा और मानक प्राधिकरण

Food Corporation of India

B

भारतीय खाद्य निगम

Food and Health Safety Corporation

C

खाद्य और स्वास्थ्य सुरक्षा निगम

National Health Commission

D

राष्ट्रीय स्वास्थ्य आयोग

Correct Ans : **B**

Q.No: 7 National Food Security Act was passed in which of the following years?

2419337

राष्ट्रीय खाद्य सुरक्षा अधिनियम निम्नलिखित में से किस वर्ष में पारित किया गया था?

2009

A

2009

2011

B

2011

2013

C

2013

2015

D

2015

Correct Ans : C

Q.No: 8 In Australian Football, how many players play for a side at one time?

2419382

ऑस्ट्रेलियन फुटबॉल में, एक समय में कितने खिलाड़ी एक पक्ष के लिए खेलते हैं?

11

A

11

14

B

14

18

C

18

21

D

21

Correct Ans : C

Q.No: 9 Harold Bird is a renowned name in the world of Cricket as a/an -

2419400

हेरोल्ड बर्ड, क्रिकेट की दुनिया में किस रूप में एक प्रसिद्ध नाम है?

Left hand batsman

A

बाएं हाथ के बल्लेबाज

Left hand bowler

B

बाएं हाथ के गेंदबाज

Wicketkeeper-batsman

C

विकेटकीपर-बल्लेबाज

Umpire

D

अंपायर

Correct Ans : D

Q.No: 10 Mo Salah as of November 2021, plays for which of the following football-clubs?

2419423

मो सलाह नवंबर 2021 तक, निम्नलिखित में से किस फुटबॉल-क्लब के लिए खेलते हैं?

Manchester United

A

मैनचेस्टर यूनाइटेड

Liverpool FC

B

लिवरपूल एफ.सी.

Manchester City FC

C

मैनचेस्टर सिटी एफ.सी.

Arsenal FC

D

आर्सेनल एफ.सी.

Correct Ans : B

Q.No: 11 The shape of the earth is known as which of the following?

2419466

पृथ्वी की आकृति को निम्नलिखित में से किस नाम से जाना जाता है?

Spherical

A

गोलाकार

Cylindrical

B

बेलनाकार

Hemispherical

C

अर्धगोल

Geoid

D

भू-आभ

Correct Ans : D

Q.No: 12 All India Muslim League was formed at Dacca in which of the following years?

2419567

निम्नलिखित में से किस वर्ष में ढाका में अखिल भारतीय मुस्लिम लीग का गठन किया गया था?

1905

A

1905

1906

B

1906

1908

C

1908

1911

D

1911

Correct Ans : B

Q.No: 13 Arya Samaj was founded by who among the following?

2419571

आर्य समाज की स्थापना निम्नलिखित में से किसके द्वारा की गई थी?

Raja Ram Mohun Roy

A

राजा राम मोहन राय

B **Ishwarchandra Vidyasagar**

ईश्वरचंद्र विद्यासागर

Veerasalingam Pantulu

C

वीरसलिंगम पंतुलु

Swami Dayanand Saraswati

D

स्वामी दयानंद सरस्वती

Correct Ans : D

Q.No: 14 Which celebrated poet compiled Sri Krishna Vijaya and was granted the title of Gunaraja Khan?

2419587

किस प्रसिद्ध कवि ने श्री कृष्ण विजय का संकलन किया और उन्हें गुणराज खान की उपाधि दी गई?

Brhaspati Mishra

A

बृहस्पति मिश्रा

Krttivas

B

कृतिवास

Kuladhar

C

कुलधारी

Maladhar Basu

D

मालाधर बसु

Correct Ans : D

Q.No: 15 Who is the author of the novel "A Passage to India"?

2419637

"ए पैसेज टू इंडिया" उपन्यास के लेखक कौन हैं?

Nirad C. Chaudhary

A

नीरद सी. चौधरी

E. M. Forster

B

ई. एम. फोर्स्टर

James Ivory

C

जेम्स आइवरी

Ismail Merchant

D

इस्माइल मर्चेन्ट

Correct Ans : B

Q.No: 16 Who is the author of the book "Interpreter of Maladies"?

2419647

"इंटरप्रेटर ऑफ मैलाडीज" पुस्तक के लेखक कौन हैं?

Jhumpa Lahiri

A

झुम्पा लाहिरी

Mira Nair

B

मीरा नायर

C

Kiran Desai

किरण देसाई

Arundhati Roy

D

अरुंधति रॉय

Correct Ans : **A**

Q.No: 17 Who is the author of the book "And Then One Day: A Memoir"?

2419648

"एंड देन वन डे: ए मेमोयर" पुस्तक के लेखक कौन हैं?

Om Puri

A

ओम पुरी

Naseeruddin Shah

B

नसीरुद्दीन शाह

Paresh Rawal

C

परेश रावल

Anupam Kher

D

अनुपम खेर

Correct Ans : **B**

Q.No: 18 In which of the following years, the President appointed two additional election commissioners with the Chief Election Commissioner?

2419728

निम्नलिखित में से किस वर्ष में, राष्ट्रपति ने मुख्य चुनाव आयुक्त के साथ दो अतिरिक्त चुनाव आयुक्तों की नियुक्ति की?

1957

A

1957**1964**

B

1964**1978**

C

1978**1989**

D

1989Correct Ans : **D**

Q.No: 19 The Union Public Service Commission is which of the following kind of body?

2419732

संघ लोक सेवा आयोग निम्नलिखित में से किस प्रकार का निकाय है?

Statutory Body

A

सांविधिक निकाय

Executive Body

B

कार्यकारिणी निकाय

Constitutional Body

C

संवैधानिक निकाय

D

Think Tank

प्रबुद्ध मंडल

Correct Ans : C

Q.No: 20 How many members does the President nominate to the Rajya Sabha?
2419747

राष्ट्रपति राज्यसभा के लिए कितने सदस्यों को मनोनीत करते हैं?

8

A

8

12

B

12

20

C

20

22

D

22

Correct Ans : B

Q.No: 21 Who established an independent Kingdom of Malwa, with his capital at Dhar?
2419915

धार में अपनी राजधानी के साथ, मालवा के एक स्वतंत्र राज्य की स्थापना किसने की?

Dilawar Khan Ghori (Ghuri)

A

दिलावर खान गोरी (घुरी)

Khair Andesh Khan

B

खैर अंदेश खान

Kilich Khan

C

किलिच खान

Munim Khan

D

मुनीम खान

Correct Ans : A

Q.No: 22 In which year was Madhav Rao Scindia born?
2419933

माधव राव सिंधिया का जन्म किस वर्ष हुआ था?

1945

A

1945

1948

B

1948

1951

C

1951

1954

D

1954

Correct Ans : A

Q.No: 23 How many times did Atal Bihari Vajpayee become the Prime Minister of India?

2419938

अटल बिहारी वाजपेयी कितनी बार भारत के प्रधानमंत्री बने?

1 time

A

1 बार

2 times

B

2 बार

3 times

C

3 बार

4 times

D

4 बार

Correct Ans : **B**

Q.No: 24 Which of the following tourist-spots is also known as the 'mini-Kashmir of Madhya Pradesh'?

2419997

निम्नलिखित में से किस पर्यटन स्थल को 'मध्य प्रदेश का मिनी कश्मीर' भी कहा जाता है?

Chidikho Narsingharh

A

चिड़ीखो नरसिंहगढ़

Patalpani

B

पातालपानी

Chidiya Bhadak

C

चिड़िया भदकी

Ginnorgarh

D

गिन्नोरगढ़

Correct Ans : **A**

Q.No: 25 Where was the M. P. State Shooting Academy established in the year 2007?

2420008

म.प्र. राज्य निशानेबाजी अकादमी की स्थापना वर्ष 2007 में कहीं की गई थी?

Guna

A

गुना

Mhow

B

महू

Chhindwara

C

छिंदवाड़ा

Bhopal

D

भोपाल

Correct Ans : **D**

Q.No: 26 In the following question, a part of the sentence may have an error. Find out which part of the sentence has an error and select the appropriate option. If a sentence i

Brazilian scientists say that the administration's promotion of rumours have made things worse.

A **No error**

B **administration's promotion of**

C **rumours have made things worse.**

Brazilian scientists say that the

D **Brazilian scientists say that the**

Correct Ans : C

Q.No: 27 In the following question, a part of the sentence may have an error. Find out which part of the sentence has an error and select the appropriate option. If a sentence i

I clicked some excellent picture with a new camera after visiting Lucknow, known as the city of Nawabs.

A **I clicked some excellent picture with a**

B **new camera after visiting Lucknow,**

C **known as the city of Nawabs.**

D **No error**

Correct Ans : A

Q.No: 28 In the following question, a part of the sentence may have an error. Find out which part of the sentence has an error and select the appropriate option. If a sentence i

The restaurant's new owners have created an welcoming ambience.

A **The restaurant's new owners**

B **have created an**

C **welcoming ambience.**

D **No error.**

Correct Ans : B

Q.No: 29 Select the most appropriate option to substitute the bracket segment in the given sentence. If no substitution is required, select No improvement.

What are you looking (upon) in the dark?

A **over**

B **after**

C **for**

D **No improvement**

Correct Ans : C

Q.No: 30 Select the most appropriate option to substitute the bracket segment in the given sentence. If no substitution is required, select No improvement.

The lady (laid out) a special dinner for her husband on his birthday.

A **laid**

B **laid up**

C **laid by**

D **No improvement**

Correct Ans : D

Q.No: 31 Select the most appropriate option to substitute the bracket segment in the given sentence. If no substitution is required, select No improvement.

Another question (we often ask) in those days was whether people believed in God or not.

A **we will often ask**

B **we are often asking**

C **we often asked**

D **No improvement**

Correct Ans : C

Q.No: 32 Out of the given options, choose the one which is the correct active voice of the sentence given below.

The firewood is being cut by the Labourers.

A **The Labourers is cutting the firewood.**

B **The Labourers are cutting the firewood.**

C **The Labourers have been cutting the firewood.**

D **The Labourers have cut the firewood.**

Correct Ans : B

Q.No: 33 In the question a sentence has been given in Active/Passive Voice. Out of the four alternative suggested below, select the one which best expresses the same sentenc

I expect you to complete this work before sunset.

- A **I expect you to be completed this work before sunset.**
- B **I am expected you to complete this work before sunset**
- C **You are expected to complete this work before sunset**
- D **You are expected to be completed this work before sunset**

Correct Ans : C

Q.No: 34 In the following question, a sentence has been given in Active/Passive Voice. Out of the four alternatives suggested, select the one which best expresses the same ser

Roma is starting her business.

- A **Roma's business is to be started by her.**
- B **Her business is being started by Roma.**
- C **Her business is being started with Roma.**
- D **Her business is started by Roma.**

Correct Ans : B

Q.No: 35 A sentence has been given in Active/ Passive Voice. Out of the four alternatives suggested, select the one which best expresses the same sentence in Passive/Active V

How have they written the exam?

- A **How has the exam been written by them?**
- B **How is the exam being written by them?**
- C **How will the exam be written by them?**
- D **How have the exam been written by them?**

Correct Ans : A

Q.No: 36 Out of the given options, choose the most appropriate word/set of words to fill in the blank.

The boy _____ by a dog.

- A **was bitten**
- B **were bite**
- C **were bit**
- D **were bitten**

Correct Ans : A

Q.No: 37 Out of the given options, choose the most appropriate word/set of words to fill in the blank.

Scooby _____ all the biscuits.

- A **has eaten**
- B **have eat**
- C **have ate**
- D **has eat**

Correct Ans : A

Q.No: 38 Out of the given options, choose the most appropriate word/set of words to fill in the blank.

The creaking door _____ the dog.

- A **awakened**
- B **have awakened**
- C **have awaken**
- D **has awaken**

Correct Ans : A

Q.No: 39 Out of the given options, choose the most appropriate word/set of words to fill in the blank.

The baby still _____ from a bottle.

- A **drinks**
- B **have drink**
- C **have drank**
- D **has drink**

Correct Ans : A

Q.No: 40 Select the most appropriate option to fill in the blanks.

She warned against jumping to _____ until more is known about the situation.

- A **depletions**
- B **beseeches**
- C **entourages**
- D **conclusions**

Correct Ans : **D**

Q.No: 41 Select the most appropriate option to fill in the blanks.

These inscriptions are an _____ source of evidence for the present study.

- A **fanciful**
- B **sadistic**
- C **invaluable**
- D **acerbic**

Correct Ans : **C**

Q.No: 42 Select the most appropriate option to fill in the blanks.

It is no use _____ over your past mistakes and failures.

- A **creating**
- B **brooding**
- C **tempting**
- D **tailoring**

Correct Ans : **B**

Q.No: 43 Select the most appropriate option to fill in the blanks.

The government has promised to _____ more on health and education.

- A **purchase**
- B **selling**
- C **spend**
- D **affect**

Correct Ans : **C**

Q.No: 44 Select the most appropriate option to fill in the blanks.

The mystery behind the extinction of the dinosaurs _____ obscure.

- A **is still**
- B **be still**
- C **are still**
- D **being still**

Correct Ans : **A**

Q.No: 45 Select the most appropriate option to fill in the blanks.

The court refused to accept his statement unless he presented _____ in the form of an affidavit.

- A **them**
- B **him**
- C **it**
- D **her**

Correct Ans : **C**

Q.No: 46 Select the most appropriate option to fill in the blanks.

Serotonin has an active role in the production of melatonin, _____ regulates our sleeping patterns.

- A **who**
- B **which**
- C **whom**

D **whose**

Correct Ans : **B**

Q.No: 47 The question below consists of a set of labelled sentences. These sentences, when properly sequenced, form a coherent paragraph. Select the most logical order of th

P. He could get it neither up nor down, and of course he could not eat a thing.

Q. A Wolf had been feasting too greedily, and a bone had stuck crosswise in his throat.

R. Naturally, that was an awful state of affairs for a greedy Wolf.

A **QPR**

B **PQR**

C **RQP**

D **RPQ**

Correct Ans : **A**

Q.No: 48 The question below consists of a set of labelled sentences. These sentences, when properly sequenced form a coherent paragraph. Select the most logical order of the

A. In addition to directing many of his own star vehicles, Eastwood has also directed films in which he did not appear.

B. Clinton Eastwood is an American actor, film director, composer, and producer.

C. For most of them, Eastwood has received Academy Award nominations.

D. After achieving success back then in the Western TV series Rawhide, he rose to international fame with his role as the "Man with No Name".

A **DCAB**

B **BDAC**

C **ADCB**

D **DCBA**

Correct Ans : **B**

Q.No: 49 Select the antonym for the given word.

SQUANDER

A **Confine**

B **Persecute**

C **Posit**

D **Save**

Correct Ans : **D**

Q.No: 50 Select the CORRECTLY spelt word.

A **Independent**

B **Irresistable**

C **Indispansible**

D **Intelligence**

Correct Ans : **A**

Q.No: 51 In which of the following is convex mirror used?

2420202

निम्नलिखित में से किसमें उत्तल दर्पण का प्रयोग किया जाता है?

Torches

A

मशालें

Dentists' mirrors

B

दंत चिकित्सकों के दर्पण

Security mirrors in ATMs and malls

C

एटीएम और मॉल में सुरक्षा दर्पण

Reflecting telescopes

D

दूरबीनों को प्रतिबिंबित करना

Correct Ans : C

Q.No: 52 Frictional force does not depend on which of the following?

2420212

निम्नलिखित में से किस पर घर्षण बल निर्भर नहीं करता है?

Nature of the two surfaces in contact.

A

संपर्क में दो सतहों की प्रकृति।

Area of the two surfaces in contact.

B

संपर्क में दो सतहों का क्षेत्रफल।

Normal Reaction on the surface

C

सतह पर सामान्य प्रतिक्रिया

Mass of the object

D

वस्तु का द्रव्यमान

Correct Ans : B

Q.No: 53 Which of the following represents the critical angle of a medium(θ_c), for light going from any medium to the air? (Given $\mu_2 = 1$ and $\mu_1 = \mu$)

2420223

निम्न में से कौन माध्यम से हवा में जाने वाले प्रकाश के लिए उस माध्यम के क्रांतिक कोण (θ_c) का प्रतिनिधित्व करता है? (दिया गया है $\mu_2 = 1$ और $\mu_1 = \mu$)

$$\theta_c = \cos^{-1}\mu$$

A

$$\theta_c = \cos^{-1}\mu$$

$$\theta_c = \sin^{-1}\left(\frac{1}{\mu}\right)$$

B

$$\theta_c = \sin^{-1}\left(\frac{1}{\mu}\right)$$

$$\theta_c = \tan^{-1}\left(\frac{1}{\mu}\right)$$

C

$$\theta_c = \tan^{-1}\left(\frac{1}{\mu}\right)$$

$$\theta_c = \tan(\mu)$$

D

$$\theta_c = \tan(\mu)$$

Correct Ans : B

Q.No: 54 Which of the following statements is not correct?

2420229

निम्नलिखित में से कौन सा कथन सही नहीं है?

The intermolecular forces are less in liquids in comparison to solids.

A

ठोस की तुलना में तरल पदार्थों में अंतर-आणविक बल कम होते हैं।

Gas can be compressed much more easily than a liquid.

B

तरल की तुलना में गैस को अधिक आसानी से संपीड़ित किया जा सकता है।

A liquid has no definite Volume.

C

द्रव का कोई निश्चित आयतन नहीं होता है।

D **Gas has no definite Volume.**

गैस का कोई निश्चित आयतन नहीं होता है।

Correct Ans : C

Q.No: 55 If a body A exerts a force \vec{F} on another body B, then which of the following is not correct?
2420233

यदि एक पिंड A दूसरे पिंड B पर \vec{F} बल लगाता है, तो निम्नलिखित में से कौन सा सही नहीं है?

B exerts a force \vec{F} on A.

A

B, A पर बल \vec{F} लगाता है।

B exerts a force $-\vec{F}$ on A.

B

B, A पर एक बल $-\vec{F}$ लगाता है।

The two forces act along the line joining the bodies.

C

दोनों बल पिंडों को मिलाने वाली रेखा के अनुदिश कार्य करते हैं।

Magnitude of force on both body is equal.

D

दोनों शरीर पर बल का परिमाण बराबर है।

Correct Ans : A

Q.No: 56 Which of the following gases causes the effervescence that is released when we open a soft drink bottle?
2420374

निम्न में से कौन सी गैस शीतल पेय की बोतल खोलने पर निकलने वाली बुदबुदाहट का कारण बनती है?

Nitrogen

A

नाइट्रोजन

Oxygen

B

ऑक्सीजन

Carbon dioxide

C

कार्बन डाइऑक्साइड

Hydrogen

D

हाइड्रोजन

Correct Ans : C

Q.No: 57 Carbonic Acid is formed when Carbon dioxide is dissolved in which of the following?
2420381

कार्बन डाइऑक्साइड निम्नलिखित में से किसमें घुलने पर कार्बोनिक एसिड बनता है?

Water

A

पानी

Milk

B

दूध

Kerosine

C

मिट्टी का तेल

D

Vegetable Oil

वनस्पति तेल

Correct Ans : A

Q.No: 58 Which of the following feed on dead and decaying matter?
2420390

निम्नलिखित में से कौन मृत और क्षयकारी पदार्थ खाता है?

Autotrophs,

A

स्वपोषी

Heterotrophs

B

परपोषी

Saprotrophs

C

मृतपोषी

Chemotrophs

D

रसोपोषी

Correct Ans : C

Q.No: 59 Which of the following is a Primary Carnivore?
2420393

निम्नलिखित में से कौन प्राथमिक मांसभक्षी है?

Frog

A

मेढक

Tiger

B

बाघ

Sheep

C

भेड़

Polar Bear

D

ध्रुवीय भालू

Correct Ans : A

Q.No: 60 What is the nature of the energy flow in a food chain?
2420394

खाद्य श्रृंखला में ऊर्जा प्रवाह की प्रकृति क्या है?

Unidirectional

A

एकल-दिशात्मक

Bidirectional

B

द्वि-दिशात्मक

Multidirectional

C

बहु दिशात्मक

Cyclic

D

चक्रीय

Correct Ans : A

Q.No: 61 Congenital diseases are those disorders which are acquired at -

2420510

जन्मजात रोग, वे विकार हैं जो _____ में प्राप्त होते हैं -

Birth

A

जन्म

Age of 5

B

5 की आयु

Puberty

C

पौवन

Adulthood

D

वयस्कता

Correct Ans : **A**

Q.No: 62 The H5N1 virus is also known as the -

2420519

H5N1 वायरस, _____ के रूप में भी जाना जाता है -

Swine flu virus

A

स्वाइन फ्लू वायरस

Bird flu virus

B

बर्ड फ्लू वायरस

Zika virus

C

जीका वायरस

Ebola virus

D

इबोला वायरस

Correct Ans : **B**

Q.No: 63 Which of the following options is incorrectly matched with the name of the vaccines and the disease that they prevent?

2420522

निम्नलिखित में से कौन सा विकल्प टीकों के नाम और उनके द्वारा रोके जाने वाले रोग के साथ गलत सुमेलित है?

BCG - Tuberculosis

A

बी.सी.जी. - क्षय रोग

DTP - Pertussis

B

डी.टी.पी. - पर्टुसिस

MMR - Rubella

C

एम.एम.आर. - रूबेला

HiB - Mumps

D

हिब (HiB) - मम्स

Correct Ans : **D**

Q.No: 64 Which of the following diseases is also known as the "Black fever"?

2420537

निम्नलिखित में से किस रोग को "काला बुखार" के नाम से भी जाना जाता है?

A

Pneumonia

निमोनिया

Flu

B

फ्लू

Kala-azar

C

काला-अजार

Tuberculosis

D

तपेदिक

Correct Ans : C

Q.No: 65 Which of the following diseases is caused by bacteria?

2420538

निम्नलिखित में से कौन-सा रोग जीवाणु से होता है?

Influenza

A

इन्फ्लुएंजा

Anthrax

B

एंथ्रेक्स

Herpes

C

हरपीज

Chickenpox

D

चिकनपाँक्स

Correct Ans : B

Q.No: 66 When we keep an iron nail dipped in a copper sulphate solution for some time, then what coloured deposit is found on the iron-nail?

2420657

जब हम किसी लोहे की कील को कॉपर सल्फेट के विलयन में डुबोकर कुछ समय के लिए रखते हैं, तो लोहे की कील पर किस रंग का जमाव पाया जाता है?

Yellow

A

पीला

Silver

B

चांदी

Brown

C

भूरा

Orange

D

नारंगी

Correct Ans : C

Q.No: 67 The word "polymer" comes from two _____ words.

2420662

शब्द "बहुलक" दो _____ शब्दों से बना है।

Latin

A

लैटिन

B

Greek

ग्रीक

Roman

C

रोमन

French

D

फ्रेंच

Correct Ans : **B**

Q.No: 68 What is the full-form of PET?

2420667

पीईटी का पूर्ण रूप क्या है?

Polyethene terephthalate

A

पॉलीथीन टेट्राथैलेट

Polyethylene tetrathalate

B

पॉलीथीन टेट्राथैलेट

Polyethylene terephthalate

C

पॉलीथीन टेट्राथैलेट

Polyester tetrathalate

D

पॉलिएस्टर टेट्राथैलेट

Correct Ans : **C**

Q.No: 69 Which of the following is an incorrect characteristic of plastic?

2420670

निम्नलिखित में से कौन प्लास्टिक की गलत विशेषता है?

It is generally highly reactive to air and water.

A

यह आम तौर पर हवा और पानी के लिए अत्यधिक प्रतिक्रियाशील है।

Plastic is generally Light, Strong and Durable.

B

प्लास्टिक आम तौर पर हल्का, मजबूत और टिकाऊ है।

Plastics are generally Poor Conductors.

C

प्लास्टिक आम तौर पर खराब कंडक्टर हैं।

Some plastics are not affected by the heat in a microwave oven.

D

कुछ प्लास्टिक माइक्रोवेव ओवन में गर्मी से प्रभावित नहीं होते हैं।

Correct Ans : **A**

Q.No: 70 Which of the following non-metals possess metallic lustre?

2420683

निम्नलिखित में से किस अधातु में धात्विक चमक होती है?

Iodine

A

आयोडीन

Calcium

B

कैल्शियम

Oxygen

C

ऑक्सीजन

D **Nitrogen**

नाइट्रोजन

Correct Ans : **A**

Q.No: 71 Which of the following is an example of an inexhaustible natural resource?

2420689

निम्नलिखित में से कौन एक अक्षय प्राकृतिक संसाधन का उदाहरण है?

Air

A

वायु

Forests

B

वन

Wildlife

C

वन्यजीव

Coal

D

कोयला

Correct Ans : **A**

Q.No: 72 The part of leaf by which it is attached to the stem is known as which of the following?

2420897

पत्ती का वह भाग जिससे वह तने से जुड़ा होता है, निम्नलिखित में से किसे कहते हैं?

Petiole

A

पर्णवृत्त

Lamina

B

फलक

Reticulates

C

जालिका रूपी

Veins

D

शिरा

Correct Ans : **A**

Q.No: 73 Which of the following is an example of plants which do not have chlorophyll?

2420906

निम्नलिखित में से कौन सा उन पौधों का उदाहरण है जिनमें क्लोरोफिल नहीं होता है?

Spinach

A

पालक

Broccoli

B

ब्रोकली

Dandelions

C

सिंहपर्णी

Cuscuta

D

अमरबेल

Correct Ans : **D**

Q.No: 74 The stomach is a thick-walled bag, which is shaped as which of the following?
2420909

पेट एक मोटी दीवारों वाला थैला होता है, जिसका आकार निम्न में से किसके जैसा होता है?

I shape

A

'I' की आकृति का

L shape

B

'L' की आकृति का

S shape

C

'S' की आकृति का

J shape

D

'J' की आकृति का

Correct Ans : D

Q.No: 75 The finger like projections in amoeba is known as which of the following?
2420914

अमीबा में उँगलियों के समान प्रक्षेपण को निम्नलिखित में से किस रूप में जाना जाता है?

Pseudopodium

A

प्रादाभ

Food vacuole

B

खाद्यधानी

Assimilation

C

स्वांगीकरण

Glycerol

D

ग्लिसरॉल

Correct Ans : A

Q.No: 76 To access a mainframe or supercomputer, users often use a _____.
2411557

एक मेनफ्रेम या सुपर कंप्यूटर को एक्सेस करने के लिए, यूजर अक्सर एक ----- का उपयोग करता है।

Terminal

A

टर्मिनल

node

B

नोड

desktop

C

डेस्कटॉप

Handheld

D

हैंडहेल्ड

Correct Ans : A

Q.No: 77 Which of the following is a type of URI?

2411565

निम्न में से कौन सा यूआरआई का एक प्रकार है?

URL

A

यूआरएल

USB

B

यूएसबी

UDDI

C

यूडीडीआई

UML

D

यूएमएल

Correct Ans : A

Q.No: 78 The feature that database allows to access only certain records in database is _____.

2411568

डेटाबेस की विशेषता जो, डेटाबेस में केवल कुछ रिकॉर्ड का उपयोग करने की अनुमति देती है, वह ----- होती है।

Forms

A

फॉर्म

Reports

B

रिपोर्टें

Queries

C

क्वेरी

Tables

D

टेबल

Correct Ans : C

Q.No: 79 helps create, manipulate and analyze data arranged in rows and columns?

2411583

----- पंक्तियों और स्तंभों में व्यवस्थित डेटा को क्रिएट करने, मैनिपुलेट करने और एनालाइज करने में मदद करता है।

Application Package

A

एप्लिकेशन पैकेज

Word Processing Package

B

वर्ड प्रोसेसिंग पैकेज

Outlining Package

C

आउटलाइनिंग पैकेज

Spreadsheet Package

D

स्प्रेडशीट पैकेज

Correct Ans : D

Q.No: 80 Which of the following part will hold many of the crucial components of a computer, including the central processing unit (CPU), memory and connectors for input and

2411587

निम्न में से कौन सा हिस्सा इनपुट और आउटपुट उपकरणों के लिए central processing unit (CPU), मेमोरी और कनेक्टर समेत कंप्यूटर के कई महत्वपूर्ण घटकों को रखेगा?

A

Holders

Holders**Mother Board****B****Mother Board****Main Board****C****Main Board****System Board****D****System Board**Correct Ans : **B**

Q.No: 81 In RDBMS, Data is presented as a collection of.....
2411589

RDBMS में, डेटा के संग्रह के रूप में प्रस्तुत किया जाता है।

Table**A****Table****Attributes****B****Attributes****Relations****C****Relations****Entities****D****Entities**Correct Ans : **C**

Q.No: 82 Who among the following is the chief executive officer of Infosys?
2411591

Infosys के मुख्य कार्यकारी अधिकारी निम्नलिखित में से कौन हैं?

Salil Parekh**A**

सलिल परेख

Bill Gates**B**

बिल गेट्स

Ginni Rometty**C**

गिन्नी रोमिट्टी

Satya Nadella**D**

सत्या नडेला

Correct Ans : **A**

Q.No: 83 What is the Short cut key for line break in MS Word?
2411597

MS Word में लाइन ब्रेक के लिए शॉर्ट कट कुंजी क्या है?

Ctrl + Enter**A****Ctrl + Enter****Alt + Enter****B****Alt + Enter**

C Shift + Enter

Shift + Enter

Space + Enter

D

Space + Enter

Correct Ans : C

Q.No: 84 The Artificial satellite which revolves around the earth and provide transmit information from earth is basically called _____

2411640

कृत्रिम उपग्रह जो पृथ्वी के चारों ओर घूमता है और पृथ्वी से संचार जानकारी प्रदान करता है मूल रूप से _____ कहा जाता है

Geo satellites

A

Geo satellites

Geostationary satellites

B

Geosynchronous satellites

Low Earth Orbits

C

Low Earth Orbits

Sun-Synchronous orbits

D

Sun-Synchronous orbits

Correct Ans : B

Q.No: 85 Which of following is not an Application Software?

2411644

निम्न में से कौन एक Application Software नहीं है?

Photoshop

A

Photoshop

SAGE

B

SAGE

Dreamweaver

C

Dreamweaver

WinRAR

D

WinRAR

Correct Ans : D

Q.No: 86 Which of the following extension is used to save image/jpg in the computer?

2411649

कंप्यूटर में छवि को सहेजने के लिए निम्न में से कौन सा एक्सटेंशन उपयोग किया जाता है?

.cmd

A

.cmd

.xls

B

.xls

.vlc

C

.vlc

D

.jpeg

.jpegCorrect Ans : **D**Q.No: 87 BIOS stand for?
2411663

BIOS क्या संदर्भित करता है?

Basic Input Output System**A****Basic Input Output System****Binary Input Output System****B****Binary Input Output System****Basic Input of System****C****Basic Input of System****Binary Integrated Original System****D****Binary Integrated Original System**Correct Ans : **A**Q.No: 88 ZIP stands for?
2411692

ZIP क्या दर्शाता है?

Zone information process**A****Zone information process****Zone information protocol****B****Zone information protocol****Zone interface process****C****Zone interface process****Zone interface protocol****D****Zone interface protocol**Correct Ans : **B**Q.No: 89 Which of the following represents user identity describes a situation in which one person or program successfully masquerades as another by falsifying data?
2411731

निम्नलिखित में से कौन उपयोगकर्ता पहचान का प्रतिनिधित्व करता है तथा उस परिस्थिति का वर्णन करता है जिसमें एक व्यक्ति या कार्यक्रम डेटा को गलत साबित करके किसी अन्य के रूप में सफलतापूर्वक ढोंग करता है

Authentication**A****प्रमाणीकरण****Spoofing****B****स्पूफिंग****Altering****C****अल्टेरिंग****Malpractice****D****माल्प्रैक्टिस**Correct Ans : **B**

Q.No: 90 The process of verification for 'Log-in-name' and 'Password' is-
2411852

लॉग-इन-नेम तथा 'पासवर्ड' के सत्यापन की प्रक्रिया है-

Logging in

A

लॉगिंग इन

Certification

B

सर्टिफिकेशन

Authentication

C

अथेंटिकेशन

Configuration

D

कॉन्फिगरेशन

Correct Ans : C

Q.No: 91 Which of the following is not an input device?
2411873

निम्नलिखित में से कौन इनपुट डिवाइस नहीं है?

Printer

A

प्रिंटर

Scanner

B

स्कैनर

Light Pen

C

लाइट पेन

Mouse

D

माउस

Correct Ans : A

Q.No: 92 Which of the following converts a high level language program into machine language?
2411876

निम्न में से कौन एक उच्च स्तरीय भाषा प्रोग्राम को मशीन भाषा में परिवर्तित करता है?

Assembler

A

असेंबलर

Compiler

B

कम्पाइलर

Interpreter

C

इंटरप्रेटर

Text Editor

D

टेक्स्ट एडिटर

Correct Ans : C

Q.No: 93 What is the shortcut key for Justify Alignment?
2411884

जस्टिफाय एलाइनमेंट के लिए शॉर्टकट कुंजी क्या है?

A

Ctrl + C

Ctrl + C

Ctrl + V

B

Ctrl + V

Ctrl + J

C

Ctrl + J

Ctrl + L

D

Ctrl + L

Correct Ans : C

Q.No: 94 Which of the following is not system software?

2411895

निम्नलिखित में से कौन-सा सिस्टम सॉफ्टवेयर नहीं है?

BIOS

A

BIOS

Device Drivers

B

डिवाइस ड्राइवर

Language Processor

C

लैंग्वेज प्रोसेसर

Word Processor

D

वर्ड प्रोसेसर

Correct Ans : D

Q.No: 95 What is datum in Database Management System?

2411899

डेटाबेस मैनेजमेंट सिस्टम में डेटम क्या है?

A physical Schema

A

एक भौतिक स्कीमा

A type of mapping

B

एक प्रकार की मैपिंग

A unit of data

C

डेटा की एक इकाई

A logical Schema

D

एक तार्किक स्कीमा

Correct Ans : C

Q.No: 96 What is the full-form of TCP?

2411900

TCP का पूर्ण रूप क्या है?

Transmission Computer Program

A

ट्रंसमिशन कंप्यूटर प्रोग्राम

B

Transmission Control Protocol

ट्रांसमिशन कंट्रोल प्रोटोकॉल

Transport Control Packet

C

ट्रांसपोर्ट कंट्रोल पैकेट

Transport Computer Protocol

D

ट्रांसपोर्ट कंप्यूटर प्रोटोकॉल

Correct Ans : B

Q.No: 97 While browsing ,which of the following shortcut keys is used to view the contents of website in fullscreen?
2411931

ब्राउज़िंग करते समय, निम्न में से किस शॉर्टकट कीज का उपयोग फुलस्क्रीन में वेबसाइट की कान्टेन्ट्स को देखने के लिए किया जाता है?

F10

A

F10

F9

B

F9

F8

C

F8

F11

D

F11

Correct Ans : D

Q.No: 98 Which of the following is NOT true about MS Excel?
2412198

एमएस एक्सेल के संबंध में निम्नलिखित में से कौन-सा सत्य नहीं है?

Ribbons in MS Excel are divided into logical groups called Tabs

A

एम.एस एक्सेल(MS Excel) में रिबन को तार्किक समूहों में विभाजित किया जाता है जिन्हें **Tabs** कहा जाता है।

'.xls' is the file extension of MS Excel.

B

'.xls' एम.एस एक्सेल(MS Excel) का फाइल एक्सटेंशन है।

A spreadsheet program to present and organise data in a systematic manner.

C

ऑकड़ों को व्यवस्थित तरीके से प्रस्तुत करने और व्यवस्थित करने के लिए एक स्प्रेडशीट प्रोग्राम है।

It is a software tool that makes it possible to organize data in a database

D

यह एक सॉफ्टवेयर उपकरण है जो डेटाबेस में डेटा को व्यवस्थित करना संभव बनाता है

Correct Ans : D

Q.No: 99 Which among the following act as an interface between computer hardware and user?
2412428

निम्नलिखित में से कंप्यूटर हार्डवेर्ड वेयर और यूज़र के बीच इंटरफेस के रूप में कौन कार्य करता है?

Operating System

A

ऑपरेटिंग सिस्टम

System Software

B

सिस्टम सॉफ्टवेयर

C

Microprocessor

माइक्रोप्रोसेसर

Central Processing Uni

D

सेंट्रल प्रोसेसिंग यूनिट

Correct Ans : A

Q.No: 100 In computer terminology, DNS stands for _____.

2412652

कंप्यूटर शब्दावली में, DNS का पूर्ण रूप _____ है।

Domain Name System

A

Domain Name System

Database Name System

B

Database Name System

Domain Name Servers

C

Domain Name Servers

Database Name Servers

D

Database Name Servers

Correct Ans : A

Q.No: 101 Select the term that will come next in the following series.

2417555

E, J, O T, Y, _____

उस पद का चयन करें, जो निम्नलिखित श्रृंखला में अगला आएगा।

E, J, O T, Y, _____

D

A

D

Z

B

Z

C

C

C

E

D

E

Correct Ans : A

Q.No: 102 Which of the following options will complete the given series:

2417568

jkl _ _ jkk _ lhhj _ jkk _ llh _ h

दिए गए पैटर्न में लुप्त अक्षर ज्ञात कीजिए।

jkl _ _ jkk _ lhhj _ jkk _ llh _ h

jlhkhj

A

jlhkhj

lhhhh

B

lhhhh

C

hjljkh

hjljkh

hljkhj

D

hljkhj

Correct Ans : C

Q.No: 103 Find the odd one among the following.

2417620

निम्नलिखित में से विषम ज्ञात कीजिए।

Thiruvananthapuram

A

तिरुवनंतपुरम

Hyderabad

B

हैदराबाद

Calicut

C

कालीकट

Bangalore

D

बैंगलोर

Correct Ans : C

Q.No: 104 Find the odd one among the following.

2417633

निम्नलिखित में से विषम ज्ञात कीजिए।

Aloe vera

A

एलोवेरा

Amla

B

आंवला

Neem

C

नीम

Mango

D

आम

Correct Ans : D

Q.No: 105 In the following question, select the odd letters from the given alternatives.

2417675

निम्न प्रश्न में, दिए गए विकल्पों में से विषम अक्षरों का चयन करें।

KNQ

A

KNQ**CFI**

B

CFI**TWZ**

C

TWZ**NPR**

D

NPR

Correct Ans : D

Q.No: 106 'Myopia' is related to 'eyes' in the same way as 'asthma' is related to _____?
2417708

'मायोपिया' का संबंध 'आंखों से उसी तरह है, जैसे अस्थमा' का संबंध _____ से है?

Liver

A

यकृत

Intestine

B

आंत

Heart

C

हृदय

Lungs

D

फेफड़े

Correct Ans : D

Q.No: 107 In the following question, select the related word from the given alternatives.
2417714 GRAPES : HQBOFR :: ORANGE : ?

निम्नलिखित प्रश्न में, दिए गए विकल्पों में से संबंधित शब्द का चयन करें।
GRAPES : HQBOFR :: ORANGE : ?

NSBHMD

A

NSBHMD

PQBMHD

B

PQBMHD

PSZOFZ

C

PSZOFZ

NSBMHD

D

NSBMHD

Correct Ans : B

Q.No: 108 In the following question, select the related word from the given alternatives.
2417718 ? : music :: calculator : calculation

निम्नलिखित प्रश्न में, दिए गए विकल्पों में से संबंधित शब्द का चयन करें।
? : संगीत :: कैलकुलेटर : गणना

Trumpet

A

ट्रम्पेट

Phone

B

फोन

Notebook

C

नोटबुक

Bird

D

पक्षी

Correct Ans : A

Q.No: 109 In the following question, select the related letters from the given alternatives.
 2417741 ZDSK : LEAT :: ? : WRFS

निम्न प्रश्न में, दिए गए विकल्पों में से संबंधित अक्षरों का चयन करें।
 ZDSK : LEAT :: ? : WRFS

XSTG

A

XSTG

RQEV

B

RQEV

ERVQ

C

ERVQ

EQRV

D

EQRV

Correct Ans : D

Q.No: 110 In a certain language, LAKE is coded as 121115. How will RIPE be coded in the same language?
 2417749

एक निश्चित भाषा में, LAKE को 121115 के रूप में कूटित किया गया है। RIPE को उसी भाषा में कैसे कूटित किया जाएगा?

976650

A

976650

342178

B

342178

897654

C

897654

189165

D

189165

Correct Ans : D

Q.No: 111 If in a certain code language 'HIGH' is written as '8978', then how will 'DEAF' be written in that language?
 2417753

यदि एक निश्चित कोड भाषा में 'HIGH' को '8978' लिखा जाता है, तो 'DEAF' को उस भाषा में कैसे लिखा जाएगा?
 5416

A

5416

4516

B

4516

4561

C

4561

4156

D

4156

Correct Ans : B

Q.No: 112 If 7 is coded as CBRT343, then 9 is coded as:
2417759

यदि 7 को CBRT343 के रूप में कूटित किया जाता है, तो 9 को किस प्रकार कूटित किया जाएगा?

CBRT27

A

CBRT27

CBRT81

B

CBRT81

CBRT729

C

CBRT729

CBRT6561

D

CBRT6561

Correct Ans : C

Q.No: 113 If in a certain code Language 'HONESTY' is written as '5132468' and 'POVERTY' is written as '7192068', then how will 'HORSE' be written in that language?
2417765

यदि एक निश्चित कोड भाषा में 'HONESTY' को '5132468' और 'POVERTY' को '7192068' लिखा जाता है, तो 'HORSE' को उस भाषा में कैसे लिखा जाएगा?

50124

A

50124

51042

B

51042

51024

C

51024

52914

D

52914

Correct Ans : B

Q.No: 114 From the given alternative words, select the word which cannot be formed using the letters of the given word.
2417889

ANNOUNCEMENTS

निम्नलिखित विकल्पों में से वह शब्द चुनिए जो दिए गए शब्द के अक्षरों के प्रयोग से नहीं बनाया जा सकता।

ANNOUNCEMENTS

CEMENT

A

CEMENT

NOUN

B

NOUN

COUNTER

C

COUNTER

TENSE

D

TENSE

Correct Ans : C

Q.No: 115 From the given alternative words, select the word which cannot be formed using the letters of the given word.
2417893

ADMINISTRATION

निम्नलिखित विकल्पों में से वह शब्द चुनिए जो दिए गए शब्द के अक्षरों का प्रयोग करके नहीं बनाया जा सकता।

ADMINISTRATION

STRAIN

A

STRAIN

TRADITION

B

TRADITION

SITUATION

C

SITUATION

RATION

D

RATION

Correct Ans : C

Q.No: 116 From the given alternative words, select the word which cannot be formed using the letters of the given word.

2417899

CARPENTER

निम्नलिखित विकल्पों में से वह शब्द चुनिए जो दिए गए शब्द के अक्षरों का प्रयोग करके नहीं बनाया जा सकता।

CARPENTER

NECTAR

A

NECTAR

CARPET

B

CARPET

PAINTER

C

PAINTER

REPENT

D

REPENT

Correct Ans : C

Q.No: 117 From the given alternative words, select the word which can be formed using the letters of the given word.

2417905

COMPANIONSHIP

निम्नलिखित विकल्पों में से वह शब्द चुनिए जो दिए गए शब्द के अक्षरों का प्रयोग करके बनाया जा सकता है।

COMPANIONSHIP

OPEN

A

OPEN

OPIUM

B

OPIUM

OPINION

C

OPINION

NATION

D

NATION

Correct Ans : C

Q.No: 118 Find the missing number in the series.

2417947

828, 280, 75, 21, 10.5, ?

श्रृंखला में लुप्त संख्या ज्ञात कीजिए।

828, 280, 75, 21, 10.5, ?

10

A

10

9.5

B

9.5

9

C

9

8

D

8

Correct Ans : B

Q.No: 119 In the following question select the related number from the given alternatives.

2417978

16 : 68 :: 36 : _____

दिए गए विकल्पों में से संबंधित संख्या का चयन करें।

16 : 68 :: 36 : _____

216

A

216

210

B

210

222

C

222

226

D

226

Correct Ans : C

Q.No: 120 In the following question select the related number from the given alternatives.

2417984

81 : 728 :: 144 : _____

दिए गए विकल्पों में से संबंधित संख्या का चयन करें।

81 : 728 :: 144 : _____

1727

A

1727

1330

B

1330

168

C

168

D

2196

2196

Correct Ans : A

Q.No: 121 Which two numbers should be interchanged to make the given equations correct?

2417994 $6 \times 3 - 8 \div 2 + 5 = 8 \div 2 + 3 \times 5 - 6$

निम्नलिखित समीकरणों को सही रूप से हल करने के लिए किन दो संख्याओं को एक-दूसरे के स्थान पर रखना होगा?

$$6 \times 3 - 8 \div 2 + 5 = 8 \div 2 + 3 \times 5 - 6$$

5 and 6

A

5 और 6

3 and 5

B

3 और 5

8 and 6

C

8 और 6

6 and 2

D

6 और 2

Correct Ans : A

Q.No: 122 Which two signs should be interchanged to make the following equation correct?

2417998 $7 \times 2 + 5 - 16 \div 4 = 13$

निम्नलिखित समीकरणों को सही रूप से हल करने के लिए किन दो चिह्न को आपस में बदलना होगा?

$$7 \times 2 + 5 - 16 \div 4 = 13$$

x and +

A

x और +

÷ and x

B

÷ और x

÷ and +

C

÷ और +

x and -

D

x और -

Correct Ans : A

Q.No: 123 If '+' means ÷, '÷' means -, '-' means × and × means +. What will be the value of the following expression?

2418004 $8 + 4 \div 3 \times 5 - 9 = ?$

अगर '+' का मतलब ÷, '÷' का मतलब -, '-' का मतलब × और '×' का अर्थ + हो, तो दिए गए प्रश्न का मान बताइए?

$$8 + 4 \div 3 \times 5 - 9 = ?$$

44

A

44

53

B

53

C 62

62

64

D

64

Correct Ans : A

Q.No: 124 If '+' means '÷', '-' means '×', '÷' means '+' and '×' means '-', then $36 \times 12 + 4 \div 6 + 2 - 3 = ?$

2418010

यदि '+' का अर्थ है '÷', '-' का अर्थ है '×', '÷' का अर्थ है '+' और '×' का अर्थ है '-' हो, तो $36 \times 12 + 4 \div 6 + 2 - 3 = ?$

2

A

2

6.5

B

6.5

18

C

18

42

D

42

Correct Ans : D

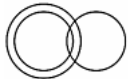
Q.No: 125 Identity the diagram that best represents the relationship among the given classes.

2418258

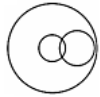
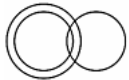
Food, Dinner, Rice

निम्न में से उस अरेख का चयन करें जो दिए गए वर्गों में उचित संबंध को दर्शाता है?

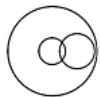
भोजन, रात्रिभोज, चावल



A



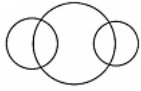
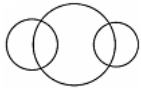
B



C



D



Correct Ans : **B**

Q.No: 126 Retirement after attaining a specific age is
2418538

एक विशिष्ट आयु के बाद होने वाली सेवा निवृत्ति

Forced retirement

A

जबरन सेवा निवृत्ति होती है

Premature retirement

B

समय पूर्व सेवा निवृत्ति होती है

Compulsory retirement

C

अनिवार्य सेवा निवृत्ति होती है

Demotion

D

पदावनति होती है

Correct Ans : **C**

Q.No: 127 In promotion seniority means
2418543

पदोन्नति में वरिष्ठता का अर्थ होता है-

Length of service

A

सेवा की अवधि

Merit

B

गुण

Age

C

आयु

Behaviour

D

व्यवहार

Correct Ans : **A**

Q.No: 128 "Earn when you learn" is related to
2418549

"सीखते हुए कमाना", किससे संबंधित है-

Induction training

A

इंडक्शन प्रशिक्षण

Refresher Course

B

रीफ्रेशर कोर्स

Apprenticeship training

C

एप्रेनटिस प्रशिक्षण

D **Internship training**

इंटरशिप प्रशिक्षण

Correct Ans : C

Q.No: 129 The industries which assembles different component parts to make a new product are known as
2418577

वे उद्योग जो विभिन्न घटक भागों को जोड़कर एक नया उत्पाद बनाते हैं, वे क्या कहलाते हैं

Analytical industry

A

विश्लेषणात्मक उद्योग

Synthetical industry

B

संश्लेषणात्मक उद्योग

Assembling industry

C

असेम्बलिंग उद्योग

Processing industry

D

प्रसंस्करण उद्योग

Correct Ans : C

Q.No: 130 Credit facilities loans and advances overdraft are generally provided by
2418582

क्रेडिट सुविधाएं, ऋण और अग्रिम ओवरड्राफ्ट आमतौर पर किसके द्वारा प्रदान किए जाते हैं?

Insurance Company

A

बीमा कंपनी

Banking

B

बैंकिंग

Transport

C

परिवहन

Communication

D

संचार

Correct Ans : B

Q.No: 131 Renu is a friend of Seema who is a partner in a software firm on Sudha request Rani accompanies her to a business meeting with Mohan softwares and actively part that company Identify the kind of partner involved in this case
2418591

रेनु सीमा की मित्र है जो एक सॉफ्टवेयर फर्म में साझेदार है, सुधा के अनुरोध पर रानी उसके साथ मोहन सॉफ्टवेयर के साथ एक व्यावसायिक बैठक में जाती है और वहां एक व्यवसाय के लिए बातचीत प्रक्रिया में सक्रिय

Nominal partner

A

नामित साझेदार

Partner by estoppel

B

एस्ट्रोपेल द्वारा साझेदार

Dormant partner

C

सुषुप्त साझेदार

Active partner

D

सक्रिय साझेदार

Correct Ans : B

Q.No: 132 Which of the following services does not comes under business services

2418594

निम्नलिखित में से कौन-सी सेवा व्यावसायिक सेवाओं के अंतर्गत नहीं आती है

Banking

A

बैंकिंग

Insurance

B

बीमा

Education services provided by NGOs

C

गैर सरकारी संगठनों (एनजीओ) द्वारा प्रदान की जाने वाली शिक्षा सेवाएं

Transportation

D

परिवहन

Correct Ans : C

Q.No: 133 Any confidential information related to formula or process which provides a competitive edge is

2418690

फॉर्मूला या प्रक्रिया से संबंधित कोई गोपनीय जानकारी जो प्रतिस्पर्धा में बढ़त प्रदान करती है वह है

Trade secrets

A

व्यापारिक रहस्य

Geographical indication

B

भौगोलिक संकेत

Traditional knowledge

C

पारंपरिक ज्ञान

Trademark

D

ट्रेडमार्क

Correct Ans : A

Q.No: 134 _____ is any word, name or symbol or their combination that identifies the goods made by the individual Company organisation

2418691

_____ एक शब्द, नाम या प्रतीक या उनका संयोजन होता है जो किसी विशेष कंपनी संगठन द्वारा बनाए गए माल की पहचान करता है

Copyright

A

कॉपीराइट

Trademark

B

ट्रेडमार्क

Patent

C

पेटेंट

Geographical indication

D

भौगोलिक संकेत

Correct Ans : B

Q.No: 135 _____ is payable on all inter State supply of goods or services

2418698

_____ माल या सेवाओं या दोनों की सभी राज्यों के अंदर आपूर्ति पर देय होता है

CGST

A

सीजीएसटी

SGST

B

एसजीएसटी

Property tax

C

संपत्ति कर

IGST

D

आईजीएसटी

Correct Ans : D

Q.No: 136 Objective of marketing management is

2418721

विपणन प्रबंधन के उद्देश्य होते हैं

Creating customers

A

ग्राहकों का सृजन करना

Customers dissatisfaction

B

ग्राहकों की असंतुष्टि

No consumer orientation

C

कोई उपभोक्ता उन्मुखता नहीं

Non realisation of organisation goal

D

सांगठनिक लक्ष्य की अप्राप्ति

Correct Ans : A

Q.No: 137 An attempt to find new uses for existing products and Creations of new users, it is reinventing is known as

2418724

किसी मौजूदा उत्पाद का नया उपयोग तलाश करने का प्रयास और नए उपयोगकर्ता के सृजन को किस नाम से जाना जाता है

Synchro marketing

A

सिंक्रोमार्केटिंग

Counter marketing

B

काउंटर मार्केटिंग

Remarketing

C

रिमार्केटिंग

Over marketing

D

ओवर मार्केटिंग

Correct Ans : C

Q.No: 138 Product design is not influenced by

2418730

उत्पाद का डिजाइन निम्नलिखित में से किसके द्वारा अभिप्रेरित नहीं होता है

External appearance

A

बाह्य दृश्य-उपस्थिति

B **Service requirements**

सेवा आवश्यकताएं

Competitors design

C

प्रतिस्पर्धी डिजाइन

Transportation

D

परिवहन

Correct Ans : D

Q.No: 139 Identify the incorrect statement.

2418746

Marketing segmentation strategy is:

गलत वकतव्य की पहचान करें।

बाजार विभाजन रणनीति होती है:

Identifiable & measurable

A

पहचान करने योग्य और मापने योग्य होती है

Give evidence of adequate market potential

B

यथोचित बाजार संभावना के लिए साक्ष्य प्रदान करती है

It is not economically accessible

C

यह आर्थिक रूप से एक्सेस योग्य होती है

It is relative stable over a period of time

D

यह लम्बी अवधि में अपेक्षाकृत स्थिर होती है

Correct Ans : C

Q.No: 140 Which of the following does not comes under the features of Management as a profession

2418782

निम्नलिखित में से कौन एक पेशे के रूप में प्रबंधन की विशेषताओं के अंतर्गत नहीं है

Unrestricted entry

A

अप्रतिबंधित प्रवेश

Specialised body of knowledge

B

ज्ञान का विशिष्ट ढांचा

Professional Association

C

पेशेवर संघ

Code of conduct

D

आचार संहिता

Correct Ans : A

Q.No: 141 Identify the incorrect statement from the following-

2418787

निम्नलिखित में से गलत कथन चिह्नित करें-

A managerial principle is a broad and general guideline for decision making and behaviour.

A

प्रबंधकीय सिद्धांत निर्णय सृजन और व्यवहार के लिए व्यापक और सामान्य दिशानिर्देश है।

B

Principles of management are pure science

प्रबंधन के सिद्धांत विशुद्ध विज्ञान हैं

Principles of management differs from techniques of management.

C

प्रबंधन के सिद्धांत, प्रबंधन की तकनीकों से भिन्न होते हैं।

Principles of management differs from values

D

प्रबंधन के सिद्धांत, मूल्यों से भिन्न होते हैं

Correct Ans : B

Q.No: 142 The correct sequence of Management as a Process is
2418788

एक प्रक्रिया के रूप में प्रबंधन का सही क्रम कौन-सा है

Directing, organising, planning, staffing, controlling

A

निर्देशन, आयोजन, योजना, स्टाफिंग, नियंत्रण

Organising, staffing, planning, directing, controlling

B

आयोजन, स्टाफिंग, योजना, निर्देशन, नियंत्रण

Staffing, planning, organising, controlling ,directing

C

स्टाफिंग, योजना, आयोजन, नियंत्रण, निर्देशन

Planning, organising, staffing, directing and controlling

D

योजना, आयोजन, स्टाफिंग, निर्देशन और नियंत्रण

Correct Ans : D

Q.No: 143 Tax imposed on the production of a Firm
2418935

एक फर्म के उत्पादन पर लगाया गया कर

Excise duty or excise tax

A

उत्पाद शुल्क या उत्पाद कर

Income tax

B

आयकर

Municipal tax

C

नगर कर

Fringe benefit tax

D

फ्रिज बेनिफिट टैक्स

Correct Ans : A

Q.No: 144 Who is known as the "lender of last resort"
2418941

किन्हें "अंतिम उपाय के ऋणदाता" के रूप में जाना जाता है

SBI

A

SBI

RBI

B

RBI

PNB

C

PNB

D **BoB****BoB**Correct Ans : **B**Q.No: 145 NSE & BSE are example of -
2418945

NSE और BSE इसका उदाहरण है

Primary market

A

प्राथमिक बाजार

Secondary market**B**

द्वितीयक बाजार

Employment agencies

C

रोजगार एजेंसियां

Non-government organization

D

गैर सरकारी संगठन

Correct Ans : **B**Q.No: 146 Which of the following comes under factors affecting industrial analysis
2418947

निम्नलिखित में से कौन औद्योगिक विश्लेषण को प्रभावित करने वाले कारकों के अंतर्गत आता है

Growth rates of national income and related measures

A

राष्ट्रीय आय की वृद्धि दर और संबंधित उपाय

Inflation

B

मुद्रास्फीति

Product life cycle

C

उत्पाद जीवन चक्र

Growth rates of industrial sector

D

औद्योगिक क्षेत्र की विकास दर

Correct Ans : **C**Q.No: 147 The public company has a minimum of _____ members
2419005

सार्वजनिक कंपनी में कम से कम ----- सदस्य होते हैं

3

A

3**2**

B

2**4**

C

4**7**

D

7Correct Ans : **D**

Q.No: 148 Which of the following is not a merit of government company?

2419010

निम्नलिखित में से कौन एक सरकारी कंपनी की योग्यता नहीं है?

Separate legal entity

A

स्वतंत्र कानूनी इकाई

Enjoys autonomy in all management decisions

B

सभी प्रबंधन निर्णयों में स्वायत्तता प्राप्त करता है

It is not answerable directly to the parliament

C

यह सीधे संसद के प्रति जवाबदेह नहीं है

Provides goods and services at reasonable prices, market control and curb unhealthy business practices

D

उचित मूल्य पर सामान और सेवाएं प्रदान करता है, बाजार नियंत्रण और अस्वास्थ्यकर व्यावसायिक सेवाओं पर अंकुश लगाता है

Correct Ans : C

Q.No: 149 Which of the following comes under fixed asset?

2419015

निम्नलिखित में से कौन-सा, अचल परिसंपत्ति के अंतर्गत आता है?

Plant and machinery

A

संयंत्र और मशीनरी

Stationery items

B

स्थैतिक मदें

Repairing goods

C

माल की मरम्मत

Debtors

D

देनदार

Correct Ans : A

Q.No: 150 Which of the following is an incorrect statement

2419030

निम्नलिखित में से कौन-सा कथन गलत है

Amount of rent paid is shown on the debit side of the profit and loss account

A

भुगतान किए गए किराए की राशि लाभ और हानि खाते के डेबिट पक्ष पर दिखाई जाती है

Carriage inwards are debited to the trading account

B

आंतरिक ढुलाई को ट्रेडिंग खाते में डेबिट किया जाता है

Interest paid is debited to profit and loss account

C

भुगतान किया गया ब्याज लाभ और हानि खाते में डेबिट किया जाता है

Commission paid is credited to profit and loss account

D

भुगतान किया गया कमीशन लाभ और हानि खाते में क्रेडिट किया जाता है

Correct Ans : D

Q.No: 151 What should come in place of the question mark (?) in the following question?

2421521

$\sqrt{361} = ? - 14^2 - 17 \times 7$

निम्नलिखित प्रश्न में प्रश्नवाचक चिह्न (?) के स्थान पर क्या आना चाहिए?

$$\sqrt{361} = ? - 14^2 - 17 \times 7$$

20

A

20

23

B

23

27

C

27

334

D

334

Correct Ans : D

Q.No: 152 What should come in place of the question mark (?) in the following question?

2421522 $12.5\% \text{ of } 240 + 200\% \text{ of } 27 = ? \times 12$

निम्नलिखित प्रश्न में प्रश्नवाचक चिह्न (?) के स्थान पर क्या आना चाहिए?

$$240 \text{ का } 12.5\% + 27 \text{ का } 200\% = ? \times 12$$

5

A

5

6

B

6

7

C

7

8

D

8

Correct Ans : C

Q.No: 153 What should come in place of the question mark (?) in the following question?

2421525 $38^2 + 60\% \text{ of } 1350 - 16 \times 28 = ?$

निम्नलिखित प्रश्न में प्रश्नवाचक चिह्न (?) के स्थान पर क्या आना चाहिए?

$$38^2 + 1350 \text{ का } 60\% - 16 \times 28 = ?$$

1842

A

1842

1956

B

1956

1620

C

1620

1806

D

1806

Correct Ans : D

Q.No: 154
2421526 What should come in place of the question mark (?) in the following question?

$$\sqrt{656 \div 16 - 552 \div 24 + 14 \times 17} = ?$$

निम्नलिखित प्रश्न में प्रश्नवाचक चिह्न (?) के स्थान पर क्या आना चाहिए?

$$\sqrt{656 \div 16 - 552 \div 24 + 14 \times 17} = ?$$

22

A

22

19

B

19

16

C

16

21

D

21

Correct Ans : C

Q.No: 155 Find the smallest fraction of the following fractions?

2421555

निम्नलिखित भिन्न में से सबसे छोटी भिन्न ज्ञात कीजिए-

$$\frac{47}{137}$$

A

$$\frac{47}{137}$$

$$\frac{15}{49}$$

B

$$\frac{15}{49}$$

$$\frac{8}{25}$$

C

$$\frac{8}{25}$$

$$\frac{26}{73}$$

D

$$\frac{26}{73}$$

Correct Ans : B

Q.No: 156 Find the smallest fraction of the following fractions?

2421561

निम्नलिखित भिन्न में से सबसे छोटी भिन्न ज्ञात कीजिए-

$$\frac{8}{19}$$

A

$$\frac{8}{19}$$

B

$$\frac{15}{34}$$

$$\frac{15}{34}$$

$$\frac{23}{56}$$

C

$$\frac{23}{56}$$

$$\frac{55}{11}$$

D

$$\frac{55}{11}$$

Correct Ans : C

Q.No: 157 **2421565** If $\frac{24+6 \times 80}{16+4 \times 60} = t \times 7 \text{ of } 9 \div 32$, तो $t = ?$

यदि $\frac{24+6 \times 80}{16+4 \times 60} = t \times 7 \text{ of } 9 \div 32$, तो $t = ?$

1.25

A

1.25

0

B

0

1

C

1

-1

D

-1

Correct Ans : C

Q.No: 158 **2421602** Z is the largest 4 digit number, which when divided by 4, 5, 6 and 7 leaves remainders as 2, 3, 4, and 5 respectively. What will be the remainder when Z is divided by 11?

Z, 4 अंकों की सबसे बड़ी संख्या है, जिसे 4, 5, 6 तथा 7 से विभाजित करने पर शेषफल क्रमशः 2, 3, 4 तथा 5 आता है। जब Z को 11 से विभाजित किया जाये, तो शेषफल क्या होगा?

1

A

1

0

B

0

4

C

4

10

D

10

Correct Ans : B

Q.No: 159 **2421611** The ratio of the sum and the LCM of two natural numbers is 7 : 12. If their HCF is 4, then what is the smaller number ? दो प्राकृतिक संख्याओं का योग तथा उनके ल.स. का अनुपात क्रमशः 7 : 12 है। यदि उनका म.स.4 है, तो छोटी संख्या क्या है?

A

20

20

B

16

16

C

12

12

D

8

8

Correct Ans : C

Q.No: 160 What will be the remainder when $52 + 55 + 42 + 18$ is divided by 6?**2421637** $52 + 55 + 42 + 18$ को 6 से भाग देने पर शेषफल क्या होगा?

- A **4**
4
- B **5**
5
- C **7**
7
- D **8**
8

Correct Ans : B

Q.No: 161 28935 is exactly divisible by which of the following?

2421663 28935 निम्नलिखित में से किसके द्वारा पूर्णतः विभाज्य है?

- A **9**
9
- B **7 and 9**
7 और 9
- C **11**
11
- D **15 and 7**
15 और 7

Correct Ans : A

Q.No: 162 If a man saves half of his income then he can buy a laptop after one year. By what percent he should increase his saving to buy the laptop in 9 month.

2421678

यदि एक व्यक्ति अपनी आय का आधा हिस्सा बचाकर एक साल बाद एक लैपटॉप खरीदता है, तो 9 महीने में एक लैपटॉप खरीदने के लिए उसे अपना बचत कितने प्रतिशत बढ़ाना होगा?

26 $\frac{2}{3}$ %

A

26 $\frac{2}{3}$ %

40%

B

40%

33 $\frac{1}{3}$ %

C

33 $\frac{1}{3}$ %

30%

D

30%

Correct Ans : C

Q.No: 163 In an examination, 80% students passed in Physics, 70% in Chemistry while 15% failed in both subjects. If 325 students passed in both the subjects, find the total number of students who appeared in the examination?

2421704

एक परीक्षा में, 80% विद्यार्थी भौतिक विज्ञान में, 70% रसायन विज्ञान में पास हुए जबकि 15% दोनों विषयों में फेल हुए। यदि 325 विद्यार्थी दोनों विषयों में पास हुए, तो कुल कितने विद्यार्थी परीक्षा में सम्मिलित हुए?

500

A

500

400

B

400

300

C

300

D **600****600**

Correct Ans : A

Q.No: 164 **2421719** By selling a keyboard for Rs. 350 instead of Rs. 400, Loss percent increases by 5%. The cost price of keyboard is?

एक कीबोर्ड को 400 रुपये के बदले 350 में बेचने पर प्रतिशत हानि 5% बढ़ जाती है, तो कीबोर्ड का लागत मूल्य ज्ञात करें?

Rs. 1,050

A

₹. 1,050**Rs. 417.50**

B

₹. 417.50**Rs. 435**

C

₹. 435**Rs. 1,000**

D

₹. 1,000

Correct Ans : D

Q.No: 165 **2421723** To Gain 10% on selling the mixture of milk and water at the cost price of pure milk. The quantity of water to be mixed with 50 kg of pure milk is?

50 कि.ग्रा. शुद्ध दूध में कितना पानी मिलाया जाए कि मिश्रण को शुद्ध दूध के लागत मूल्य पर बेचने पर 10% का लाभ हो।

2.5 kg

A

2.5 कि.ग्रा.**5 kg**

B

5 कि.ग्रा.**7.5 kg**

C

7.5 कि.ग्रा.**10 kg**

D

10 कि.ग्रा.

Correct Ans : B

Q.No: 166 **2421745** On selling an article for Rs. 800, a person loses 20% of its selling price. At what price should he sell it to gain 25% on its cost price?

Rs. 800 के एक वस्तु को बेचने पर, एक व्यक्ति को इसके विक्रय मूल्य का 20% हानि हो जाती है। उसे अपनी क्रय मूल्य का 25% प्राप्त करने के लिए उसे किस मूल्य पर बेचना चाहिए?

Rs. 1,280

A

Rs. 1,280**Rs. 1,152**

B

Rs. 1,152

C

Rs. 1,250

Rs. 1,250**Rs. 1,200****D****Rs. 1,200**

Correct Ans : D

Q.No: 167 [2421758](#) The simple interest on a certain sum at 5% per annum for 3 years and 4 year difference is Rs. 4.2. The sum is:

किसी राशि पर 5% वार्षिक ब्याज की दर से 3 वर्षों और 4 वर्षों में प्राप्त साधारण ब्याजों में रु. 4.2 का अंतर है। वह राशि बताओ।

Rs. 92

A

रु. 92**Rs. 74**

B

रु. 74**Rs. 80**

C

रु. 80**Rs. 84**

D

रु. 84

Correct Ans : D

Q.No: 168 [2421770](#) Two sums of money in the ratio of 4:5 are borrowed for a period of 5 years. The rate of interest on the two sums are in the ratio of 4:5 and the total simple interest

4:5 के अनुपात में दो रकम का पैसा 5 साल की अवधि के लिए उधार लिया जाता है। दोनों रकमों पर ब्याज की दर 4:5 के अनुपात में है और दोनों रकमों पर कुल साधारण ब्याज 1,23,00 रुपये है। दो राशियों पर स

Rs. 1500

A

रु. 1500**Rs. 3200**

B

रु. 3200**Rs. 2700**

C

रु. 2700**Rs. 1800**

D

रु. 1800

Correct Ans : C

Q.No: 169 [2421779](#) At what percent per annum will Rs. 4000 amounts Rs. 5324 in 3 years if the interest is compounded annually?

चक्रबद्धि ब्याज की किस दर पर 4000 रुपए की राशि 3 वर्षों में 5324 रुपए हो जाएगी?

8%

A

8%**10%**

B

10%**12.5%**

C

12.5%

D

12%

12%

Correct Ans : B

Q.No: 170 An office opens at 10 AM and closes at 5 PM. The lunch interval is 30 minutes. The ratio of lunch interval to the total period of office hours is –
2421852

एक कार्यालय प्रातः 10 बजे खुलता है और सायं 5 बजे बंद होता है। भोजनावकाश 30 मिनट का होता है। भोजनावकाश और कार्यालय की कुल अवधि का अनुपात क्या है?

1 : 7

A

1 : 7

1 : 14

B

1 : 14

7 : 1

C

7 : 1

14 : 1

D

14 : 1

Correct Ans : B

Q.No: 171 The amount of extension in a spring is proportional to the weight hung on it. If the weight of 5 kgs produces an extension of 0.4 cm, what weight would produce an
2421855

एक कमानी में विस्तार की मात्रा उस पर लटके बाँट के अनुपात में है। यदि 5 किग्रा. का बाँट कमानी में 0.4 सेमी. का विस्तार करता है, तो 5 सेमी. का विस्तार करने के लिये कितने वजन की बाँट चाहिये?

6.25 kgs

A

6.25 किग्रा.

62.5 kgs

B

62.5 किग्रा.

4 kgs

C

4 किग्रा.

40 kgs

D

40 किग्रा.

Correct Ans : B

Q.No: 172 The average, of 3 consecutive natural numbers (which are in increasing order) is k. If two more consecutive number, just next the first set of numbers, is added, the
2421898

3 क्रमागत प्राकृत संख्याओं (जो कि बढ़ते क्रम में हैं) का औसत 'k' है। यदि इस समूह के आगे दो और क्रमागत संख्याओं को जोड़ दिया जाए तो नया औसत होगा:

k + 2

k + 2

B

k + 1

k + 1

 $\frac{2k+1}{2}$ $\frac{2k+1}{2}$

C

 $\frac{2k+1}{2}$ $\frac{2k+1}{2}$

D

2k - 1

2k - 1

Correct Ans : B

Q.No: 173 Find the ratio in which rice at Rs 7.20 a kilogram be mixed with rice at Rs 5.70 a kilogram to produce a mixture of worth Rs 6.30 a kilogram.
2421951

वह अनुपात ज्ञात कीजिए जिसमें 7.20 रु प्रति किलो मूल्य के चावल को 5.70 रु प्रति किलो मूल्य के चावल के साथ मिश्रित करके 6.30 रु प्रति किलो मूल्य का चावल प्राप्त किया जा सके।

1 : 3

1 : 3

B

2 : 3

2 : 3

C

3 : 4

3 : 4

D 4 : 5
4 : 5

Correct Ans : B

Q.No: 174 An Express train covers a distance of 3584 km in 2 days 8 hours. If it covers 1440 km on the first day and 1608 km on the second day, by how much does the average speed differ from the average speed of the train?
2421991

एक एक्सप्रेस रेलगाड़ी 3584 किमी. की दूरी को 2 दिन 8 घंटे में तय करती है। यदि यह पहले दिन 1440 किमी. तथा दूसरे दिन 1608 किमी. की दूरी तय करती है। ज्ञात कीजिए कि रेलगाड़ी की पूरी यात्रा की औसत गति कितनी है।
3 km/h

A

3 किमी/घं
4 km/h

B

4 किमी/घं
10 km/h

C

10 किमी/घं
2 km/h

D

2 किमी/घं

Correct Ans : A

Q.No: 175 P, Q & R can do work in 12, 15 & 20 days. Starting with P & second day Q & then R work completed in alternate days. Then in how many days work completed?
2422025

P, Q & R किसी काम को 12, 15 व 20 दिनों में कर सकते हैं। पहले दिन P दूसरे दिन Q व तीसरे दिन R काम करता है। इसी प्रकार वे बारी-बारी से काम करते हैं। तो बताइए कितने दिनों में काम समाप्त होगा?

12 days

A

12 दिन
15 days

B

15 दिन
8 days

C

8 दिन
6 days

D

6 दिन

Correct Ans : B

Q.No: 176 निम्नलिखित में से "कृतज्ञ" का सही समास विग्रह कौन-सा है?

- A कृत को मानने वाला।
B कृत को न मानने वाला।
C कृत और यज्ञ।
D जिसकी कृति की जा सके।

Correct Ans : A

Q.No: 177 निम्नलिखित में से उस शब्द का चयन कीजिए, जो प्रत्यय का प्रयोग कर बनाया गया है?

- A जिल्दसाज
B निर्जीव
C अनुकूल
D उत्पात

Correct Ans : A

Q.No: 178 "उपप्रधानमंत्री" में प्रयुक्त उपसर्ग निम्न में से कौन-सा है?

- A देशज उपसर्ग

- B विदेशज उपसर्ग
C तद्भव उपसर्ग
D तत्सम उपसर्ग

Correct Ans : D

Q.No: 179 निम्नलिखित में से कौन-सा शब्द व्यक्तिवाचक संज्ञा से संबंधित है?

- A गरीब
B बचपन
C भोपाल
D पानी

Correct Ans : C

Q.No: 180 निम्नलिखित में से कौन-सा वाक्य अनिश्चयवाचक सर्वनाम का सही उदाहरण है?

- A जो कहा गया वही करो।
B ये भ्रष्टाचार के प्रबल विरोधी है।
C अजय कुछ लाया था।
D मैं तो अपने आप ही जाता था।

Correct Ans : C

Q.No: 181 निम्नलिखित में से "तारीफ" का पर्यायवाची शब्द क्या है?

- A प्रशस्ति
B लोकातीत
C सलिला
D उरग

Correct Ans : A

Q.No: 182 निम्नलिखित में से "आत्यन्तिक" का विलोम शब्द क्या है?

- A परिमित
B अनाहूत
C अनुकृत
D उत्थान

Correct Ans : A

Q.No: 183 निम्नलिखित में से शब्द-युग्म "भीत-भित्ति" के सही अर्थ भेद का चयन कीजिए-

- A भीख-पैसा
B डर - साहस
C डरा हुआ - दीवार
D दीवार - एक फल

Correct Ans : C

Q.No: 184 निम्न प्रश्न में अनेकार्थी शब्द दिए गए हैं। एक अर्थ शब्द के साथ ही लिखा है, दूसरा अर्थ बताइए-

अंकोर- रिश्वत

- A अज्ञानी
B अलि
C भेंट
D संजीवनी

Correct Ans : C

Q.No: 185 निम्नलिखित में से शुद्ध वर्तनी वाले शब्द का चयन कीजिए-

- A अंताक्षरी
B निष्छल
C कवयित्री
D वांगमय

Correct Ans : C

Q.No: 186 निम्नलिखित में से अशुद्ध वर्तनी वाले शब्द का चयन कीजिए-

- A शब्दावली
- B धर्मपरायण
- C अतिशयोक्ति
- D शुभ्रीज्वल

Correct Ans : D

Q.No: 187 निम्नलिखित में से असंगत/बेमेल शब्द का चयन कीजिए-

- A स्वाद
- B बदबू
- C महक
- D सुगंध

Correct Ans : A

Q.No: 188 निम्नलिखित में से "एक और जिन्दगी" के रचनाकार कौन है?

- A मोहन राकेश
- B तुलसीदास
- C वीरेश्वर सिंह
- D बिहारीलाल

Correct Ans : A

Q.No: 189 निम्नलिखित में से कौन-सा विकल्प पुल्लिंग- स्त्रीलिंग का सही युग्म नहीं है?

- A भगवान-भगवती
- B प्रियतम- प्रियतमा
- C बलवान- बलवानी
- D श्रीमान-श्रीमती

Correct Ans : C

Q.No: 190 निम्नलिखित में से भिन्न लिंग वाले शब्द का चयन कीजिए-

- A प्राणी
- B दशा
- C आलू
- D काजू

Correct Ans : B

Q.No: 191 निम्नलिखित में से अपूर्णभूतकाल के सही उदाहरण का चयन कीजिए-

- A लड़के दौड़ रहे होंगे।
- B प्रताप घूमिबर्सिटी गया है।
- C वह हँस रहा था।
- D विकास ने कल ही पुस्तक पढ़ ली थी।

Correct Ans : C

Q.No: 192 "एक और अजगरहि लखि, एक ओर मृगराय।

विक्रल बटोही बीच ही, परयो मूरछा खाय।"

उपर्युक्त पंक्तियों में कौन-सा रस है?

- A शांत रस
- B अद्भुत रस
- C भयानक रस
- D करुण रस

Correct Ans : C

Q.No: 193 "सोक बिकल एब रोवहि रानी।

रूप सीलु बल तेज बखानी॥

करहिं बिलाप अनेक प्रकारा।

परहिं भूमितल बारहिं बारा॥"

उपर्युक्त पंक्तियों में कौन-सा रस है?

- A शांत रस
- B हास्य रस
- C वीभत्स रस
- D करुण रस

Correct Ans : D

Q.No: 194 निम्नलिखित में से कर्तृवाच्य का वाक्य बताइए-

- A उसके द्वारा भोजन नहीं किया जाता।
- B हमलोगों से रोज नहाया जाता है।
- C मित्रों द्वारा विपत्ति में मदद की जाती है।
- D संसद में बजट पेश हुआ।

Correct Ans : D

Q.No: 195 "राजकुमार ने भाई को मार डाला और स्वयं राजा बन गया" यह एक संयुक्त वाक्य है जिसका सही सरल वाक्य क्या होगा?

- A राजकुमार ने भाई को मारा और राजा बन गया।
- B राजकुमार ने भाई को मारा एवं राजा बना।
- C राजा बनते ही राजकुमार मारा गया।
- D भाई को मारकर राजकुमार राजा बन गया।

Correct Ans : D

Q.No: 196 निर्देश: नीचे दिये गये प्रश्न को चार भागों में बाँटा गया है (A), (B), (C) और (D) क्रमांक दिए गए हैं। आपको यह देखना है कि वाक्य के किस भाग में व्याकरण, भाषा, वर्तनी, शब्दों के गलत प्रयोग या इसी तरह व यदि वाक्य त्रुटिरहित है तो कोई त्रुटि नहीं का चयन करें-

धनवान को व्यर्थ बेकार में //(A) सहायता देकर //(B) कोई लाभ न होगा //(C) कोई त्रुटि नहीं (D)

- A A
- B B
- C C
- D कोई त्रुटि नहीं

Correct Ans : A

Q.No: 197 निम्नलिखित में से शुद्ध वाक्य का चयन कीजिए-

- A सभी लोग अपना-अपना काम करें।
- B आपकी कविता श्रेष्ठतम है।
- C पठित समाज में अंधविश्वास नहीं है।
- D तुम दो बजे तक मेरी प्रतीक्षा देखना।

Correct Ans : A

Q.No: 198 निम्नलिखित में से किस वाक्य में योजक चिन्ह का प्रयोग किया गया है?

- A रोहन का भाई भूखा-प्यासा होगा।
- B कल्पना ने सुनीता से कहा, "अपने घर जाओ।"
- C 10% छूट के साथ पुस्तक की 100 प्रतियाँ भेज दें।
- D विज्ञान: वरदान या अभिशाप।

Correct Ans : A

Q.No: 199 निम्नलिखित में से किस मुहावरे का अर्थ "लज्जित हो जाना" है?

- A पानी उतर जाना।
- B पेट में दाढ़ी होना।
- C पगड़ी रखना।
- D नाक का बाल होना।

Correct Ans : A

Q.No: 200 निम्नलिखित में से किस लोकोक्ति का अर्थ "स्वार्थी और मजबूर व्यक्ति अनचाहा कार्य भी करता है" है?

- A आँख का अँधा नाम नयनसुख।
- B ओखली में सर दिया तो मूसलों से क्या डरे।
- C

ऊँची दुकान फीका पकवान।

D अटका बनिया देय उधार।

Correct Ans : **D**